

تم تحميل وعرض المادة من منصة

حقيبتك

www.haqibati.net



منصة حقيبتك التعليمية


منصة حقيبتك هو موقع تعليمي يعمل على تسهيل العملية التعليمية بطريقة بسيطة وسهلة وتوفير كل ما يحتاجه المعلم والطالب لكافة الصفوف الدراسية كما يحتوي الموقع على حلول جميع المواد مع الشروح المتنوعة للمعلمين.

المملكة العربية السعودية

وزارة التعليم

الإدارة العامة للتعليم بمنطقة

VISION 2030
مملكة Saudi Arabia



وزارة التعليم
Ministry of Education

ملزمة وأوراق عمل مادة العلوم

الصف الاول الابتدائي


الفصل الدراسي الأول لعام ١٤٤٥ هـ

الاسم :

الفصل :

العلوم






حقيبتين

www.haqibati.net



الفصل الأول






الدرس الأول: المخلوقات الحية

يقوم الطالب بالمقارنة بين المخلوقات الحية والأشياء
غير الحية ويصنفها..








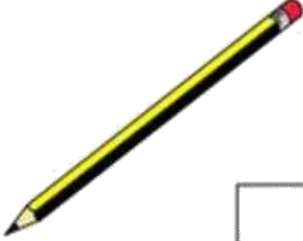




-أحوط المخلوقات الحية باللون الأزرق و الأشياء الغير
حية باللون الأحمر:






تعرف إلى الكائنات الحية

اختر الكائن الحي.

 <input type="checkbox"/>	 <input type="checkbox"/>	 <input type="checkbox"/>
 <input type="checkbox"/>	 <input type="checkbox"/>	 <input type="checkbox"/>
 <input type="checkbox"/>	 <input type="checkbox"/>	 <input type="checkbox"/>
 <input type="checkbox"/>	 <input type="checkbox"/>	 <input type="checkbox"/>



الدرس الأول : المخلوقات الحية ٢

اختر الجواب الصحيح:

(١) كل مما يلي عبارة عن مخلوق حي إلا:



(٢) أي مما يلي مخلوق حي:



صل كل صورة بما يُناسبها:




كانن حي



شيء غير حي







الدرس الثاني: النباتات وأجزاؤها

يقوم الطالب بالتعرف على أجزاء النبات (الجنور والسيقان
وصف وظائف أجزاء النبات).

اصل المفردات في مكانها الصحيح :

الأزهار	الساق	الأوراق	الجنور
---------	-------	---------	--------





صل كل صورة بما يُناسبها:



جُدُور



أوراق




ساق





الفصل الثاني



الدرس الثالث: نمو النباتات

يوضح أهمية الثمار والأزهار للنباتات



صل بين الصورة والكلمة المناسبة لها:



الثمرة

البادرة

البدور

الزهرة

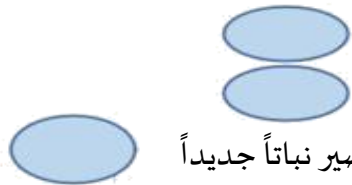


ضع علامة (صح) أمام العبارة:

١. جزء النبات الذي يحمي البذور

٢. تنبت البذرة ثم تنمو وتكون

٣. جزء النبات الذي ينبت، ثم ينمو ليصير نباتاً جديداً





صل كل مرحلة من مراحل حياة نبات الفاصولياء بالرقم المناسب:




5

4

3

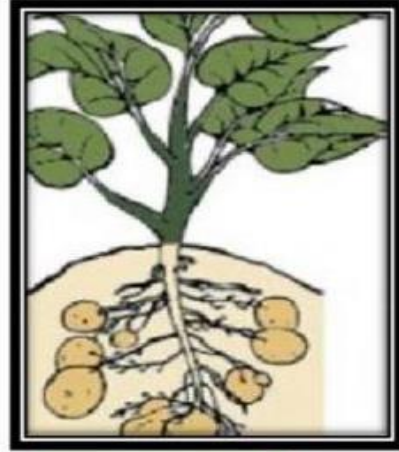

2


1





هيا يا صغيري رتب مراحل نمو النبات





اختار الإجابة الصحيحة:

١. موطن تنمو في أشجار كثيرة وطويلة (الغابة - الصحراء - البحيرة)
٢. موطن تعيش فيه الجمال (الغابة - الصحراء - البحيرة)
٣. منطقة واسعة فيها أعشاب كثيرة (الغابة - الصحراء - البحيرة)

صل بين الصورة والكلمة المناسبة لها:

المنطقة العشبية

الغابة


البحيرة

الصحراء





الفصل الثالث



الدرس الخامس: أنواع الحيوانات

يرى أنواع متعددة من الحيوانات ويقوم بوصفها
يشرح أوجه التشابه والاختلاف بين الحيوانات



صل بين الصورة والكلمة المناسبة:



زاحف

ثدي

حشرة

طائر

برماني

اختر الجواب الصحيح:

١. حيوانات لها زعانف تعيش في الماء. (الثدييات - الطيور - الأسماك)

٢. العناكب من الحشرات (صح - خطأ).

٣. بعض الزواحف يغطي جسمها درع تحميها (صح - خطأ).





السؤال الأول ضع علامة (√) أو (X) أما العبارات التالية

تحتاج الطيور إلي الخياشيم لتأكل



البرمائيات لها جلد ناعم ورطب



يغطي أجسام بعض الثدييات شعر



السؤال الثاني : ضع دائرة حول الحيوان الذي يغطي جسمه ريش





الدرس السادس: الحيوانات وحاجاتها

يستطيع الربط بين شكل أسنان الحيوان والطعام المناسب لتناوله

يستطيع تصنيف الحيوانات بناء على نوع طعامها

صل كل حيوان مع نمط غذائه:



آكلات اللحوم



آكلات الأعشاب



اختر الجواب الصحيح:



١. عثر أحمد على جمجمة حيوان في البرية:
تعود هذه الجمجمة لحيوان: (آكلات الأعشاب - آكلات اللحوم)





صل الحيوان مع الأسنان المناسبة له:




آكلات نبات



آكلات لحوم





الدرس السادس: الحيوانات وحاجاتها (٢)

يشرح كيفية حصول الحيوانات المختلفة على حاجاتها



صل كل حيوان بطريقة تنقله:



السباحة



الركض



الزحف



الطيران

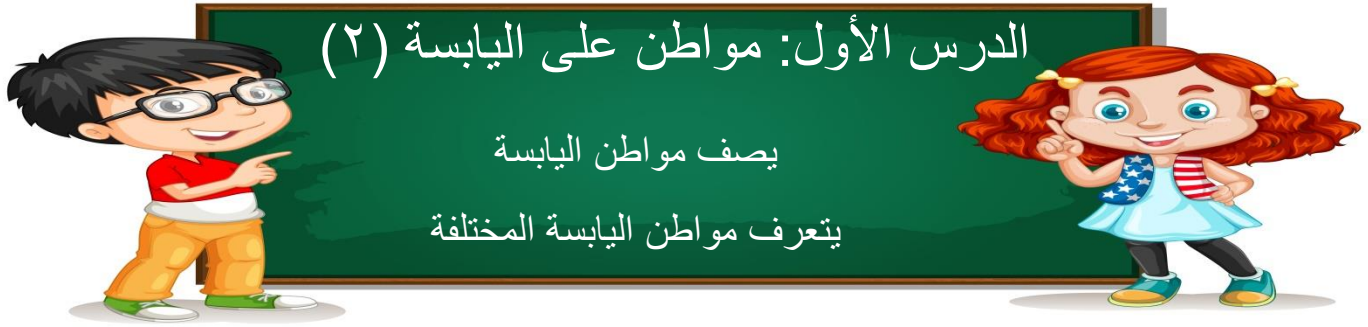



صل كل حيوان بـغذائـه المناسب :





الفصل الرابع



الدرس الأول: مواطن على اليابسة (٢)

يصف مواطن اليابسة
يتعرف مواطن اليابسة المختلفة

صل كل حيوان بالمنطقة التي يعيش فيها:



الصحراء



المنطقة العشبية





صل الحيوانات بأماكن عيشها:




المملكة العربية السعودية

وزارة التعليم

الإدارة العامة للتعليم بمنطقة

VISION 2030
رؤية 2030



وزارة التعليم
Ministry of Education

ملزمة وأوراق عمل مادة العلوم

الصف الأول الابتدائي

الفصل الدراسي الأول لعام ١٤٤٥ هـ


الاسم :

الفصل :

إجابات


العلوم





الفصل الأول







الدرس الأول: المخلوقات الحية

يقوم الطالب بالمقارنة بين المخلوقات الحية والأشياء غير الحية ويصنفها..













-أحوط المخلوقات الحية باللون الأزرق و الاشياء الغير حية باللون الأحمر:






تعرف إلى الكائنات الحية

اختر الكائن الحي.

 <input checked="" type="checkbox"/>	 <input type="checkbox"/>	 <input type="checkbox"/>
 <input checked="" type="checkbox"/>	 <input checked="" type="checkbox"/>	 <input checked="" type="checkbox"/>
 <input checked="" type="checkbox"/>	 <input type="checkbox"/>	 <input type="checkbox"/>
 <input type="checkbox"/>	 <input checked="" type="checkbox"/>	 <input type="checkbox"/>







الدرس الأول : المخلوقات الحية ٢

اختر الجواب الصحيح:

١) كل مما يلي عبارة عن مخلوق حي إلا:



٢) أي مما يلي مخلوق





صل كل صورة بما يُناسبها:




كانت حي



شيء غير حي


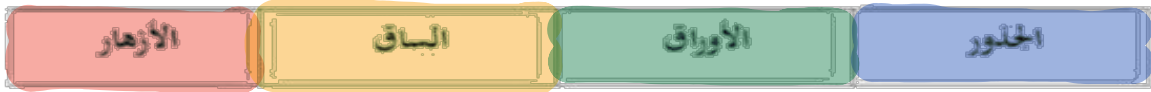


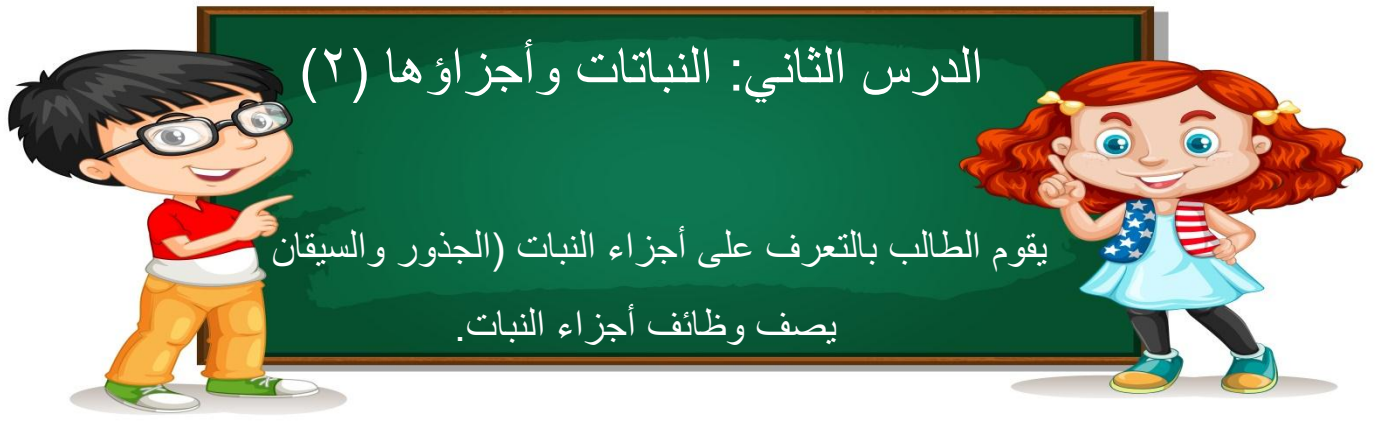



الدرس الثاني: النباتات وأجزاؤها

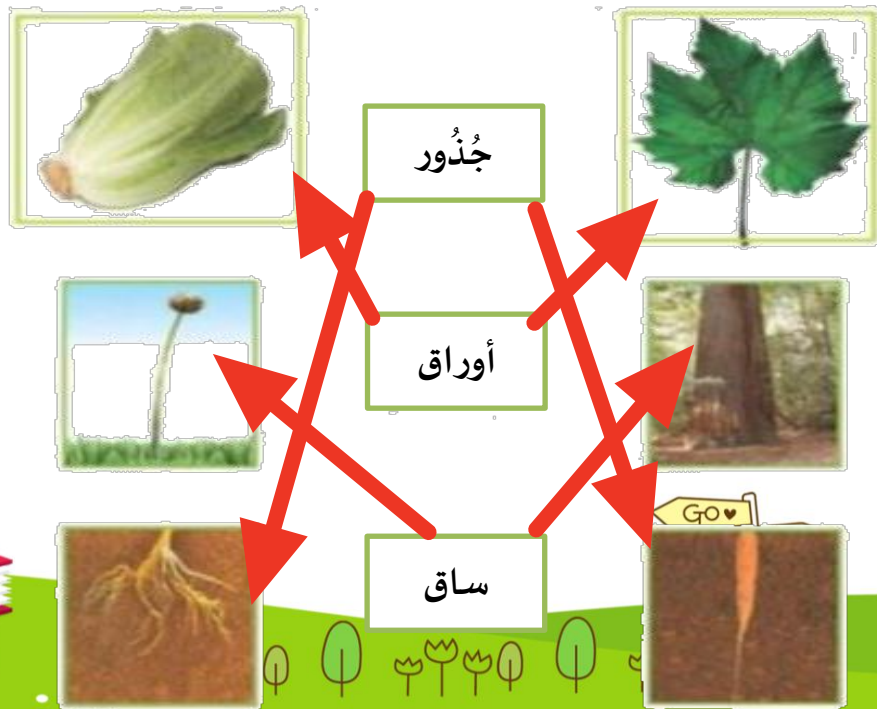
يقوم الطالب بالتعرف على أجزاء النبات (الجزور والسيقان والسيقان
يصف وظائف أجزاء النبات.

اصل المفردات في مكانها الصحيح :



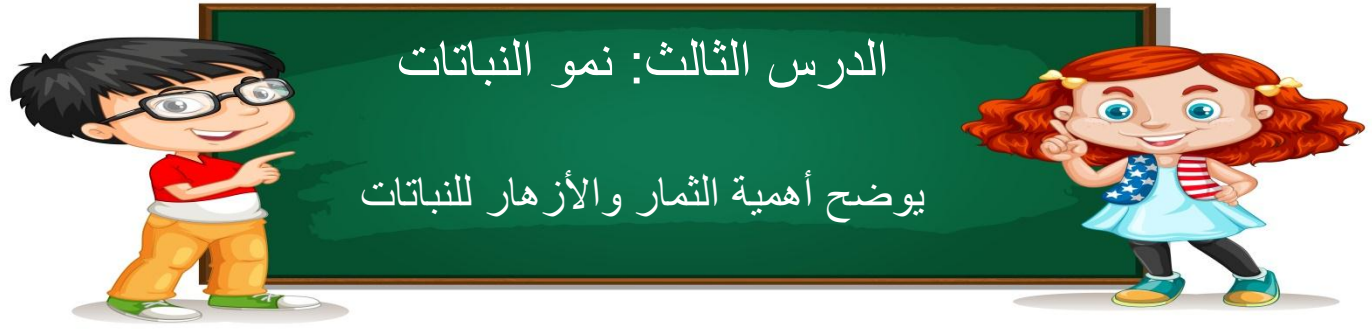



صل كل صورة بما يُناسيها:



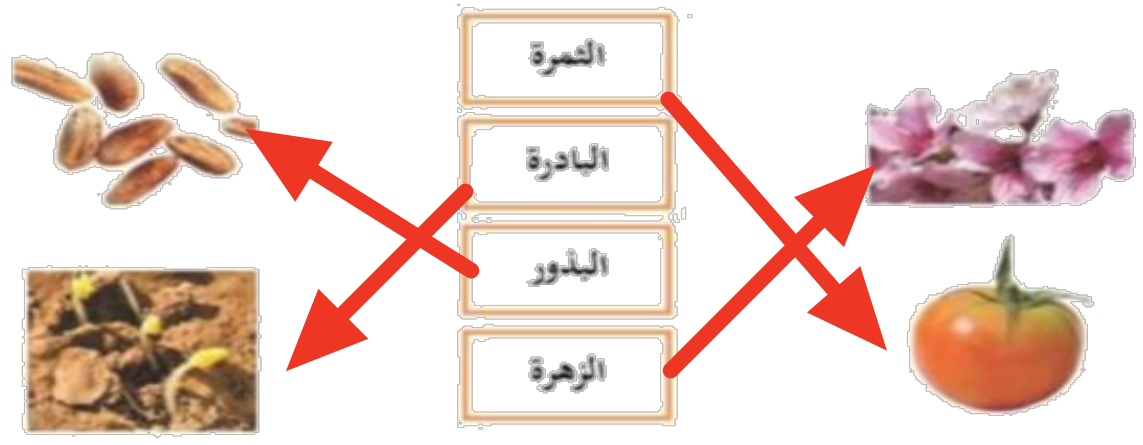


الفصل الثاني



الدرس الثالث: نمو النباتات
يوضح أهمية الثمار والأزهار للنباتات

صل بين الصورة والكلمة المناسبة لها:



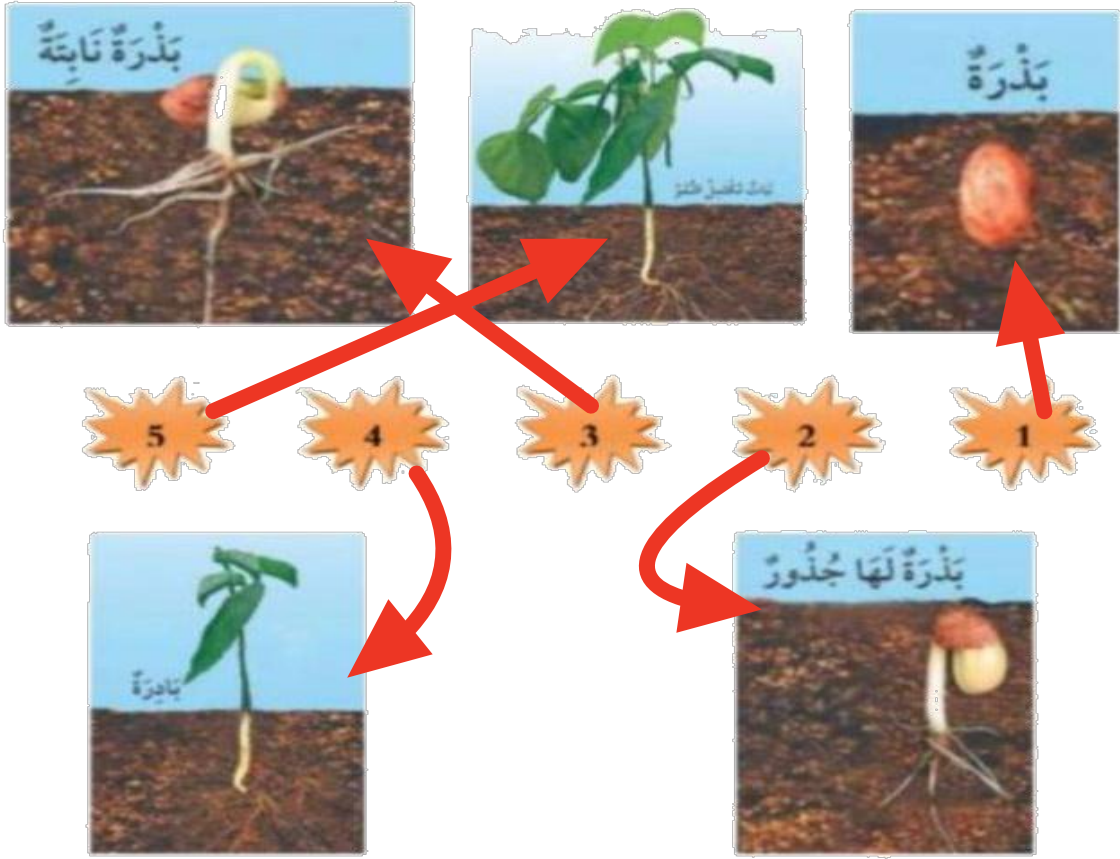
ضع علامة (صح) أمام العبارة:

- ✓ الثمرة ١. جزء النبات الذي يحيي البذور
- ✓ نبات ٢. تنبت البذرة ثم تنمو وتكون
- ✓ البذرة ٣. جزء النبات الذي ينبت، ثم ينمو ليصير نباتاً جديداً






صل كل مرحلة من مراحل حياة نبات الفاصولياء بالرقم المناسب:






هيا يا صغيرى رتب مراحل نمو النبات




٣



١




٢



٤





الدرس الرابع: تعيش النباتات في أماكن كثيرة

يقوم بوصف كيف يُمكن للنبات أن يعيش في أماكن كثيرة

يقوم بوصف بيئة الغابة ، وبيئة الصحراء أيضاً

اختار الإجابة الصحيحة:

١. موطن تنمو في أشجار كثيرة وطويلة (الغابة - الصحراء - البحيرة)
٢. موطن تعيش فيه الجمال (الغابة - الصحراء - البحيرة)
٣. منطقة واسعة فيها أعشاب كثيرة (الغابة - الصحراء - البحيرة)

صل بين الصورة والكلمة المناسبة لها:

المنطقة العشبية

الغابة


البحيرة

الصحراء





الفصل الثالث

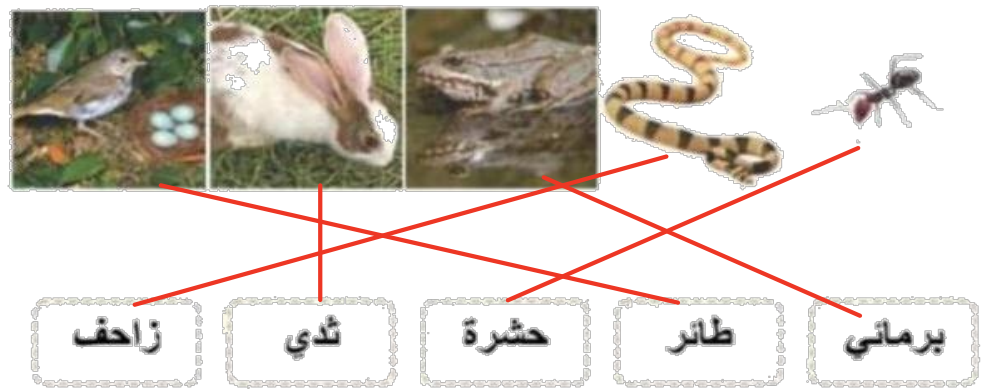


الدرس الخامس: أنواع الحيوانات

يرى أنواع متعددة من الحيوانات ويقوم بوصفها
يشرح أوجه التشابه والاختلاف بين الحيوانات



صل بين الصورة والكلمة المناسبة:



اختر الجواب الصحيح:

١. حيوانات لها زعانف تعيش في الماء. (الثدييات - الطيور -

الأسماك)

٢. العناكب من الحشرات (صح - خطأ).

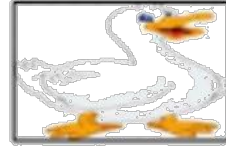




السؤال الأول ضع علامة (√) أو (X) أما العبارات التالية

X

تحتاج الطيور إلي الخياشيم لتأكل



✓

البرمائيات لها جلد ناعم ورطب




✓

يغطي أجسام بعض الثدييات شعر



السؤال الثاني : ضع دائرة حول الحيوان الذي يغطي جسمه ريش





الدرس السادس: الحيوانات وحاجاتها

يستطيع الربط بين شكل أسنان الحيوان والطعام المناسب لتناوله

يستطيع تصنيف الحيوانات بناء على نوع طعامها



صل كل حيوان مع نمط غذائه:



آكلات اللحوم



آكلات الأعشاب



اختر الجواب الصحيح:



١. عثر أحمد على جمجمة حيوان في البرية:


(آكلات الأعشاب - آكلات

تعود هذه الجمجمة لحيوان:





صل الحيوان مع الأسنان المناسبة له:




آكلات نبات



آكلات لحوم



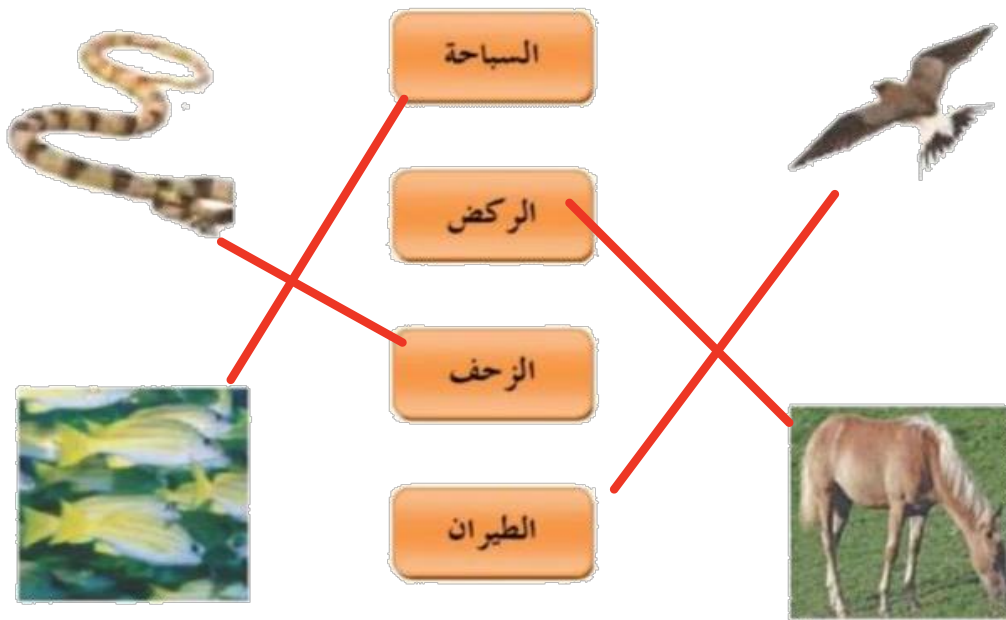


الدرس السادس: الحيوانات وحاجاتها (٢)


يشرح كيفية حصول الحيوانات المختلفة على حاجاتها



صل كل حيوان بطريقة تنقله:



صل كل حيوان بـغذائـه المناسب :





الفصل الرابع



الدرس الأول : مواطن على اليابسة ٢

- يقوم بوصف مواطن اليابسة.
- يتعلم أكثر عن مواطن اليابسة المختلفة.



صل كل حيوان بالمنطقة التي يعيش فيها:



الصحراء



المنطقة العشبية





صل الحيوانات بأماكن عيشها:

