

تم تحميل وعرض المادة من منصة

حقيبتك

www.haqibati.net



منصة حقيبتك التعليمية

منصة حقيبتك هو موقع تعليمي يعمل على تسهيل العملية التعليمية بطريقة بسيطة وسهلة وتوفير كل ما يحتاجه المعلم والطالب لكافة الصفوف الدراسية كما يحتوي الموقع على حلول جميع المواد مع الشروح المتنوعة للمعلمين.

الفصل الأول: النباتات

الدرس الأول : حاجات المخلوقات الحية

□ اقرأ - زواجي - ناقشي

الزمن : ()

أكمل الفراغات في القائمة (أ) بما يناسبها في القائمة (ب) فيما يأتي :

القائمة (ب)	القائمة (أ)
الأكسجين ⊙	⊙ هو الغاز الذي يتنفسه الحيوان والنبات
الماء ⊙	⊙ هي أجزاء صلبة غير حية من التربة
المعادن ⊙	

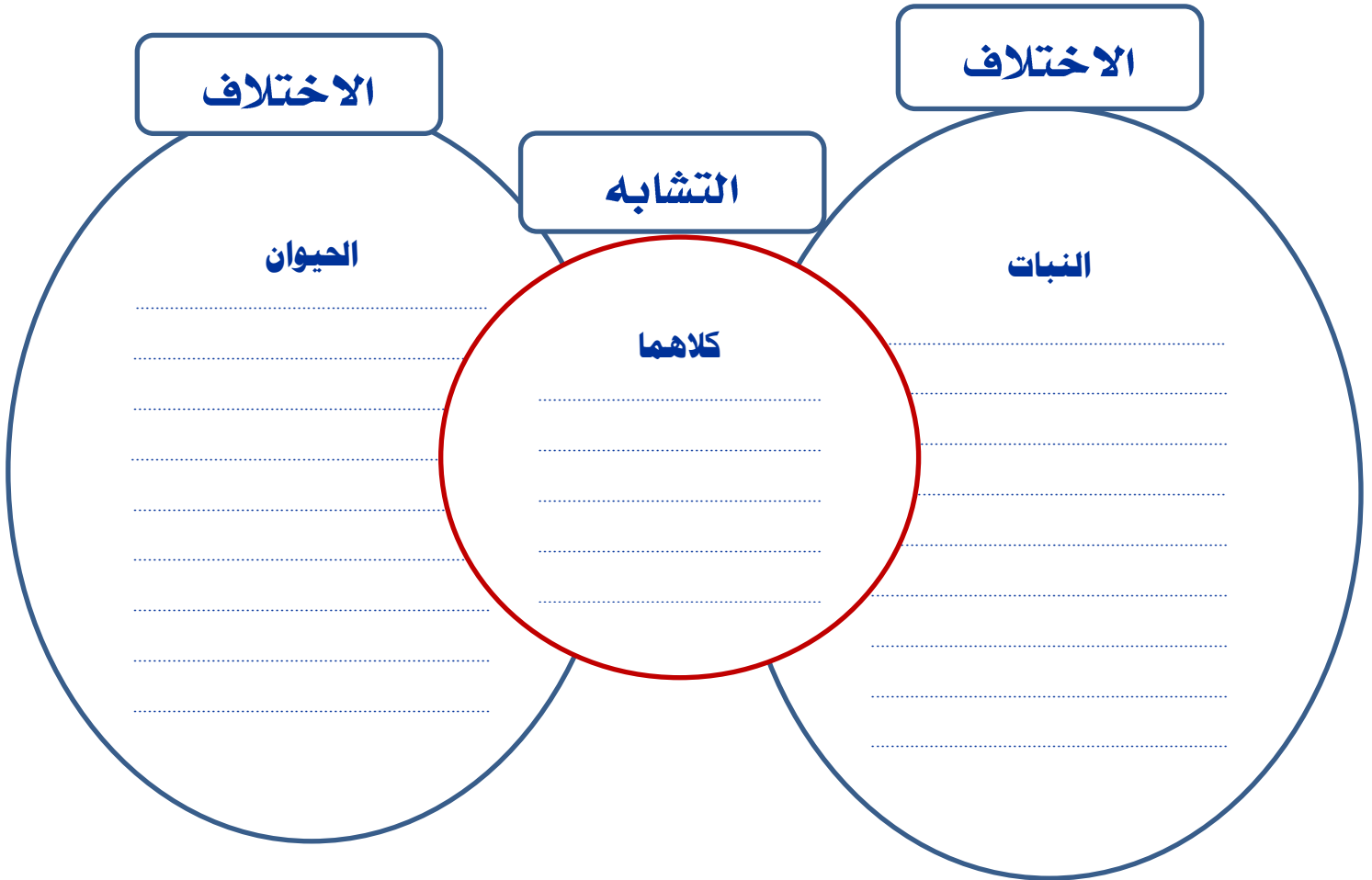
الفصل الأول : النباتات

الدرس الأول : حاجات المخلوقات الحية

□ بالتعاون مع أفراد مجموعتك أجيب عن الآتي

الزمن : ()

أقارن بين النبات والحيوان :



الفصل الأول : النباتات

الدرس الثاني : النباتات تنتج نباتات جديدة

□ اقرأ - زواجي - ناقشي

الزمن : ()

أكمل الفراغات في القائمة (أ) بما يناسبها في القائمة (ب) فيما يأتي :

القائمة (ب)	القائمة (أ)
	⊙ هو جزء من النبات له الوان مختلفة يكون البذور والثمار
⊙ البادرة	⊙ هو مسحوق يتكون داخل الزهرة يسهم في انتاج البذور
⊙ الزهرة	⊙ هي نبتة صغيرة في بدايتها نمو البذرة
⊙ البذرة	⊙ هو جزء من النبات ينمو ويصبح نباتا كبيرا
⊙ حبوب اللقاح	

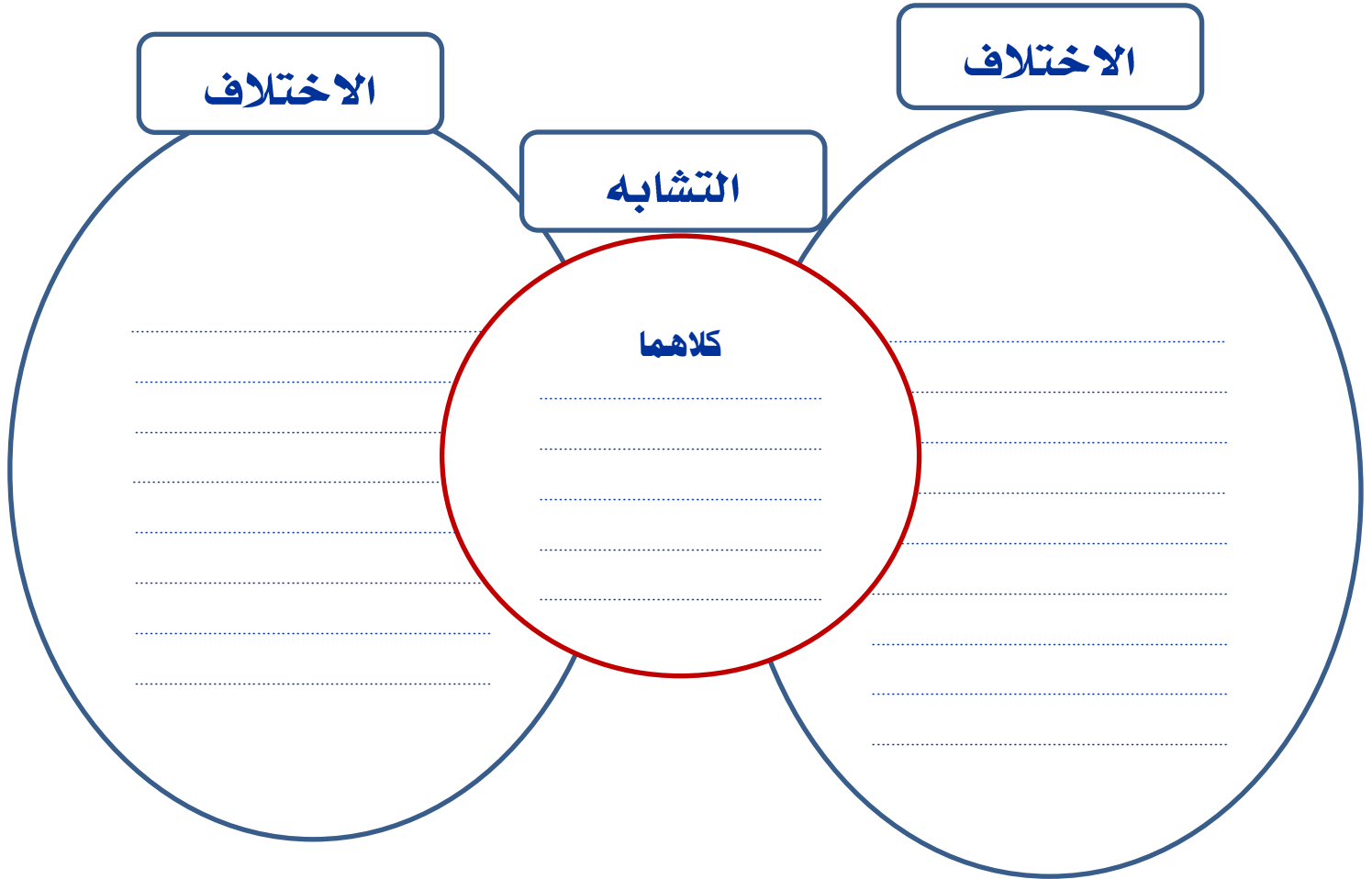
الفصل الأول : النباتات

الدرس الثاني : النباتات تنتج نباتات جديدة

□ بالتعاون مع أفراد مجموعتك أجيب عن الآتي

الزمن : ()

أقارن بين و



الفصل الثاني: الحيوانات

الدرس الأول : مجموعة الحيوانات

□ اقرأ - زاجي - ناقشي

الزمن : ()

أكمل الفراغات في القائمة (أ) بما يناسبها في القائمة (ب) فيما يأتي :

القائمة (ب)	القائمة (أ)
	⊙ حيوانات يغطي جسمها الشعر أو الوبر
⊙ الأسماك	⊙ فقاريات تغطي أجسامها قشور تعيش في الماء
⊙ البرمائيات	⊙ هي الحيوانات الوحيدة التي يغطي جسمها الريش
⊙ الثدييات	⊙ هي التي تعيش على اليابسة والماء
⊙ الزواحف	⊙ هي التي تزحف على الأرض
⊙ الطيور	

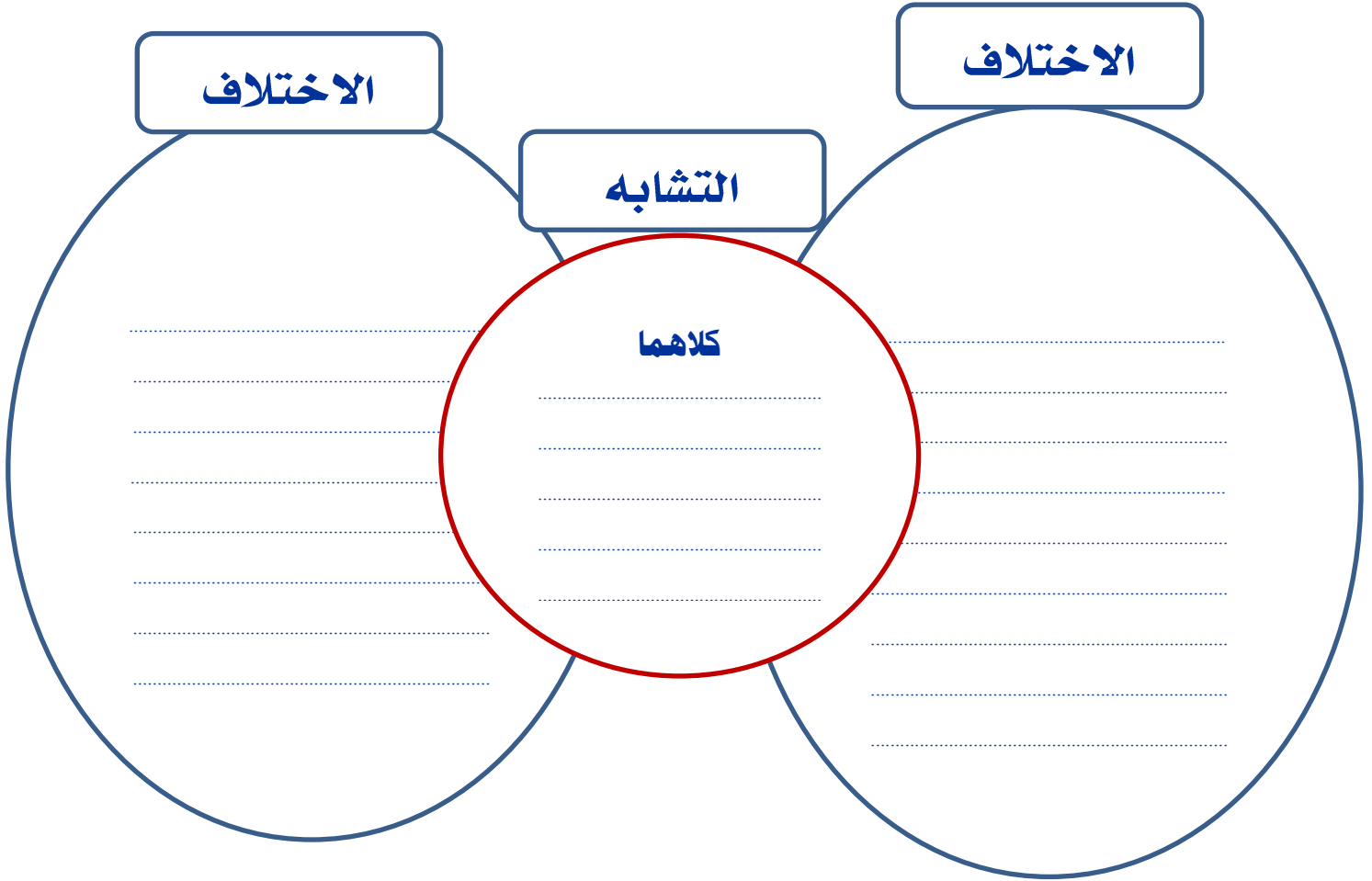
الفصل الثاني : الحيوانات

الدرس الأول : مجموعة الحيوانات

□ بالتعاون مع أفراد مجموعتك أجيب عن الآتي

الزمن : ()

أقارن بين و :



الفصل الثاني : الحيوانات

الدرس الثاني : الحيوانات تنمو وتتغير

□ اقرأ - زوجي - ناقشي

الزمن : ()

أُكْمَلُ كُلًّا مِنْ الْجُمَلِ التَّالِيَةِ بِالْكَلِمَةِ الْمُنَاسِبَةِ:

- ١ - الْحَيَوَانَاتُ الَّتِي تَبْدَأُ حَيَاتَهَا فِي الْمَاءِ، وَتُمْضِي بَقِيَّةَ حَيَاتِهَا عَلَى الْيَابِسَةِ تُسَمَّى حَيَوَانَاتٍ
- ٢ - الْحَيَوَانُ الَّذِي يُرْضِعُ صِغَارَهُ الْحَلِيبَ يُسَمَّى
- ٣ - تُبَيِّنُ كَيْفَ يَنْمُو الْحَيَوَانُ وَيَتَغَيَّرُ.
- ٤ - الْحَيَوَانُ الَّذِي لَهُ سِتَّةُ أَرْجُلٍ وَقَرْنَا اسْتِشْعَارٍ وَغِطَاءٌ خَارِجِيٌّ صُلْبٌ يُسَمَّى
- ٥ - الْحَيَوَانَاتُ الَّتِي تُغَطِّيْ أَجْسَامَهَا الْحَرَاشِفُ تُسَمَّى
- ٦ - يُسَمَّى صَغِيرُ الْفَرَّاشَةِ

حَشْرَةٌ

يَرْقَةٌ

بَرْمَائِيَّةٌ

دَوْرَةُ الْحَيَاةِ

تَدْيِيًّا

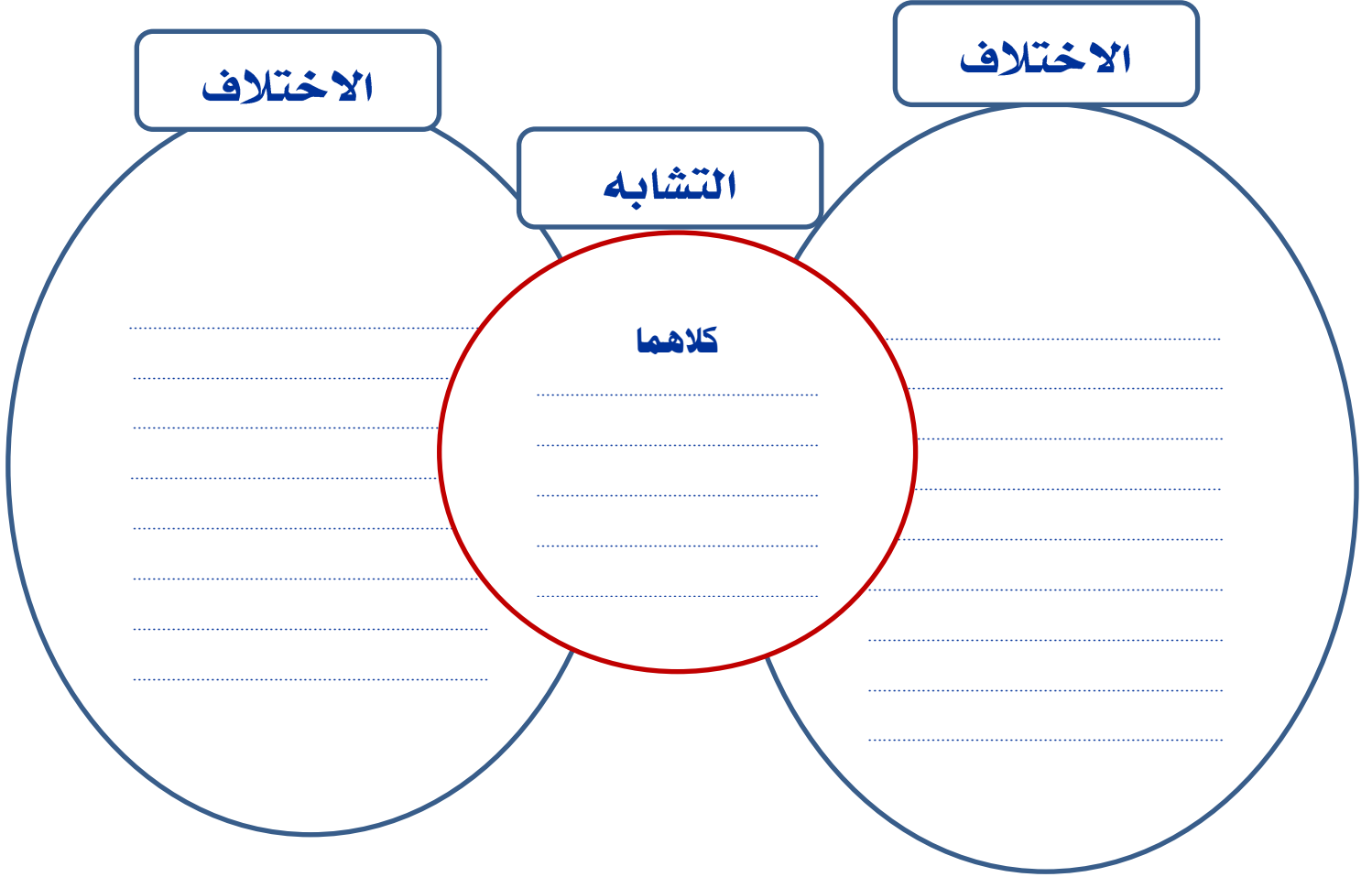
زَوَاحِفَ

الدرس الثاني : الحيوانات تنمو وتتغير

□ بالتعاون مع أفراد مجموعتك أجيب عن الآتي

الزمن : ()

أقارن بين و :



مادة العلوم للصف الثاني الابتدائي

الفصل الدراسي الأول

المملكة العربية السعودية

وزارة التعليم

إدارة التعليم

المدرسة :

..... / ثاني

الفصل :

الاسم :

١ - أرتب الصور بحيث تظهر دورة حياة نبات الفاصولياء .



٢ - أكمل الفراغات مستخدمًا الكلمات : (البرمائيات - الزهرة - البذرة - الأكسجين)

- هو الغاز الذي يتنفسه الإنسان والحيوان ليعيشا .
- جزء من النبات ينبت ويصير نباتًا جديدًا
- جزء من النبات له ألوان مختلفة يكون البذور والثمار .
- هي الحيوانات التي تبدأ حياتها في الماء وتقضي بقية حياتها على اليابسة

٣ - اختار الإجابة الصحيحة :

- حيوان يغطي جسمه الشعر أو الفرو ويرضع صغاره الحليب :

- الثديي - الطائر - الحشرات

- من الحيوانات اللافقارية :

- الجمال - الأسود - الحشرات

- نبتة صغيرة في بداية النمو:

- الشجرة - الزهرة - الباردة

٤ - أصنف الحيوانات في الجدول :

الطيور - الأسماك - الخنفساء - اليعسوب

لافقاريات	فقاريات

٥ - أرتب دورة حياة الفراشة بالأرقام :

فَرَاشَةٌ مُكْتَمَلَةٌ التَّمُو



()

الْبِرْقَةُ



()

عَذْرَاءُ



()

بَيْضَةٌ



()

الفصل الثالث : نظرة إلى الموطن

الدرس الأول : أماكن العيش

□ بالتعاون مع أفراد مجموعتك أجيبي عن الآتي

الزمن : ()

أقارن بين و :

الاختلاف

الاختلاف

التشابه

كلاهما

.....
.....
.....
.....
.....
.....
.....
.....
.....
.....

.....
.....
.....
.....
.....
.....
.....
.....
.....
.....

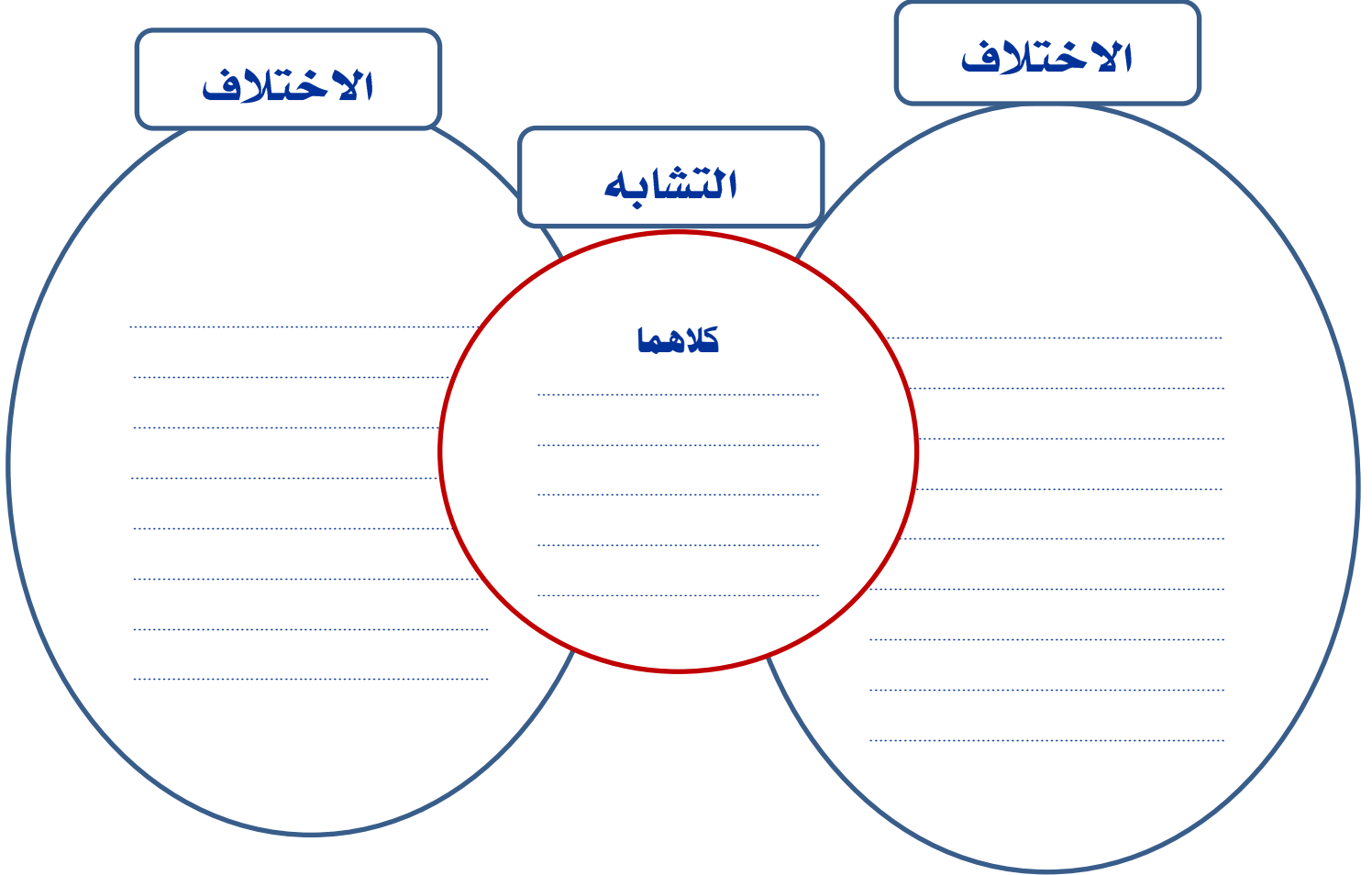
الفصل الثالث : نظرة إلى الموطن

الدرس الثاني : السلاسل الغذائية

□ بالتعاون مع أفراد مجموعتك أجيبي عن الآتي

الزمن : ()

أقارن بين و :



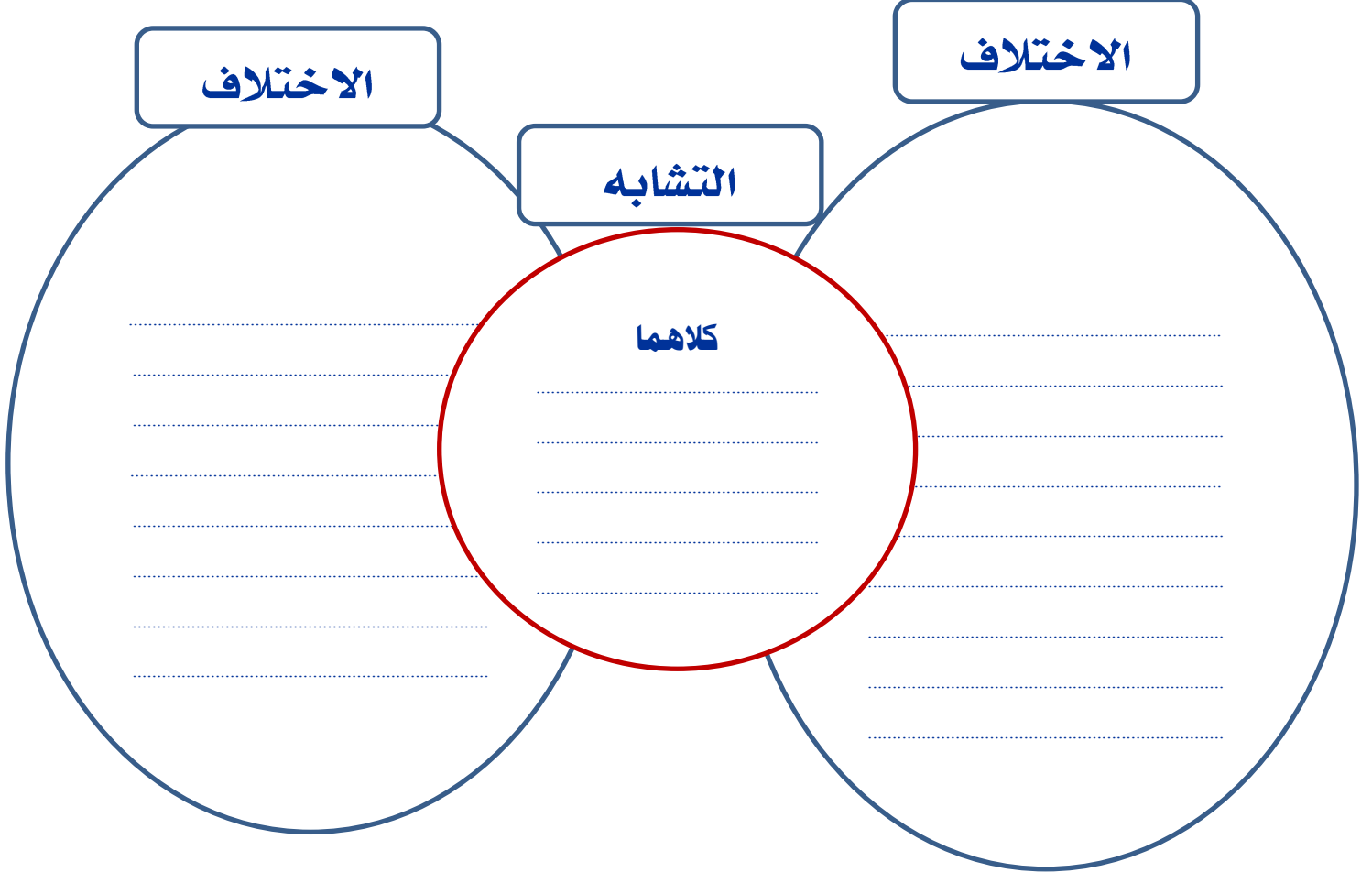
الفصل الرابع : أنواع المواطن

الدرس الأول : الصحاري الحارة والباردة

□ بالتعاون مع أفراد مجموعتك أجيب عن الآتي

الزمن : ()

أقارن بين و :



الفصل الرابع : أنواع المواطن

الدرس الثاني : الغابات

□ بالتعاون مع أفراد مجموعتك أجيب عن الآتي

الزمن : ()

أقارن بين و :

الاختلاف

الاختلاف

التشابه

كلاهما

.....
.....
.....
.....
.....
.....
.....
.....
.....
.....

.....
.....
.....
.....
.....
.....
.....
.....
.....
.....

مادة العلوم للصف الثاني الابتدائي

الفصل الدراسي الأول

المملكة العربية السعودية

وزارة التعليم

إدارة التعليم

المدرسة :

..... / ثاني

الفصل :

الاسم :

١ - أكمل الفراغات مستخدمًا الكلمات : (الموطن - الفريسة - الغابة - الصحراء
الحارة)

- حيوان يصطاده حيوان مفترس .
- موطن تنمو فيه الأشجار جيدًا بسبب نزول الأمطار وتوافر ضوء الشمس.
- موطن حار جاف أمطاره قليلة جدًا .
- مكان تعيش فيه المخلوقات الحية .

٢ - اختار الإجابة الصحيحة :

- تبدأ معظم السلاسل الغذائية بـ :

- الحشرات - الأعشاب - الشمس

- من الحيوانات المفترسة :

- الجمال - الأسود - الأرانب

- من الحيوانات التي لا تعيش في الصحراء :

- الذئب - العقرب - الدب

- موطن تتساقط عليه الأمطار كل يوم تقريبًا :

- الصحراء الباردة - الغابة المطيرة - الصحراء الحارة

- من نباتات الصحراء الباردة :

- الصبار - الأشجار - نباتات بأوراق صغيرة وجذور سطحية

٣ - أرتب ما يلي في سلسلة غذائية :

أعشاب	ثعلب	الشمس	أرتب
-------	------	-------	------

٤ - أصنف الحيوانات في الجدول :

الثعابين - الفقمة - الضب - الرنة - القط البري - الفقمة

حيوانات الصحراء الباردة	حيوانات الصحراء الحارة



٥ - في الصورة المقابلة الدودة هي :

والطائر هو :