

تم تحميل وعرض المادة من منصة

# حقيبتك

[www.haqibati.net](http://www.haqibati.net)



منصة حقيبتك التعليمية

منصة حقيبتك هو موقع تعليمي يعمل على تسهيل العملية التعليمية بطريقة بسيطة وسهلة وتوفير كل ما يحتاجه المعلم والطالب لكافة الصفوف الدراسية كما يحتوي الموقع على حلول جميع المواد مع الشروح المتنوعة للمعلمين.

درجة الطالب	الدرجة الكلية ٢٠	١٠	س١
		٦	س٢
		٤	س٣

الصف الأول متوسط	أسم الطالب
------------------	------------

أسئلة اختبار مادة الدراسات الاجتماعية (الفترية) للفصل الدراسي الأول للعام الدراسي ١٤٤٦هـ

فقرة	ضع علامة (✓) أمام العبارة الصحيحة وعلامة (X) أمام العبارة الخاطئة	السؤال الأول
١	الكواكب تستمد الحرارة والضوء من الشمس	( )
٢	الخط الوهمي المستقيم الواصل بين القطبين والمار بمركز الأرض هو محور الأرض	( )
٣	تفيد خطوط الطول في معرفة الزمن.	( )
٤	تتعادم الشمس مرة واحدة في السنة على مدار السرطان الذي يمر بأرض المملكة العربية السعودية	( )
٥	الحركة اليومية للأرض تكون مع اتجاه عقارب الساعة.	( )

السؤال الثاني اختر الإجابة الصحيحة من بين الإجابات فيما يلي :

٢	عدد كواكب المجموعة الشمسية	أ	تسعة كواكب	ب	ثمانية كواكب	١	أكبر قارات العالم هي قارة	أ	افريقيا	ب	آسيا
	ج	سبعة كواكب	د	ستة كواكب		ج	أمريكا الشمالية	ج	خمس فصول	د	فصلان
٤	عدد خطوط الطول	أ	٣٦٠	ب	٦٣٠	٣	عدد الفصول المناخية.	أ	اربع فصول	ب	ستة فصول
	ج	٥٢٠	د	١٨٠		ج	خمس فصول	أ	مدار الجدي	ب	محور الأرض
٦	أصغر المحيطات	أ	المحيط الهادي	ب	المحيط الهندي	٥	خط الطول الرئيس هو.	أ	خط جرينتش	ب	خط الاستواء
	ج	المحيط المتجمد الشمالي	د	المحيط الأطلسي		ج	خط جرينتش	أ	خط جرينتش	ب	خط الاستواء

فقرة	اذكر السبب	السؤال الثالث
١	عدم الشعور بحركة الأرض.	
٢	حدوث الليل والنهار.	

# نموذج الإجابة

درجة الطالب	الكلية	٢٠	٦	٢س	٤	٣س	إدارة التعليم بمنطقة مكتب تعليم متوسطة	وزارة التعليم
الصف الأول متوسط							أسم الطالب	

أسئلة اختبار مادة الدراسات الاجتماعية (الفترية) للفصل الدراسي الأول للعام الدراسي ١٤٤٦هـ

فقرة	ضع علامة (√) أمام العبارة الصحيحة وعلامة (X) أمام العبارة الخاطئة	السؤال الأول
١	الكواكب تستمد الحرارة والضوء من الشمس	( ✓ )
٢	الخط الوهمي المستقيم الواصل بين القطبين والمار بمركز الأرض هو محور الأرض	( ✓ )
٣	تفيد خطوط الطول في معرفة الزمن.	( ✓ )
٤	تتعادم الشمس مرة واحدة في السنة على مدار السرطان الذي يمر بأرض المملكة العربية السعودية	( ✓ )
٥	الحركة اليومية للأرض تكون مع اتجاه عقارب الساعة.	( X )

اختر الإجابة الصحيحة من بين الإجابات فيما يلي :

السؤال الثاني

٢	عدد كواكب المجموعة الشمسية	أ	تسعة كواكب	ج	سبعة كواكب	١	أكبر قارات العالم هي قارة	أ	افريقيا	ج	أمريكا الشمالية
		ب	ثمانية كواكب	د	ستة كواكب	ب	آسيا	د	استراليا		
٤	عدد خطوط الطول	أ	٣٦٠	ج	٥٢٠	٣	عدد الفصول المناخية.	أ	اربع فصول	ج	خمس فصول
		ب	٦٣٠	د	١٨٠	ب	ستة فصول	د	فصلان		
٦	أصغر المحيطات	أ	المحيط الهادي	ج	المحيط المتجمد الشمالي	٥	خط الطول الرئيس هو.	أ	مدار الجدي	ج	خط جرينتش
		ب	المحيط الهندي	د	المحيط الأطلسي	ب	محور الأرض	د	خط الاستواء		

فقرة	اذكر السبب	السؤال الثالث
١	عدم الشعور بحركة الأرض.	١- لأنها تتحرك حركة منتظمة. ٢- لأن حجم الأرض كبير.
٢	حدوث الليل والنهار.	٣- وجود الجاذبية الأرضية. ٤- لأن الأرض تدور بما فيها.
٢	بسبب دوران الأرض حول محورها	



اختبار قصير لمادة الدراسات الاجتماعية للصف الأول المتوسط الفصل الدراسي الأول لعام ١٤٤٦

اسم الطالبة	الفصل	١٨ درجة
<b>السؤال الأول :</b>		
٦ ضعي علامة ( √ ) أمام العبارة الصحيحة وعلامة ( × ) أمام العبارة الخاطئة فيما يلي؟		
١	كواكب المجموعة الشمسية جميعا ذات شكل كروي.	
٢	القطر الاستوائي يصل بين أبعد نقطتين ويمر بمركز الأرض.	
٣	تفيد دوائر العرض في معرفة الزمن.	
٤	عدد دوائر العرض ١٥٠ دائرة عرضية.	
٥	تقع المنطقة الحارة بين مدار السرطان شمالا ومدار الجدي جنوبا.	
٦	تبلغ نسبة المياه على سطح الأرض ٢٩٪ .	

٢ السؤال الثاني:  
عللي : لا نشعر بحركة الأرض أثناء دورانها؟

.....  
.....

<b>السؤال الثالث : اختاري الإجابة الصحيحة من بين الأقواس فيما يلي ؟</b>						
١	أكبر كواكب المجموعة الشمسية حجما.					
أ	أورانوس	ب	نبتون	ج	المشتري	د
٢	تقع دائرة الجدي بالنسبة لخط الإستواء .					
أ	شماله	ب	جنوبه	ج	شرقة	د
						غربه

٣	عدد الفصول المناخية.						
أ	خمس فصول	ب	ستة فصول	ج	أربعة فصول	د	فصلان
٤	أكبر قارات العالم مساحة قارة						
أ	آسيا	ب	أستراليا	ج	أفريقيا	د	أوروبا
٥	خط الطول الرئيس هو.						
أ	جرينتش	ب	السرطان	ج	الجدى	د	الاستواء

٦

السؤال الرابع:

أكتبى الرقم المناسب من المجموعة ( أ ) أمام العبارة المناسبة في المجموعة ( ب )

م	( أ )	الإجابة	( ب )
١	أول رائد فضاء عربي مسلم		فصل الخريف
٣	دوائر كاملة متوازية.		المتجمد الشمالي
٤	أصغر المحيطات مساحة المحيط.		الأمير سلطان بن سلمان
٥	تكون الشمس عمودية على مدار السرطان.		اختلاف الزمن
٦	من نتائج دوران الأرض حول محورها		دوائر العرض
			فصل الصيف

# نموذج الإجابة

المملكة العربية السعودية  
وزارة التربية والتعليم



وزارة التعليم  
Ministry of Education

اختبار قصير لمادة الدراسات الاجتماعية للصف الأول المتوسط الفصل الدراسي الأول لعام ١٤٤٦

اسم الطالبة	الفصل	١٨ درجة
السؤال الأول : ضعي علامة ( √ ) أمام العبارة الصحيحة وعلامة ( × ) أمام العبارة الخاطئة فيما يلي؟		
١	كواكب المجموعة الشمسية جميعا ذات شكل كروي.	✓
٢	القطر الاستوائي يصل بين أبعد نقطتين ويمر بمركز الأرض.	✓
٣	تفيد دوائر العرض في معرفة الزمن.	✗
٤	عدد دوائر العرض ١٥٠ دائرة عرضية.	✗
٥	تقع المنطقة الحارة بين مدار السرطان شمالا ومدار الجدي جنوبا.	✓
٦	تبلغ نسبة المياه على سطح الأرض ٢٩٪ .	✗

السؤال الثاني: ٢  
عللي : لا نشعر بحركة الأرض أثناء دورانها؟

- ١- لأنها تتحرك حركة منتظمة. ٢- لأن حجم الأرض كبير.  
٣- وجود الجاذبية الأرضية. ٤- لأن الأرض تدور بما فيها.

السؤال الثالث : اختاري الإجابة الصحيحة من بين الأقواس فيما يلي ؟									
١	أكبر كواكب المجموعة الشمسية حجما.	أ	أورانوس	ب	نبتون	ج	المشتري	د	زحل
٢	تقع دائرة الجدي بالنسبة لخط الإستواء .	أ	شماله	ب	جنوبه	ج	شرقه	د	غربه

٣	عدد الفصول المناخية.					
أ	خمس فصول	ب	ستة فصول	ج	أربعة فصول	د
٤	أكبر قارات العالم مساحة قارة					
أ	آسيا	ب	أستراليا	ج	أفريقيا	د
٥	خط الطول الرئيس هو.					
أ	جرينتش	ب	السرطان	ج	الجدى	د
	الاستواء					

٦

### السؤال الرابع:

أكتبى الرقم المناسب من المجموعة ( أ ) أمام العبارة المناسبة في المجموعة ( ب )

م	( أ )	الإجابة	( ب )
١	أول رائد فضاء عربي مسلم		فصل الخريف
٣	دوائر كاملة متوازية.	٣	المتجمد الشمالي
٤	أصغر المحيطات مساحة المحيط.	١	الأمير سلطان بن سلمان
٥	تكون الشمس عمودية على مدار السرطان.	٥	اختلاف الزمن
٦	من نتائج دوران الأرض حول محورها	٢	دوائر العرض
		٤	فصل الصيف

أسئلة اختبار الفصل الدراسي الأول (الدور الأول) لعام ١٤٤٦ هـ

رقم الجلوس:

الصف:

اسم الطالب:

٤٠

١٠

أولاً: أسئلة الصواب والخطأ من (١) إلى (١٠):

ظل ( أ ) للعبارة الصحيحة و ( ب ) للعبارة الخاطئة فيما يلي:

س١	شبه الجزيرة العربية مهد الحضارات ومنها انطلقت الهجرات.	( )
س٢	استفاد المسلمون من علوم الحضارات السابقة في مختلف الجوانب.	( )
س٣	ظهرت العناية ببناء القصور في عصر الخلفاء الراشدين.	( )
س٤	لم تكن للعرب معرفة بالتجارة قبل الإسلام.	( )
س٥	وزارة التفويض أن ينفذ الوزير أوامر الخليفة فقط.	( )
س٦	تنتمي المجموعة الشمسية لمجرة درب التبانة.	( )
س٧	كواكب المجموعة الشمسية جميعها ذات شكل كروي.	( )
س٨	أبعاد الأرض متساوية.	( )
س٩	خطوط الطول عبارة عن أنصاف دوائر متساوية في الطول.	( )
س١٠	تتركز اليابسة في نصف الكرة الأرضية الجنوبي.	( )

٢٢

ثانياً: أسئلة الاختيار من متعدد من (١١) إلى (٣٢):

اختر الإجابة الصحيحة من بين البدائل فيما يلي ثم ظللها في ورقة الإجابة:

س١١	تفاعل المجموعات البشرية مع البيئة المحيطة بها:	س١٤	أنشئت الدواوين في عهد الخليفة:
( أ )	الحضارة	( أ )	أبو بكر الصديق ؓ
( ب )	الوزارة	( ب )	عمر بن الخطاب ؓ
( ج )	القضاء	( ج )	عثمان بن عفان ؓ
( د )	التاريخ	( د )	علي بن أبي طالب ؓ
س١٢	سقطت إمبراطورية (الكلدانيين) على يد:	س١٥	أول من أدخل نظام الشرطة في الإسلام:
( أ )	الفرس	( أ )	عمر بن العاص ؓ
( ب )	الرومان	( ب )	عمر بن الخطاب ؓ
( ج )	الصينيين	( ج )	معاوية بن أبي سفيان ؓ
( د )	الأكاديون	( د )	أبو بكر الصديق ؓ
س١٣	عرفت الكتابة (الهيروغليفية) في الحضارة:	س١٦	العلم الذي يهتم ببيان معاني آيات القرآن الكريم هو علم:
( أ )	الصينية	( أ )	الفقه
( ب )	الفرعونية	( ب )	التفسير
( ج )	الإسلامية	( ج )	الحديث
( د )	الرومانية	( د )	التاريخ

تابع الأسئلة

(١)



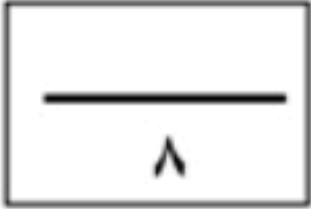


س ١٧	من أشهر علماء المسلمين في علم الفيزياء:	س ٢٣	أكبر كواكب المجموعة الشمسية:
(أ)	أبو الريحان البيروني	(أ)	زحل
(ب)	جابر بن حيان	(ب)	المريخ
(ج)	محمد الخوارزمي	(ج)	المشتري
(د)	سيبويه	(د)	الأرض
س ١٨	اعتنى المسلمون ببناء القلاع والحصون:	س ٢٤	يبلغ عدد دوائر العرض:
(أ)	لتكون عواصم للدول الإسلامية	(أ)	١٢٠ دائرة
(ب)	لأغراض اقتصادية	(ب)	١٥٠ دائرة
(ج)	لأغراض دينية	(ج)	١٨٠ دائرة
(د)	لحماية حدود الدولة	(د)	٣٦٠ دائرة
س ١٩	العناية بتوفير وسائل الري ببناء السدود وإقامة الجسور من مظاهر العناية بـ:	س ٢٥	خط الطول الرئيسي يسمى:
(أ)	الزراعة	(أ)	جرينتش
(ب)	الصناعة	(ب)	الاستواء
(ج)	التجارة	(ج)	الجدي
(د)	السياحة	(د)	السرطان
س ٢٠	تعد صناعة الأسلحة من الصناعات:	س ٢٦	يبلغ عدد المناطق الزمنية على سطح الأرض:
(أ)	المعدنية	(أ)	٢٨ منطقة
(ب)	الخزفية	(ب)	٢٠ منطقة
(ج)	الكيميائية	(ج)	٢٢ منطقة
(د)	الزجاجية	(د)	٢٤ منطقة
س ٢١	كل ما يحيط بنا من نجوم ومجرات ومخلوقات حية:	س ٢٧	درجة مدار السرطان:
(أ)	الكون	(أ)	٢٣,٥° جنوباً
(ب)	الشهب	(ب)	٢٣,٥° شمالاً
(ج)	النيازك	(ج)	٦٦,٥° شمالاً
(د)	الكواكب	(د)	٤٠° جنوباً
س ٢٢	يبلغ عدد كواكب المجموعة الشمسية:	س ٢٨	لا يشعر سكان الأرض بحركتها بسبب:
(أ)	خمسة	(أ)	كبر حجمها
(ب)	سبعة	(ب)	ثقلها
(ج)	ثمانية	(ج)	عدم انتظام حركتها
(د)	تسعة	(د)	استدارتها

تابع الأسئلة

س ٢٩	سبب تعاقب الليل والنهار:	س ٣١	أكبر قارات العالم مساحة:
(أ)	دوران الأرض حول الشمس	(أ)	آسيا
(ب)	ميل محور الأرض	(ب)	أستراليا
(ج)	دوران الأرض حول نفسها	(ج)	أوروبا
(د)	ثبات ميل محور الأرض	(د)	إفريقيا
س ٣٠	يحدث الصيف في شمال الكرة الأرضية عندما تتعامد أشعة الشمس على:	س ٣٢	يغطي الماء سطح الأرض بنسبة:
(أ)	مدار الجدي	(أ)	٧١ %
(ب)	خط الاستواء	(ب)	٧٣ %
(ج)	الدائرة القطبية الشمالية	(ج)	٢٩ %
(د)	مدار السرطان	(د)	٦٣ %

### ثالثاً: الأسئلة المقالية:

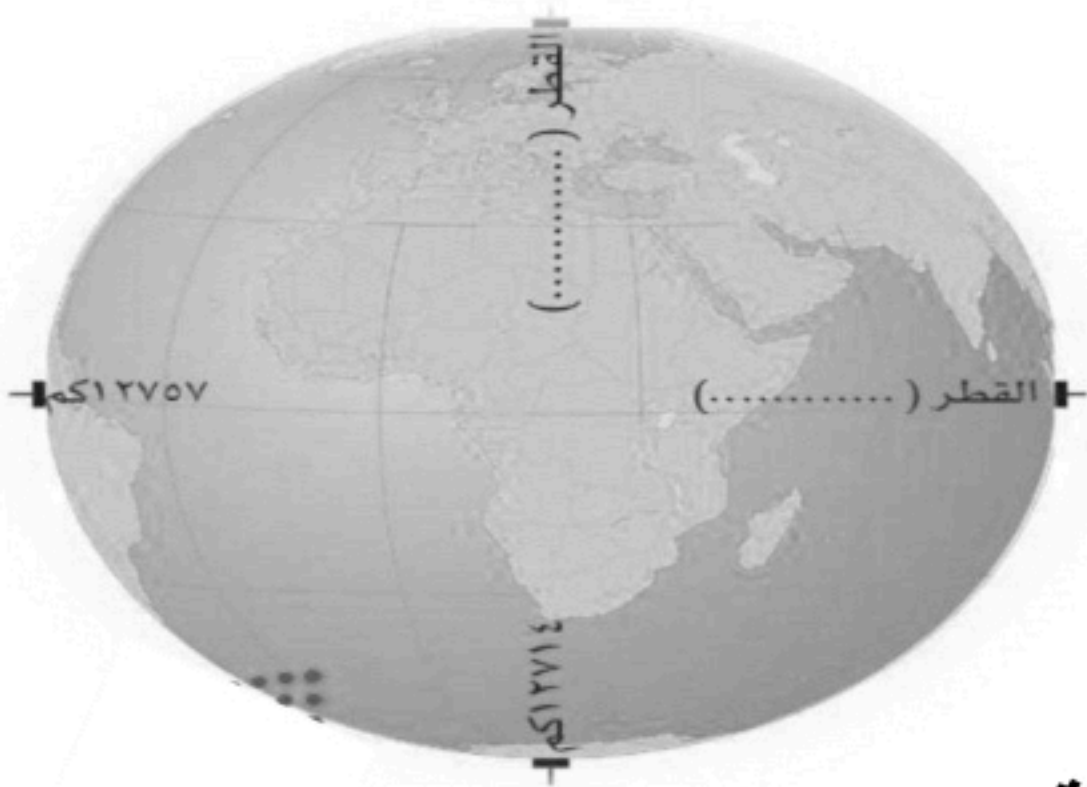


س ٣٣ / اذكر أبرز عاملين لقيام الحضارات.

- ١- .....
- ٢- .....

س ٣٤ / ما الأسس التي قامت عليها الحضارة الإسلامية؟

- ١- .....
- ٢- .....
- ٣- .....
- ٤- .....



س ٣٥ / دون على الشكل ما يأتي:

- أ- محور الأرض القطبي
- ب- محور الأرض الاستوائي.

انتهت الأسئلة

معلم المادة :

يوسف خضر الرحيلي

الأول (الدور الأول) لعام 1446 هـ

رقم الجلوس:

## نموذج الإجابة

40

40

10

10

أولاً: أسئلة الصواب والخطأ من (1) إلى (10):

ظل ( أ ) للعبارة الصحيحة و ( ب ) للعبارة الخاطئة فيما يلي:

( ✓ )	س1	شبه الجزيرة العربية مهد الحضارات ومنها انطلقت الهجرات.
( ✓ )	س2	استفاد المسلمون من علوم الحضارات السابقة في مختلف الجوانب.
( × )	س3	ظهرت العناية ببناء القصور في عصر الخلفاء الراشدين.
( × )	س4	لم تكن للعرب معرفة بالتجارة قبل الإسلام.
( × )	س5	وزارة التفويض أن ينفذ الوزير أوامر الخليفة فقط.
( ✓ )	س6	تنتمي المجموعة الشمسية لمجرة درب التبانة.
( ✓ )	س7	كواكب المجموعة الشمسية جميعها ذات شكل كروي.
( × )	س8	أبعاد الأرض متساوية.
( ✓ )	س9	خطوط الطول عبارة عن أنصاف دوائر متساوية في الطول.
( × )	س10	تتركز اليابسة في نصف الكرة الأرضية الجنوبي.

22

٢٢

ثانياً: أسئلة الاختيار من متعدد من (11) إلى (32):

اختر الإجابة الصحيحة من بين البدائل فيما يلي ثم ظللها في ورقة الإجابة:

س11	تفاعل المجموعات البشرية مع البيئة المحيطة بها:	س14	أنشئت الدواوين في عهد الخليفة:
( أ )	الحضارة 1	( أ )	أبو بكر الصديق τ
( ب )	الوزارة	( ب )	عمر بن الخطاب τ 1
( ج )	القضاء	( ج )	عثمان بن عفان τ
( د )	التاريخ	( د )	علي بن أبي طالب τ
س12	سقطت إمبراطورية (الكلدانيين) على يد:	س15	أول من أدخل نظام الشرطة في الإسلام:
( أ )	الفرس 1	( أ )	عمر بن العاص τ 1
( ب )	الرومان	( ب )	عمر بن الخطاب τ
( ج )	الصينيين	( ج )	معاوية بن أبي سفيان τ
( د )	الأكاديون	( د )	أبو بكر الصديق τ
س13	عرفت الكتابة (الهيروغليفية) في الحضارة:	س16	العلم الذي يهتم ببيان معاني آيات القرآن الكريم هو علم:
( أ )	الصينية	( أ )	الفقه
( ب )	الفرعونية 1	( ب )	التفسير 1
( ج )	الإسلامية	( ج )	الحديث
( د )	الرومانية	( د )	التاريخ

تابع الأسئلة

(1)

س17	من أشهر علماء المسلمين في علم الفيزياء:	س23	أكبر كواكب المجموعة الشمسية:
(أ)	أبو الريحان البيروني 1	(أ)	زحل
(ب)	جابر بن حيان	(ب)	المريخ
(ج)	محمد الخوارزمي	(ج)	المشتري 1
(د)	سيبويه	(د)	الأرض
س18	اعتنى المسلمون ببناء القلاع والحصون:	س24	يبلغ عدد دوائر العرض:
(أ)	لتكون عواصم للدول الإسلامية	(أ)	120 دائرة
(ب)	لأغراض اقتصادية	(ب)	150 دائرة
(ج)	لأغراض دينية	(ج)	180 دائرة 1
(د)	لحماية حدود الدولة 1	(د)	360 دائرة
س19	العناية بتوفير وسائل الري ببناء السدود وإقامة الجسور من مظاهر العناية بـ:	س25	خط الطول الرئيسي يسمى:
(أ)	الزراعة 1	(أ)	جرينتش 1
(ب)	الصناعة	(ب)	الاستواء
(ج)	التجارة	(ج)	الجدي
(د)	السياحة	(د)	السرطان
س20	تعد صناعة الأسلحة من الصناعات:	س26	يبلغ عدد المناطق الزمنية على سطح الأرض:
(أ)	المعدنية 1	(أ)	28 منطقة
(ب)	الخزفية	(ب)	20 منطقة
(ج)	الكيميائية	(ج)	22 منطقة
(د)	الزجاجية	(د)	24 منطقة 1
س21	كل ما يحيط بنا من نجوم ومجرات ومخلوقات حية:	س27	درجة مدار السرطان:
(أ)	الكون 1	(أ)	23,5° جنوباً
(ب)	الشهب	(ب)	23.5° شمالاً 1
(ج)	النيازك	(ج)	66.5° شمالاً
(د)	الكواكب	(د)	40° جنوباً
س22	يبلغ عدد كواكب المجموعة الشمسية:	س28	لا يشعر سكان الأرض بحركتها بسبب:
(أ)	خمسة	(أ)	كبر حجمها 1
(ب)	سبعة	(ب)	ثقلها
(ج)	ثمانية 1	(ج)	عدم انتظام حركتها
(د)	تسعة	(د)	استدارتها

تابع الأسئلة

س29	سبب تعاقب الليل والنهار:	س31	أكبر قارات العالم مساحة:
(أ)	دوران الأرض حول الشمس	(أ)	آسيا 1
(ب)	ميل محور الأرض	(ب)	أستراليا
(ج)	دوران الأرض حول نفسها 1	(ج)	أوروبا
(د)	ثبات ميل محور الأرض	(د)	إفريقيا
س30	يحدث الصيف في شمال الكرة الأرضية عندما تتعامد أشعة الشمس على:	س32	يغطي الماء سطح الأرض بنسبة:
(أ)	مدار الجدي	(أ)	71 % 1
(ب)	خط الاستواء	(ب)	73 %
(ج)	الدائرة القطبية الشمالية	(ج)	29 %
(د)	مدار السرطان 1	(د)	63 %

### ثالثاً: الأسئلة المقالية:

8  
8

2  
2

س33/ اذكر أبرز عاملين لقيام الحضارات.

1- الموقع والتضاريس

2- المناخ

س34/ ما الأسس التي قامت عليها الحضارة الإسلامية؟

1- الأساس الديني

2- الأساس اللغوي

3- الأساس العلمي

4- الأساس الأخلاقي

4  
4

س35/ دون على الشكل ما يأتي:

أ- محور الأرض القطبي

ب- محور الأرض الاستوائي.

2  
2



انتهت الأسئلة

معلم المادة :

يوسف خضر الرحيلي

اختبار الفترة	الأولى	الفصل الدراسي	الأول ١٤٤٤ هـ	الاسم	الدرجة
المادة	الدراسات الاجتماعية	الصف	أول متوسط	المعلمة	التوقيع

السؤال الأول: ضعي علامة (√) أمام العبارة الصحيحة وعلامة (X) أما العبارة الخاطئة :

الإجابة	العبارة
	١ تنتمي المجموعة الشمسية لمجرة درب التبانة.
	٢ الكواكب جميعها ذات شكل كروي
	٣ من الخصائص المشتركة بين كواكب المجموعة الشمسية أنها تدور حول نفسها.
	٤ استطاع الإنسان من خلال الفضاء رؤية الأرض بشكلها الكروي
	٥ دوائر العرض ترسم على شكل الأرض بشكل كامل، ومتوازي.
	٦ تغطي اليابس من مساحة سطح الأرض حوالي ٥٠%.
	٧ تدور الأرض حول الشمس من الشرق إلى الغرب
	٨ أبعاد الأرض متساوية
	٩ شكل الأرض كامل الاستدارة.
	١٠ الكوكب جسم كروي صلب يشع ضوءاً.

السؤال الثاني: اختاري الاجابة الصحيحة:

١	هو كل ما يحيط بنا من نجوم، ومجرات، ومخلوقات حية.	أ الكون	ب الشهب	ج النيازك
٢	يبلغ عدد كواكب المجموعة الشمسية:	أ ثمانية	ب سبعة	ج تسعة
٣	نجم كروي غازي ملتهب، يشع ضوءاً، وحرارة، ويدور حوله عددٌ من الكواكب:	أ الشمس	ب الزهرة	ج عطارد
٤	أقرب الكواكب للشمس:	أ عطارد	ب زحل	ج الزهرة
٥	الخط الوهمي المستقيم الواصل بين القطبين والمار بمركز الأرض هو:	أ القطر القطبي	ب المحيط الاستوائي	ج القطر الاستوائي
٦	عدد خطوط الطول:	أ ٣٦٠ خط	ب ١٨٠ خط	ج ٩٠ خط
٧	دوائر العرض تفيد في:	أ تحديد المناطق الحرارية	ب تحديد خط جرينتش	ج تحديد الزمن
٨	مدة دوران الأرض حول نفسها:	أ ٢٤ ساعة	ب ١٨٠ يوم	ج ٣٦٥ يوم
٩	الماء على سطح الأرض يعادل :	أ ثلثي مساحة الكرة الأرضية	ب ثلث مساحة الكرة الأرضية	ج نصف مساحة الكرة الأرضية
١٠	عدد المحيطات في العالم يبلغ:	أ ٥	ب ٤	ج ٣

الدرجة	اسم	اختبار الـ
التوقيع	علمة	المادة

## نموذج الإجابة

السؤال الاول: ضعي علامه ( √ ) امام العبارة الصحيحة وعلامه ( X ) اما العبارة الخاطئة :

الإجابة	العبارة
√	تنتمي المجموعة الشمسية لمجرة درب التبانة.
√	الكواكب جميعها ذات شكل كروي
√	من الخصائص المشتركة بين كواكب المجموعة الشمسية أنها تدور حول نفسها.
√	استطاع الإنسان من خلال الفضاء رؤية الأرض بشكلها الكروي
√	دوائر العرض ترسم على شكل الأرض بشكل كامل، ومتوازي.
X	تغطي اليابس من مساحة سطح الأرض حوالي ٥٠%.
X	تدور الأرض حول الشمس من الشرق إلى الغرب
X	أبعاد الأرض متساوية
X	شكل الأرض كامل الاستدارة.
X	الكوكب جسم كروي صلب يشع ضوءاً.

السؤال الثاني: اختاري الاجابة الصحيحة:

١	هو كل ما يحيط بنا من نجوم، ومجرات، ومخلوقات حية.	أ <u>الكون</u>	ب الشهب	ج النيازك
٢	يبلغ عدد كواكب المجموعة الشمسية:	أ <u>ثمانية</u>	ب سبعة	ج تسعة
٣	نجم كروي غازي ملتهب، يشع ضوءاً، وحرارة، ويدور حوله عددٌ من الكواكب:	أ <u>الشمس</u>	ب الزهرة	ج عطارد
٤	أقرب الكواكب للشمس:	أ <u>عطارد</u>	ب زحل	ج الزهرة
٥	الخط الوهمي المستقيم الواصل بين القطبين والمار بمركز الأرض هو:	أ <u>القطر القطبي</u>	ب المحيط الاستوائي	ج القطر الاستوائي
٦	عدد خطوط الطول:	أ <u>٣٦٠ خط</u>	ب ١٨٠ خط	ج ٩٠ خط
٧	دوائر العرض تفيد في:	أ <u>تحديد المناطق الحرارية</u>	ب تحديد خط جرينتش	ج تحديد الزمن
٨	مدة دوران الأرض حول نفسها:	أ <u>٢٤ ساعة</u>	ب ١٨٠ يوم	ج ٣٦٥ يوم
٩	الماء على سطح الأرض يعادل:	أ <u>ثلثي مساحة الكرة الأرضية</u>	ب ثلث مساحة الكرة الأرضية	ج نصف مساحة الكرة الأرضية
١٠	عدد المحيطات في العالم يبلغ:	أ <u>٥</u>	ب ٤	ج ٣



السؤال الأول :

أ- اختاري الإجابة الصحيحة مما يلي :

١. القائد المسلم الذي فتح مدينة الديبل ( قتيبة من مسلم ، محمد بن القاسم الثقفي ، أبو مسلم الخراساني )
٢. المضيق الذي عبره طارق بن زياد لفتح الاندلس يسمى مضيق ( باب المنذب ، جبل طارق ، هرمز )
٣. ولد عبدالمملك بن مروان في مدينة. (البصرة ، دمشق ، المدينة المنورة )
٤. تولى الخلافة بعد الخليفة معاوية ابي سفيان. ( مروان بن الحكم ، يزيد بن معاوية ، عمر بن عبدالعزيز )
٥. يقع مسجد قبة الصخرة في دولة. ( سوريا ، الأردن ، فلسطين )
٦. استمر عصر الدولة الاموية ( ٩١ عام ، ٨٥ عام ، ٧٠ عام )

ب - صلي الاحداث في العمود (أ) بالشخصيات في العمود (ب):

الشخصيات	الاحداث
معاوية بن ابي سفيان	١- قاد الفتح الإسلامي في بلاد السند
الحسن رضي الله عنه	٢- أسس مدينة القروان وجعلها قاعده لنشر الاسلام
عقبة بن نافع	٣- نزل عن الخلافة لمعاوية بن ابي سفيان حقناً لدماء المسلمين.
محمد بن القاسم الثقفي	٤- انشأ دار لسك النقود الإسلامية .
عبدالمملك بن مروان	٥- انشاء قاعده بحرية للسفن.

السؤال الثاني :

أ- عددي اثنين مما يلي .

١- أسباب نهاية الدولة الاموية.

١. .... ٢. ....

٢- اعمال الوليد بن عبدالمملك

١. .... ٢. ....

ب- عللي ما يلي.

١- تسمية الدولة الاموية بهذا الاسم.

.....

٢- بناء عقبة بن نافع مدينة القروان

.....

ج - رتبي الاحداث التاريخ من الاقدم على الاحداث.

انتهت الأسئلة

أ. فاطمة العمري

( ) فتح الاندلس ( ) خلاف ابي بكر الصديق ( ) قيام الدولة الاموية

❖ في عام كم انتهت الدولة الاموية



متوسط	المرحلة	<p>المملكة العربية السعودية</p> <p>وزارة التعليم</p> <p>الإدارة العامة للتعليم</p> <p>بمحافظة.....</p> <p>مدرسة.....</p>
الأول متوسط	الصف	
الدراسات الاجتماعية	المادة	
الأولى	الوحدة	
		بنك الأسئلة لمادة: الدراسات الاجتماعية

١] اختاري الإجابة الصحيحة :

١	المجموعة الشمسية هي جزء من عدة مجموعات شمسية في مجرة درب التبانة وتتكون المجموعة الشمسية من .
(أ) الشمس وعطارد والكواكب	(ب) الشمس والنيازك وزحل
(ج) الشمس وعطارد وزحل	(د) الشمس والكواكب والتوابع
٢	يبلغ عدد كواكب المجموعة الشمسية ثمانية كواكب وتشارك هذه الكواكب بخصائص منها .
(أ) أصغر حجماً وشكلاً	(ب) تدور حول نفسها
(ج) تقع في المنتصف	(د) تستمد الحرارة من الأرض
٣	هيا الله تعالى للإنسان وسائل العلم , فرأى صورة الأرض بشكلها الكروي فكان أول رائد فضاء مسلم الأمير.
(أ) سلطان بن سلمان	(ب) سلطان بن عبدالعزيز
(ج) سلطان بن فهد	(د) سلطان بن عبدالله
٤	كان تحديد موضع معين على سطح الكرة الأرضية أمراً صعباً وذلك بسبب
(أ) دوران الأرض	(ب) اختلاف الزمن
(ج) كبر المساحة	(د) انحراف الرياح
٥	تم تقسيم دول العالم إلى أربع وعشرين منطقة زمنية كل منطقة تعادل ١٥ درجة طولية وذلك .
(أ) تجنباً لاختلاف التوقيت داخل الدولة الواحدة	(ب) لتشابه التوقيت داخل حدود الدولة الواحدة
(ج) لوقوعها بين دائرتي عرض شمالية وجنوبية	(د) لاختلاف المناطق الحرارية
٦	تم تقسيم سطح الأرض إلى مناطق حرارية وذلك وفقاً لـ
(أ) تقسيم خطوط الطول إلى دوائر غير متساوية	(ب) اختلاف زاوية سقوط أشعة الشمس
(ج) تعامد أشعة الشمس على الدائرة القطبية الشمالية	(د) تقسيم الأرض إلى قسمين شمالي وجنوبي
٧	دوائر العرض ترسم على شكل الكرة الأرضية وتفيد في تحديد .
(أ) الزمن والمسافة	(ب) المناطق الحرارية
(ج) خط جرينتش	(د) الارتفاع والانخفاض
٨	عندما تكون الطائرة في الجو لا يشعر الركاب بحركتها رغم سرعتها وذلك لـ.
(أ) دوران الأرض بسرعة	(ب) انحراف الاجسام المتحركة
(ج) كبر حجمها وقوتها	(د) أنها تتجه بكامل محتوياتها
٩	تتشترك خطوط الطول ودوائر العرض في تحديد.
(أ) الأقاليم المناخية على سطح الأرض	(ب) الموقع على سطح الكرة الأرضية
(ج) معرفة الزمن في مختلف جهات العالم	(د) التساوي في الأطوال والمنخفضات
١٠	تعد من أبرز مزايا خطوط الطول أنها .
(أ) الدائرة الرئيسية دائرة الاستواء	(ب) دائرة كاملة متوازية
(ج) أنصاف دوائر متساوية	(د) معرفة المناطق الحرارية على الأرض

سكان الأرض لايشعرون بحركتها وذلك لأن حركتها .				١١
(أ) سريعة وحجم الأرض صغير	(ب)منتظمة وحجم الأرض كبير	(ج)محدودة تدور في الفضاء الداخلي	(د)ثقيلة تدور مع اتجاه عقارب الساعة	
يختلف الزمن على سطح الأرض وذلك نتيجة لدوران الأرض حول				١٢
(أ) المجرات	(ب) التوابع	(ج) الشمس	(د) نفسها	
أهم حركات الأرض حركة يومية حول نفسها من الغرب إلى الشرق نتج عنها .				١٣
(أ)تعاقب الليل والنهار	(ب)دورة الأرض حول الشمس	(ج)ميل المحور القطبي	(د)ثبات ميل المحور القطبي	
تحدث الفصول الأربعة على الأرض بانتظام ويرجع ذلك لعدة أسباب منها .				١٤
(أ)انحراف الرياح والتيارات المائية	(ب)تعاقب الليل والنهار	(ج)دورة الأرض حول الشمس	(د)ميل أشعة الشمس في النصف الشمالي	
تشكل مساحة اليابسة نسبة ٢٩٪ من مساحة سطح الأرض ومن أكبر القارات مساحة قارة.				١٥
(أ) آسيا	(ب) أوروبا	(ج) استراليا	(د) أمريكا	
تفاوت توزيع اليابسة والماء على سطح الأرض وذلك بسبب .				١٦
(أ)التجمعات الرملية	(ب)الأودية الجافة	(ج) اختلاف البحيرات	(د)تضرس الأرض	
ينقسم سطح الماء إلى عدة مسطحات واسعة وعميقة تحيط بكتل من اليابسة ومن أكبر المحيطات المحيط .				١٧
(أ) الهادئ	(ب) الأطلسي	(ج) الهندي	(د) المتجمد الشمالي	
تتشترك خصائص المجموعة الشمسية في .				١٨
(أ) قربها من الشمس	(ب) شكلها كروي	(ج) دورانها حول الكواكب	(د) صغر حجمها	
خط وهمي يرسم على شكل الكرة الأرضية من القطب إلى القطب				١٩
(أ) دوائر العرض	(ب) خطوط الطول	(ج) القطر الاستوائي	(د) القطر القطبي	
أقرب الكواكب الشمسية للشمس هو كوكب .				٢٠
(أ) عطارد	(ب) الزهرة	(ج) الأرض	(د) المريخ	
يحدث الصيف في شمال الكرة الأرضية عندما تتعامد أشعة الشمس على .				٢١
(أ) مدار الجدي	(ب) مدار السرطان	(ج) دائرة الاستواء	(د) خط جرينتش	
يحدث الشتاء عندما تسقط أشعتها مائلة في النصف الشمالي للأرض تكون الشمس عامودية على .				٢٢
(أ) مدار الجدي	(ب) مدار السرطان	(ج) دائرة الاستواء	(د) خط جرينتش	

[٢] في الفقرات من (١) الى (٧) زاوجي بين المصطلحات في العمود الأول و المفاهيم في العمود الثاني :

المصطلحات	المفاهيم
(١) الشمس	(أ) أجسام صلبة معتمة تستمد من الشمس الحرارة والضوء
(٢) الكواكب	(ب) لخط الوهمي المستقيم المار بمركز الأرض
(٣) القطر القطبي	(ج) خط وهمي يرسم على شكل الكرة الأرضية من القطب الشمالي إلى القطب الجنوبي
(٤) القطر الاستوائي	(د) كل ما على وجه الكرة الأرضية من مرتفعات ومنخفضات كبرى
(٥) خطوط الطول	(هـ) دوائر وهمية ترسم على نموذج الكرة الأرضية والخرائط
(٦) دوائر العرض	(و) الخط الوهمي المستقيم الواصل بين القطبين والمار بمركز الأرض
(٧) سطح الأرض	(ز) نجم كروي غازي ملتهب يشع حرارة وضوء
	(س) كتلة صخرية كبيرة من الأرض مرتفعة عما جاورها

[٣] ضعي علامة (صح) نهاية العبارة الصحيحة وعلامة (خطأ) نهاية العبارة الخاطئة فيما يلي :

- ١- مجموعتنا الشمسية جزء من عدة مجموعات شمسية توجد في مجرة درب التبانة .
- ٢- نجم كروي غازي ملتهب يشع حرارة وضوء و يدور حوله عدد من الكواكب يسمى بـ الكواكب .
- ٣- أجسام كروية صلبة معتمة تستمد من الشمس الحرارة والضوء تسمى بـ الشمس .
- ٤- جعل الله سبحانه وتعالى كوكب الأرض وسطاً بين كواكب المجموعة الشمسية .
- ٥- يقع كوكب الأرض في المرتبة العاشرة بالنسبة لقربه من الشمس .
- ٦- الخط الوهمي المستقيم الواصل بين القطبين والمار بمركز الأرض نطلق عليه بـ القطر القطبي .
- ٧- الخط الوهمي المستقيم والمار بمركز الأرض يسمى بـ القطر الاستوائي.
- ٨- أثبت العلماء بأن شكل الأرض كاملة الاستدارة .
- ٩- شكل الأرض كروي إلا أن أبعادها متساوية .
- ١٠- يمتد محور الأرض القطبي من الشمال إلى الجنوب .
- ١١- خطوط وهمية طولية ترسم على شكل الكرة الأرضية من القطب الشمالي إلى القطب الجنوبي تسمى بـ خطوط الطول .
- ١٢- دوائر عرضية ترسم على نموذج الكرة الأرضية والخرائط تسمى بـ دوائر العرض .
- ١٣- دوائر العرض دوائر كاملة متوازية ومتساوية في الطول .
- ١٤- تنفيذ دوائر العرض في تحديد المواقع على سطح الكرة الأرضية ومعرفة المناطق الحرارية .
- ١٥- كل ما على وجه الكرة الأرضية من مرتفعات ومنخفضات كبرى يسمى بـ سطح الأرض .
- ١٦- تشكل مساحة اليابسة بنسبة ٢٩٪ من مساحة سطح الأرض .
- ١٧- مسطح واسع وعميق من المياه المالحة يحيط بكتل اليابسة تسمى بـ المحيط .
- ١٨- أن مساحة سطح الماء تمثل أكثر من ثلثي مساحة الكرة الأرضية .
- ١٩- كل ما يحيط بنا من وجود يطلق عليه بـ الكون .
- ٢٠- يحتوي الكون على عدد من المجرات أشهرها مجرة درب التبانة التي تنتمي إليها مجموعتنا الشمسية .

متوسط	المرحلة	<p>الفصل الدراسي الأول – الفترة الثانية</p> <p>العام الدراسي ١٤٤٥</p>  <p>وزارة التعليم Ministry of Education</p>	المملكة العربية السعودية
الأول متوسط	الصف		وزارة التعليم
الدراسات الاجتماعية	المادة		إدارة التعليم بمحافظة.....
الثانية ( الحضارات )	الوحدة		مدرسة.....
			بنك الأسئلة لمادة: الدراسات الاجتماعية

١] اختاري الإجابة الصحيحة:

تفاعل المجموعات البشرية مع البيئة المحيطة بهم تسمى بـ :				١
(أ) الحضارة	(ب) القرون	(ج) التاريخ	(د) النهضة	
تقوم الحضارات على عدة عوامل أهمها:				٢
(أ) التضاريس والرياح	(ب) الموقع والتضاريس	(ج) المناخ والتربة	(د) الصخور والرياح	
أقدم الحضارات التي نشأت في بلاد ما بين النهرين في العراق هي حضارة:				٣
(أ) البابلية	(ب) المصرية	(ج) الصينية	(د) بلاد الرافدين	
من النظم السياسية في الإسلام نظام:				٤
(أ) الإمارة والدواوين والبيعة	(ب) البيعة والشورى والوزارة	(ج) الجيش والعسس والشورى	(د) الشرطة والبريد والخلافة	
يشمل النظام الإداري في الحضارة الإسلامية على:				٥
(أ) البيعة والوزارة	(ب) الإمارة والجيش	(ج) العلوم الشرعية والطبيعية	(د) رصد النجوم والفلك	
اتسعت رقعة الدولة الإسلامية في عهد الخليفة عمر بن الخطاب فقسم الدولة إلى أقاليم إدارية كبرى وذلك من أجل:				٦
(أ) تفويض من الخليفة للوزير	(ب) تنفيذ أوامر الخليفة	(ج) سهولة الحكم والإشراف عليها	(د) الدفاع على الإسلام	
نشأة الدواوين في عهد الخليفة عمر بن الخطاب رضي الله عنه وذلك بسبب:				٧
(أ) المعاونة والمساعدة	(ب) ضبط أحوالها	(ج) للاستكفاء والاستيلاء	(د) للتنظيم والكفاءة	
علم الحديث يعد المصدر ----- للتشريع الإسلامي:				٨
(أ) الأول	(ب) الثاني	(ج) الثالث	(د) الرابع	
تميزت الفنون الإسلامية بعدة مميزات أهمها:				٩
(أ) الارتباط بالدين الإسلامي	(ب) تنوع الأغراض العسكرية	(ج) تطور القطاع الاقتصادي	(د) نشأة القرى حول القلاع	
بناء المدن الإسلامية بسبب أغراض:				١٠
(أ) علميه وحضارية	(ب) اجتماعية وثقافية	(ج) سياسية وتجارية	(د) دينية وعسكرية	

اهتمام المسلمين بالزراعة بسبب:				١١
(أ) استقرار الأمن والأمان	(ب) كثرة الثروات وتنوعها	(ج) انها المصدر الأول للإنسان	(د) تنوع المستوى المعيشي	
ازدهار التجارة في الدولة الإسلامية بسبب:				١٢
(أ) اكتمال رقي الدولة	(ب) تنوع المحاصيل الزراعية	(ج) اختلاف المناخ	(د) بعدها عن البحار	

[٢] في الفقرات من (١) الى (٦) زاوجي بين النتيجة في العمود الأول والسبب في العمود الثاني :

السبب	النتيجة
( أ ) اتساع المساحة وتعدد الصناعات وتنوع المحاصيل	( ١ ) نشأة الدواوين في عهد الخليفة عمر بن الخطاب
( ب ) حتى يتم استخدامها في أغراض عسكرية أو اقتصادية أو دينية	( ٢ ) ازدهار التجارة في الدولة الإسلامية
( ج ) حفر القنوات وتجفيف المستنقعات	( ٣ ) تسمية الشرطة بهذا الاسم
( د ) لحماية حدود الدولة	( ٤ ) اهتمام المسلمين بالزراعة
( هـ ) المصدر الأول لغذاء الإنسان	( ٥ ) بناء المدن الإسلامية
( و ) نسبة إلى شريط قماش يوضع فوق الملابس لتمييزهم عن عامة الناس	( ٦ ) بناء المسلمين للحصون والقلاع
( ز ) لضبط أحوالها بعد اتساع رقعة الدولة الإسلامية	

[٣] ضعي علامة (صح) نهاية العبارة الصحيحة وعلامة (خطأ) نهاية العبارة الخاطئة فيما يلي :

- ١- السومريون هم أول الشعوب التي سكنت العراق.
- ٢- بنى الفراعنة الأهرامات العميقة لدفن موتاهم.
- ٣- كان اليونانيون العدو الشرس للصينيين.
- ٤- تعدد اللغة العربية أثرى اللغات وأكملها في المعاني لكثرة مفرداتها ودقة تعبيرها.
- ٥- الحضارة الإسلامية أعم وأشمل الحضارات السابقة.
- ٦- وزارة التفويض أن يفوض الخليفة الوزير بتصريف معظم شؤون الدولة.
- ٧- وزارة التنفيذ أن ينفذ الوزير أوامر الخليفة فقط.

[٤] عللي لما يأتي:

١- بنوا الصينيون جدار طويل يبلغ طوله ٨٨٥١ كم .

.....\*

٢- الدين الإسلامي هو أساس التوازن بين أمور الدين والدنيا.

.....\*

٣- تعدد اللغة العربية أثرى اللغات وأكملها في المعاني والألفاظ.

.....\*

متوسط	المرحلة	الفصل الدراسي الأول – الفترة الثالثة العام الدراسي ١٤٤٥ هـ 	المملكة العربية السعودية وزارة التعليم ادارة التعليم بمحافظة..... مدرسة.....
الأول متوسط	الصف		
الدراسات الاجتماعية	المادة		
الثالثة	الوحدة		
			بنك الأسئلة لمادة: الدراسات الاجتماعية

### ١] اختاري الإجابة الصحيحة :

مرحلة تحضيرية للعمل وخطوة ممنهجة ومنظمة لتحديد المهام والأعمال ومواعيد القيام بها وكيفية إنجازها يطلق عليها بـ	١
(أ) التخطيط	(ب) الإنجاز
(ج) التطوير	(د) الطموح
يساعدنا التخطيط على تحقيق عدد من الأهداف منها :	٢
(أ) هدر الوقت	(ب) النجاح والتفوق
(ج) ضياع الصحة	(د) ضعف الشخصية
فوائد تنظيم الوقت :	٣
(أ) الحد من التوتر والقلق	(ب) تنظيم المكان وتهينته
(ج) حصر الأعمال اليومية	(د) تصميم جدول الأعمال
ترتبط كيفية تنظيم الوقت بعدة خطوات أهمها :	٤
(أ) اختيار الأسلوب	(ب) هدر الوقت
(ج) تسوية الأعمال	(د) ترتيب الأعمال
نتائج التخطيط :	٥
(أ) اهدار الوقت	(ب) ضياع الصحة
(ج) تحقيق الأهداف	(د) عدم مواكبة التغيرات

### ٢] ضعي علامة (صح) نهاية العبارة الصحيحة وعلامة (خطأ) نهاية العبارة الخاطئة فيما يلي :

- ١- يؤدي التخطيط إلى النجاح .
- ٢- من فوائد تنظيم الوقت حصر الأعمال اليومية .
- ٣- من أسس التخطيط تنظيم الوقت .
- ٤- من نتائج التخطيط التوتر والقلق .



### ٣] ارسمي خارطة مفاهيم لفوائد تنظيم الوقت :

حقيبتك



www.haqibati.net

### فوائد تنظيم الوقت



حقيبتك



١ من ١

www.haqibati.net