

تم تحميل وعرض المادة من منصة

# حقيبتك

[www.haqibati.net](http://www.haqibati.net)



منصة حقيبتك التعليمية

منصة حقيبتك هو موقع تعليمي يعمل على تسهيل العملية التعليمية بطريقة بسيطة وسهلة وتوفير كل ما يحتاجه المعلم والطالب لكافة الصفوف الدراسية كما يحتوي الموقع على حلول جميع المواد مع الشروح المتنوعة للمعلمين.

الاختبار النهائي لمادة كيمياء ٣ الصف الثالث الثانوي الفصل الدراسي الأول لعام ١٤٤٦ هـ عدد الصفحات: ٤

|                   |                   |             |
|-------------------|-------------------|-------------|
| اسم الطالب: ..... | رقم الجلوس: ..... | درجة الطالب |
|                   |                   | ٣٠          |

|     |       |        |          |        |          |        |
|-----|-------|--------|----------|--------|----------|--------|
| رقم | كتابة | المصحح | الاسم:   | المصحح | الاسم:   | المصحح |
|     |       |        | التوقيع: |        | التوقيع: |        |

السؤال الأول: ضع علامة (✓) أمام العبارة الصحيحة وعلامة (X) أمام العبارة الخاطئة:

١٠

- ١- الحمض لدى أرهينيوس مادة تحتوي على الهيدروجين، وتتأين في المحاليل المائية منتجة أيونات الهيدروجين. ( )
- ٢- القاعدة لدى برونستد - لوري هي المادة المانحة لأيون الهيدروجين. ( )
- ٣- تُسمى الأحماض التي تحتوي على ذرة هيدروجين واحدة غير قابلة للتأين بالأحماض أحادية البروتونات. ( )
- ٤- تُسمى الأحماض التي تحتوي على أكثر من ذرة هيدروجين واحدة غير قابلة للتأين بالأحماض متعددة البروتونات. ( )
- ٥- الحمض لدى لويس هو المادة المستقبلية لزوج من الإلكترونات. ( )
- ٦- ثابت تأين القاعدة هي قيمة تُعبر عن ثابت الاتزان لتأين قاعدة قوية ويرمز له بـ ( $K_a$ ). ( )
- ٧- سعة المحلول هي كمية الحمض أو القاعدة التي لا يستطيع المحلول المنظم أن يستوعبها دون التغير في الـ pH. ( )
- ٨- قيمة الـ  $K_w$  عند 298 k تساوي  $1 \times 10^{-14}$  ( )
- ٩- الرقم الهيدروجيني الـ pH هو سالب لوغاريتم تركيز أيون الهيدروجين. ( )
- ١٠- الحركة البروانية هي الحركة المنتظمة لجسيمات المذاب في المخاليط الغروية السائلة. ( )

- ١- ينص على أن حجم مقدار محدد من الغاز يتناسب عكسياً مع الضغط الواقع عليه عند ثبوت درجة الحرارة:  
أ- قانون شارل. ب- قانون بويل. ج- قانون جاي لوساك. د- قانون جراهام.
- ٢- ينص على أن حجم كمية محددة من الغاز يتناسب طردياً مع درجة حرارته المطلقة عند ثبوت الضغط:  
أ- قانون بويل. ب- قانون شارل. ج- قانون جاي لوساك. د- قانون جراهام.
- ٣- ينص على أن ضغط مقدار محدد من الغاز يتناسب طردياً مع درجة الحرارة المطلقة:  
أ- قانون شارل. ب- قانون بويل. ج- قانون جاي لوساك. د- قانون جراهام.
- ٤- القانون الذي يحدد العلاقة بين الضغط ودرجة الحرارة والحجم لكمية محددة من الغاز هو:  
أ- قانون الغاز المثالي. ب- قانون بويل. ج- القانون العام للغازات. د- قانون جراهام.
- ٥- ينص على أن الحجم المتساوية من الغازات المختلفة تحتوي العدد نفسه من الجسيمات عند نفس درجة الحرارة والضغط:  
أ- قانون الغاز المثالي. ب- قانون بويل. ج- القانون العام للغازات. د- مبدأ أفوجادرو.
- ٦- هو الحجم الذي يشغله 1mol من الغاز عند درجة حرارة 0.0 C° وضغط جوي 1atm:  
أ- الكسر المولي. ب- الحجم المولالي للغاز. ج- الضغط. د- الحجم المولالي للغاز.
- ٧- ينص على أن ذوبانية غاز في سائل عند حرارة معينة تتناسب طردياً مع ضغط الغاز الموجود فوق السائل:  
أ- قانون هنري. ب- قانون بويل. ج- قانون جاي لوساك. د- قانون شارل.
- ٨- تُسمى الأحماض التي تتأين كلياً ب:  
أ- الأحماض القوية. ب- الأحماض المتعادلة. ج- الأحماض الضعيفة. د- القاعدة القوية.
- ٩- تُسمى القواعد التي تتأين جزئياً ب:  
أ- القواعد الضعيفة. ب- القواعد القوية. ج- الأحماض القوية. د- الأحماض الضعيفة.
- ١٠- مركب أيوني يتكون من أيون موجب مُشتق من قاعدة وأيون سالب مُشتق من حمض:  
أ- الملح. ب- المركب التساهمي. ج- الحمض. د- القاعدة.

السؤال الثالث: أكمل الفراغات بما يناسبها من المصطلحات التالية:

١٠

(تفاعل التعادل – المعايرة – الكواشف - نقطة نهاية المعايرة - تميه الأملاح - المحاليل المنظمة - الكسر المولي - المولالية - المحاليل القياسية – المولارية – التركيز - تأثير تندال)

- ١- قدرة جسيمات المخاليط الغروية على تشتيت الضوء تعرف بـ .....
- ٢- ..... قياس كمية محددة من المذيب أو المحلول.
- ٣- ..... عدد مولات المذاب الذائبة في لتر من المحلول.
- ٤- المحاليل التي لها تراكيز محددة وتستخدم في المختبرات تعرف بـ .....
- ٥- ..... عدد مولات المذاب الذائبة في كيلو جرام من المذيب.
- ٦- هو نسبة عدد مولات المذاب أو المذيب في محول إلى عدد المولات الكلية للمذيب والمذاب.....
- ٧- تُعرف..... بالمحاليل التي تُقاوم التغير في Ph عند إضافة كميات محدد من الأحماض والقواعد.
- ٨- ..... هو تفاعل الأملاح مع الماء.
- ٩- تُسمى النقطة التي يتغير عندها لون الكاشف بـ.....
- ١٠- تُعرف الأصباغ الكيميائية التي تتأثر ألوانها بالمحاليل الحمضية والقاعدية بـ.....
- ١١- ..... هي طريقة لتحديد تركيز محلول ما وذلك بتفاعل حجم معلوم منه مع محلول تركيزه معلوم.
- ١٢- يُطلق على تفاعل محلول حمضي مع محلول قاعدي لتكوين ملح وماء بـ.....

اقلب الصفحة



السؤال الرابع: تحدث عينة من الهواء في حقنة ضغط مقدارها 1.02 atm عند 22°C ووضعت هذه الحقنة في حمام ماء يغلي درجة حرارته 100°C وازداد الضغط إلى 1.23 atm بدفع مكبس الحقنة إلى الداخل مما أدى إلى نقصان الحجم إلى 0.224ml فكم كان الحجم الابتدائي؟

|   |
|---|
|   |
| ٢ |

السؤال الخامس: أحسب قيمة pH و pOH لمحلول إذا علمت أن أيون الهيدروكسيد عند 298K هو  $1.0 \times 10^{-6}$

|   |
|---|
|   |
| ٢ |

السؤال السادس: اكتب معادلة تفاعل الخلية الكلي. ثم احسب جهد الخلية القياس، ثم اكتب رمز الخلية



|   |
|---|
|   |
| ٢ |

المادة: كيمياء ٣-١  
الصف: ثالث ثانوي  
الزمن ساعتان ونصف  
رقم الجلوس .....  
رقم الشعبة .....

بسم الله الرحمن الرحيم



المملكة العربية السعودية

وزارة التعليم

الإدارة العامة للتعليم ...

مكتب تعليم .....

ثانوية .....

المسار العام/ الفصل الأول ١٤٤٦ هـ

اسم الطالب / .....

30 درجة

12

السؤال الأول / اجب بعلامة ( ✓ ) أمام العبارة الصحيحة وعلامة ( X ) أمام العبارة الخاطئة لكل مما يلي:

أ

|     |  |    |
|-----|--|----|
| ( ) | لا تترسب جسيمات المخاليط الغروية لسببين الأول الحركة البراونية والقوى الكهروستاتيكية | 1  |
| ( ) | يمكن فصل المخلوطين المعلق بالتسخين   | 2  |
| ( ) | وحدة قياس المولارية هي Mol/L   | 3  |
| ( ) | غالبًا مذاق الأحماض لاذع   | 4  |
| ( ) | يصنف التفاعل التالي : $K(s) \rightarrow K^{+}(aq) + e^{-}$ كتفاعل اختزال.            | 5  |
| ( ) | الأحماض تحول تباع الشمس من الأحمر إلى الأزرق   | 6  |
| ( ) | حمض برونستد يمثل المادة المانحة لأيون هيدروجين                                       | 7  |
| ( ) | من مميزات بطاريات الليثيوم ان عمرها طويل   | 8  |
| ( ) | تحدث عملية الأكسدة في الخلايا الجلفانية عند المهبط                                   | 9  |
| ( ) | الملح مركب أيوني يتكون من أيون موجب من قاعدة وإيون سالب من حمض                       | 10 |
| ( ) | في خلية الخارصين والكربون يكون المصعد ( الأنود ) هو الكربون                          | 11 |
| ( ) | الأيون المتفرج هو الأيون الذي لا يتغير أثناء التفاعل                                 | 12 |

السؤال الثاني / ضع دائرة على الحرف الذي يسبق الإجابة الصحيحة لكل مما يلي

أ

1 - تفاعل حمض مع قاعدة لإنتاج ملح وماء يسمى عملية :

|   |       |   |       |
|---|-------|---|-------|
| أ | تعادل | ب | تمائل |
| ج | تأين  | د | تفكك  |

2 - احد المخاليط التالية معلق

|   |       |   |           |
|---|-------|---|-----------|
| أ | الدم  | ب | الجيلاتين |
| ج | الوحد | د | الحليب    |

3 - تسمى عملية فقد ذرة الحديد Fe للإلكترونات

|   |       |   |        |
|---|-------|---|--------|
| أ | أكسدة | ب | اختزال |
| ج | تعادل | د | تكوين  |

4 - المحلول المائي الذي فيه  $PH > 7$ 

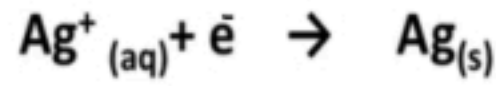
|   |        |   |             |
|---|--------|---|-------------|
| أ | حامضي  | ب | قاعدي       |
| ج | متعادل | د | ليس مما سبق |

5 - الحليب ...

|   |              |   |            |
|---|--------------|---|------------|
| أ | مخلوط غروي   | ب | مخلوط معلق |
| ج | مخلوط متجانس | د | محلول      |

6 - البطارية الجافة التي تحتوي على عمود من الكربون فيما يلي هي :

|   |                    |   |                          |
|---|--------------------|---|--------------------------|
| أ | البطاريات القلوية  | ب | بطارية الخارصين والكربون |
| ج | بطارية أكسيد الفضة | د | بطارية المركم الرصاصي    |



7 - التغير الكيميائي التالي يعتبر عملية :

|   |       |   |            |
|---|-------|---|------------|
| أ | أكسدة | ب | اختزال     |
| ج | تكوين | د | عامل مؤكسد |

18

8 - عدد التأكسد لعنصر الأكسجين في المركب  $H_2O_2$  يساوي .....

|   |    |   |    |
|---|----|---|----|
| أ | +3 | ب | -1 |
| ج | +5 | د | -7 |

9 - النسبة المئوية بدلالة الحجم لكحول الإيثانول في محلول يحتوي على 35 ml من كحول الإيثانول مذاب في 155ml في الماء تساوي :

|   |        |   |        |
|---|--------|---|--------|
| أ | 14%    | ب | 17.66% |
| ج | 18.42% | د | 11%    |

10 - يرمز لثابت تآين القاعدة بالرمز :

|   |       |   |       |
|---|-------|---|-------|
| أ | $K_a$ | ب | $K_b$ |
| ج | $K_c$ | د | $K_d$ |

11 - النقطة التي يتغير لون الكاشف عندها :

|   |              |   |              |
|---|--------------|---|--------------|
| أ | نقطة النهاية | ب | نقطة التكافؤ |
| ج | المعايرة     | د | الكواشف      |

12 - عدد التأكسد للذرة الغير متحدة :

|   |    |   |    |
|---|----|---|----|
| أ | +2 | ب | 0  |
| ج | +3 | د | -1 |

13 - عند إذابة 10 جرام من السكر في 100 جرام ماء فإن السكر يعتبر :

|   |            |   |               |
|---|------------|---|---------------|
| أ | مذيب       | ب | مذاب          |
| ج | وسط انتشار | د | جسيمات منتشرة |

14 - تفاعل الأملاح مع الماء يدعى :

|   |      |   |        |
|---|------|---|--------|
| أ | تميه | ب | تبادل  |
| ج | تصين | د | إختزال |

15 - أي العناصر تمثل اقوى عامل مؤكسد ؟

|   |          |   |            |
|---|----------|---|------------|
| أ | الكلور   | ب | الفلور     |
| ج | الأكسجين | د | النيتروجين |

16 - الوقود المستخدم في خلايا الوقود الجلفانية هو :

|   |       |   |        |
|---|-------|---|--------|
| أ | $H_2$ | ب | $N_2$  |
| ج | $N_2$ | د | $Cl_2$ |

17 - إذا ذاب 0,55 g من غاز ما في 1L من الماء عند ضغط 20kpa فما كمية الغاز نفسه التي تذوب عند ضغط 110kpa ؟

|   |      |   |    |
|---|------|---|----|
| أ | 3g/L | ب | 3L |
| ج | 4g/L | د | 4L |

18 - أي العناصر عدد تأكسدها موجب ؟

|   |                 |   |           |
|---|-----------------|---|-----------|
| أ | الهالوجينات     | ب | الفلزات   |
| ج | الغازات النبيلة | د | اللافلزات |

المادة: كيمياء ٣-١  
الصف: ثالث ثانوي  
الزمن ساعتان ونصف  
رقم الجلوس .....  
رقم الشعبة .....

بسم الله الرحمن الرحيم



المملكة العربية السعودية

وزارة التعليم

الإدارة العامة للتعليم ...

مكتب تعليم .....

ثانوية .....

المسار العام/ الفصل الأول

اسم الطالب / .....

## نموذج الإجابة

30 درجة

12

السؤال الأول / اجب بعلامة ( ✓ ) أمام العبارة الصحيحة وعلامة ( X ) أمام العبارة الخاطئة لكل مما يلي:

أ

|       |  |    |
|-------|--|----|
| ( ✓ ) | لا تترسب جسيمات المخاليط الغروية لسببين الأول الحركة البراونية والقوى الكهروستاتيكية | 1  |
| ( X ) | يمكن فصل المخلوطين المعلق بالتسخين   | 2  |
| ( ✓ ) | وحدة قياس المولارية هي Mol/L   | 3  |
| ( ✓ ) | غالبًا مذاق الأحماض لاذع   | 4  |
| ( X ) | يصنف التفاعل التالي : $K(s) \rightarrow K^+(aq) + e^-$ كتفاعل اختزال.                | 5  |
| ( X ) | الأحماض تحول تباع الشمس من الأحمر إلى الأزرق   | 6  |
| ( ✓ ) | حمض برونستد يمثل المادة المانحة لأيون هيدروجين                                       | 7  |
| ( ✓ ) | من مميزات بطاريات الليثيوم أن عمرها طويل   | 8  |
| ( X ) | تحدث عملية الأكسدة في الخلايا الجلفانية عند المهبط                                   | 9  |
| ( ✓ ) | الملح مركب أيوني يتكون من أيون موجب من قاعدة وإيون سالب من حمض                       | 10 |
| ( X ) | في خلية الخارصين والكربون يكون المصعد ( الأنود ) هو الكربون                          | 11 |
| ( ✓ ) | الأيون المتفرج هو الأيون الذي لا يتغير أثناء التفاعل                                 | 12 |

السؤال الثاني / ضع دائرة على الحرف الذي يسبق الإجابة الصحيحة لكل مما يلي

أ

1 - تفاعل حمض مع قاعدة لإنتاج ملح وماء يسمى عملية :

|   |       |   |       |
|---|-------|---|-------|
| أ | تعاقد | ب | تمائل |
| ج | تأين  | د | تفكك  |

2 - احد المخاليط التالية معلق

|   |       |   |           |
|---|-------|---|-----------|
| أ | الدم  | ب | الجيلاتين |
| ج | الوحد | د | الحليب    |

3 - تسمى عملية فقد ذرة الحديد Fe للإلكترونات

|   |       |   |        |
|---|-------|---|--------|
| أ | أكسدة | ب | اختزال |
| ج | تعاقد | د | تكوين  |

4 - المحلول المائي الذي فيه  $PH > 7$ 

|   |        |   |             |
|---|--------|---|-------------|
| أ | حامضي  | ب | قاعدي       |
| ج | متعاقد | د | ليس مما سبق |

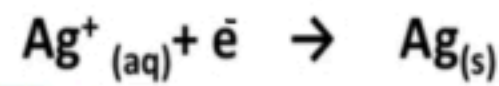
5 - الحليب ...

|   |              |   |            |
|---|--------------|---|------------|
| أ | مخلوط غروي   | ب | مخلوط معلق |
| ج | مخلوط متجانس | د | محلول      |

6 - البطارية الجافة التي تحتوي على عمود من الكربون فيما يلي هي :

|   |                    |   |                          |
|---|--------------------|---|--------------------------|
| أ | البطاريات القلوية  | ب | بطارية الخارصين والكربون |
| ج | بطارية أكسيد الفضة | د | بطارية المركم الرصاصي    |





7 - التغيير الكيميائي التالي يعتبر عملية :

|   |       |   |            |
|---|-------|---|------------|
| أ | أكسدة | ب | اختزال     |
| ج | تكوين | د | عامل مؤكسد |

8 - عدد التأكسد لعنصر الأكسجين في المركب  $H_2O_2$  يساوي .....

|   |    |   |    |
|---|----|---|----|
| أ | +3 | ب | -1 |
| ج | +5 | د | -7 |

9 - النسبة المئوية بدلالة الحجم لكحول الإيثانول في محلول يحتوي على 35 ml من كحول الإيثانول مذاب في 155ml في الماء تساوي :

|   |        |   |        |
|---|--------|---|--------|
| أ | 14%    | ب | 17.66% |
| ج | 18.42% | د | 11%    |

10 - يرمز لثابت تآين القاعدة بالرمز :

|   |       |   |       |
|---|-------|---|-------|
| أ | $K_a$ | ب | $K_b$ |
| ج | $K_c$ | د | $K_d$ |

11 - النقطة التي يتغير لون الكاشف عندها :

|   |              |   |              |
|---|--------------|---|--------------|
| أ | نقطة النهاية | ب | نقطة التكافؤ |
| ج | المعايرة     | د | الكواشف      |

12 - عدد التأكسد للذرة الغير متحدة :

|   |    |   |    |
|---|----|---|----|
| أ | +2 | ب | 0  |
| ج | +3 | د | -1 |

13 - عند إذابة 10 جرام من السكر في 100 جرام ماء فإن السكر يعتبر :

|   |            |   |               |
|---|------------|---|---------------|
| أ | مذيب       | ب | مذاب          |
| ج | وسط انتشار | د | جسيمات منتشرة |

14 - تفاعل الأملاح مع الماء يدعى :

|   |      |   |        |
|---|------|---|--------|
| أ | تميه | ب | تبادل  |
| ج | تصين | د | إختزال |

15 - أي العناصر تمثل اقوى عامل مؤكسد ؟

|   |          |   |            |
|---|----------|---|------------|
| أ | الكلور   | ب | الفلور     |
| ج | الأكسجين | د | النيتروجين |

16 - الوقود المستخدم في خلايا الوقود الجلفانية هو :

|   |       |   |        |
|---|-------|---|--------|
| أ | $H_2$ | ب | $N_2$  |
| ج | $N_2$ | د | $Cl_2$ |

17 - إذا ذاب 0,55 g من غاز ما في 1L من الماء عند ضغط 20kpa فما كمية الغاز نفسه التي تذوب عند ضغط 110kpa ؟

|   |      |   |    |
|---|------|---|----|
| أ | 3g/L | ب | 3L |
| ج | 4g/L | د | 4L |

18 - أي العناصر عدد تأكسدها موجب ؟

|   |                 |   |           |
|---|-----------------|---|-----------|
| أ | الهالوجينات     | ب | الفلزات   |
| ج | الغازات النبيلة | د | اللافلزات |

## السؤال الأول : ( أ ) اختر الإجابة الصحيحة للعبارات الآتية

الحركة العشوائية لجسيمات المذاب في المخاليط تسمى.....

١ أ - الموجية ب - المستقيمة ج - البراونية د - الدائرية

إذا كان تركيز ايون الهيدروكسيد  $1.0 \times 10^{-6}$  عند درجة حرارة K 298 فان قيمة PH و POH هي .....

٢ أ - PH= 11.6 , POH=2.4 ب - PH = 4.8 , POH= 8.2 ج - PH= 7 , POH=6.4 د - POH =6 , PH =8

كاثود الخلية الجافة عبارة عن عمود.....

٣ أ - كربون ب - الخارصين ج - صوديوم د - نحاس

حسب قاعدة بر ونستد - لورى اذا كان  $\text{OH}^-$  قاعدة فان الحمض المرافق لها هو .....

٤ أ -  $\text{H}_3\text{O}^+$  ب -  $\text{O}^{2-}$  ج -  $\text{H}_2\text{O}_2$  د -  $\text{H}_2\text{O}$

المخلوط المعلق يمكن فصله

٥ أ - بالتقطير ب - بالمغناطيس ج - بالترشيح د - بالتبلور

المعامل الصحيح في الفراغ لكي تتزن المعادلة في وسط حمضي للتفاعل التالي



٦ أ - 6 ب - 2 ج - 4 د - 1

إذا احتوى حوض الاسماك على 3.6 g NaCl لكل 100mg ماء فان النسبة المئوية بدلالة الكتلة لكلوريد الصوديوم في المحلول .....

٧ أ - % 5.3 ب - % 33.5 ج - %53.5 د - %3.5

٨ -- في التفاعل التالي  $\text{Zn} + \text{Cu}^{2+} \rightarrow \text{Zn}^{2+} + \text{Cu}$  اذا علمت ان  $E^0_{\text{Cu}^{2+}} = +0.342\text{V}$  ,  $E^0_{\text{Zn}^{2+}} = -0.762\text{V}$  فان فرق جهد الخلية الكلي يساوي .....V

٩ أ - 0.32 ب - 1.1 ج - 0.11 د - 11

أذابه 1 mol من كلوريد الالمونيوم  $\text{AlCl}_3$  في 1 kg من الماء ينتج عنه .... من الايونات

٩ أ - 1 mol ب - 2 mol ج - 3 mol د - 4 mol

أحد الاملاح التالية ينتج محلول حمضي

١٠ أ -  $\text{NH}_4\text{Cl}$  ب - KF ج -  $\text{NaNO}_3$  د - NaCl

السؤال الثاني : ضع علامة ( √ ) امام العبارات الصحيحة وعلامة ( x ) امام العبارات الخاطئة

١١

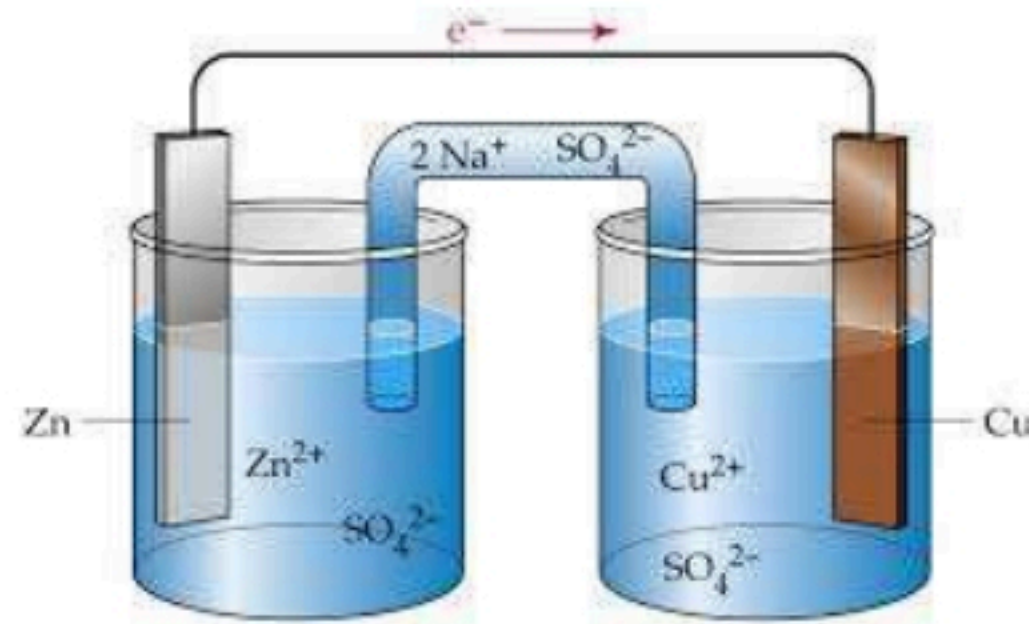
| م  | العبرة  | العلامة |
|----|---|---------|
| ١  | تزداد ذائبية الغازات في السوائل بارتفاع درجة الحرارة  | ( )     |
| ٢  | حسب نموذج لويس فإن NH <sub>3</sub> يعتبر حمض اذا كان ( N = 7 , 1=H )                            | ( )     |
| ٣  | عدد مولات المداب تقل عند تخفيف المحلول المركز   | ( )     |
| ٤  | العناصر ذات الكهروسالبية المنخفضة عوامل مختزلة قوية   | ( )     |
| ٥  | يدعى المزيج من مادتين نقيتين او اكثر تحتفظ فيه كل مادة بخصائصها الكيميائية بالمخلوط             | ( )     |
| ٦  | مواد تقاوم التغير في قيمة الـ PH عند اضافة كميات محددة من الاحماض والقواعد تدعى المواد المترددة | ( )     |
| ٧  | عملية احاطة جسيمات المداب بجسيمات المذيب تسمى الذوبان   | ( )     |
| ٨  | البطاريات الاولية لا يمكن اعادة شحنها   | ( )     |
| ٩  | المخلوط الغروي لا يترسب ولا يمكن فصل مكوناته المتجانسة بالترويق او الترشيح                      | ( )     |
| ١٠ | يسير التيار الكهربائي من القطب السالب الى القطب الموجب في خلية التحليل الكهربائي                | ( )     |
| ١١ | عدد التأكسد لعنصر الكبريت الموجودة في المركب H <sub>2</sub> SO <sub>3</sub> يساوي -2            | ( )     |
| ١٢ | يوجد الخارصين في الخلية القلوية على هيئة مسحوق هيئة   | ( )     |

السؤال الثالث ( أ ) علل لما يلي : الجبس لايدوب في الماء.

٨

ب - من خلال الرسم للخلية الجلفانية اجب عما يلي

١ - العامل المؤكسد..... ٢ - العامل المختزل..... ٣ - رمز الخلية..... الانود.....



ج - اكتب المصطلح العلمي المناسب فيما يلي ( الكواشف - البطارية - تأثير تندال )

١ - خلية جلفانية او اكثر من عبوة واحدة تنج التيار الكهربائي .....

٢ - قدرة جسيمات المخاليط على تشتت الضوء .....

انتهت الاسئلة

٣ - اصباغ التي تتأثر الوانها بالمحاليل الحمضية والقاعدية.....