

تم تحميل وعرض المادة من منصة

حقيبتك

www.haqibati.net



منصة حقيبتك التعليمية

منصة حقيبتك هو موقع تعليمي يعمل على تسهيل العملية التعليمية بطريقة بسيطة وسهلة وتوفير كل ما يحتاجه المعلم والطالب لكافة الصفوف الدراسية كما يحتوي الموقع على حلول جميع المواد مع الشروح المتنوعة للمعلمين.

ملزمة وأوراق عمل مادة العلوم



الصف الثاني الابتدائي
الفصل الدراسي الثاني لعام ١٤٤٥ هـ

الاسم:

الفصل:





التوصيات	التقييم		
			



الدرس الأول (اليابسة)

أغلفة الأرض

٢_ من خلال الصور التالية نحدد اشكال اليابسة :



٣- نصل بين المفردة والعبارة المناسبة لها :

أجزاء صغيرة من اليابسة محاطة بالماء من جميع الاتجاهات

قلعة

الأجزاء الكبيرة من اليابسة محاطة بالمحيطات

جزيرة





الدرس الأول (اليايسة)

١_ نكمل الفراغات التالية بما يلي :



١_ منطقة مرتفعة جدا من اليايسة


٢- اليايسة لها اشكال

٣_ ارض منخفضة بين الجبال والتلال

٤- مناطق مرتفعة ولكن أقل ارتفاع من الجبال




٢_ من الشكل السابق احدد الى ماذا تشير الألوان ؟





الدرس الثاني (الماء على الأرض)

١_ من خلال الصور نضع إشارة ✓ تحت استخدامات الماء:



٢_ هل العبارات التالية صحيحة؟

- ١_ تغطي المحيطات ثلاثة ارباع الأرض (.....)
- ٢_ من مصادر الماء العذب الابار (.....)
- ٣_ توجد معظم مياه الأرض في الجبال (.....)

من يشرب من:

الانهار

٣_ الحيوا

المحيطات

العيون





الفصل السادس (موارد الأرض) الدرس الأول (الصخور والمعادن)

١_ نصل كل مفردة مع العبارة المناسبة:

أجزاء غير حية تتكون منها الصخور

الصخور

أشياء غير حية موجودة في الأرض

المعادن


٢_ نربط بين صورة المعدن واستعمالاته:




المجنتيت



الفلورايت





الجرافيت



التركواز


موارد طبيعية



الدرس الثاني (التربة)



١_ نصل كل صورة بالعبارة المناسبة :



تربة زراعية (سطحية) فيها كثير
من الدبال

تربة طينية

تربة رملية


٢_ من خلال الصورة نكتب المطلوب

١_ افضل طبقة لنمو النباتات :

.....

٢_ تحتوي التربة السطحية على :

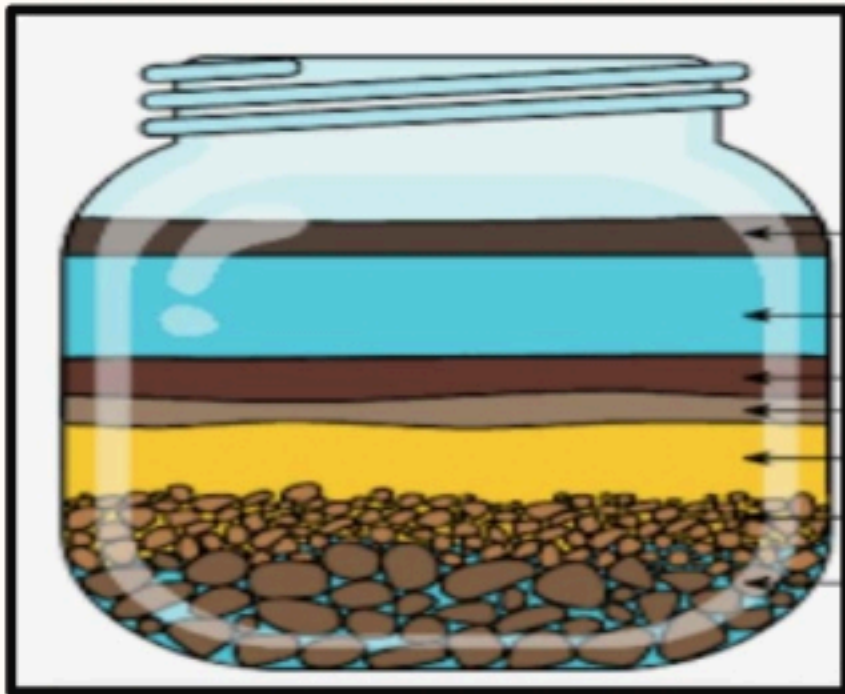
.....



الدرس الثاني (التربة)



مما تتكون التربة؟



- ١
- ٢

(.....) تربة تحوي الكثير من بقايا النباتات

والحيوانات المتحللة



تختلف التربة في لونها وملامسها:



أو





الوحدة الرابعة (الفضاء)

الفصل السابع (الأرض والسماء)

التوصيات	التقييم		
			





الدرس الأول (الليل والنهار)

١_ نصل بين المفردة والعبارة المناسبة لها:

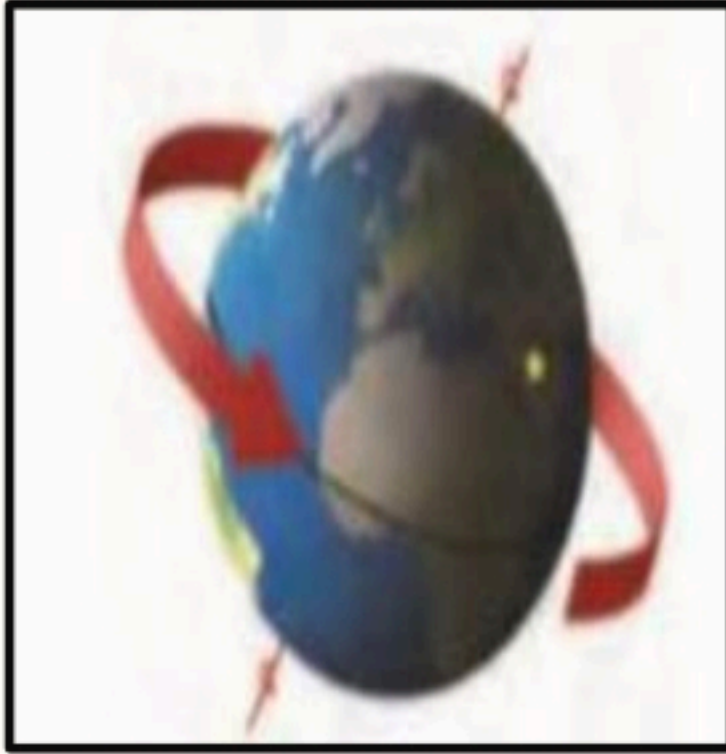
مسار تتبعه الأرض في أثناء دورانها

خط مركزي يدور حوله الجسم

محور الأرض

مدار الأرض

توضح الصورة التالية:



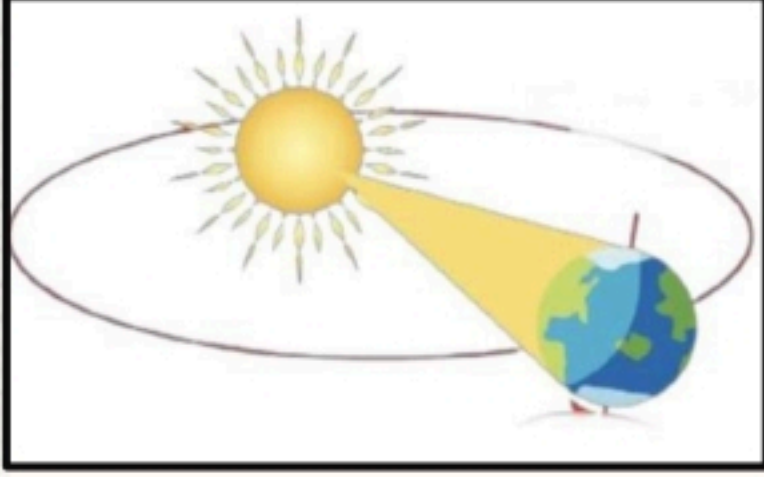
١_ (.....)

٢_ دورة الأرض الكاملة مدتها ساعة .





الدرس الأول (الليل والنهار)



١- ماذا ينتج عن دوران الأرض حول الشمس ؟


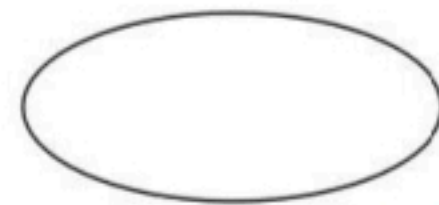
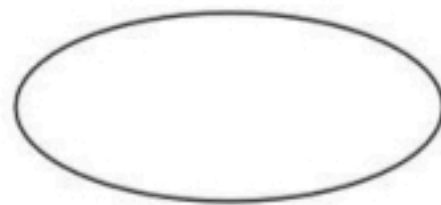
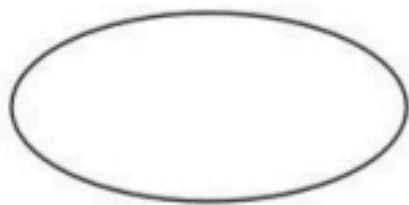


٢- اختر الصورة التي تمثل الليل



(.....)

(.....)

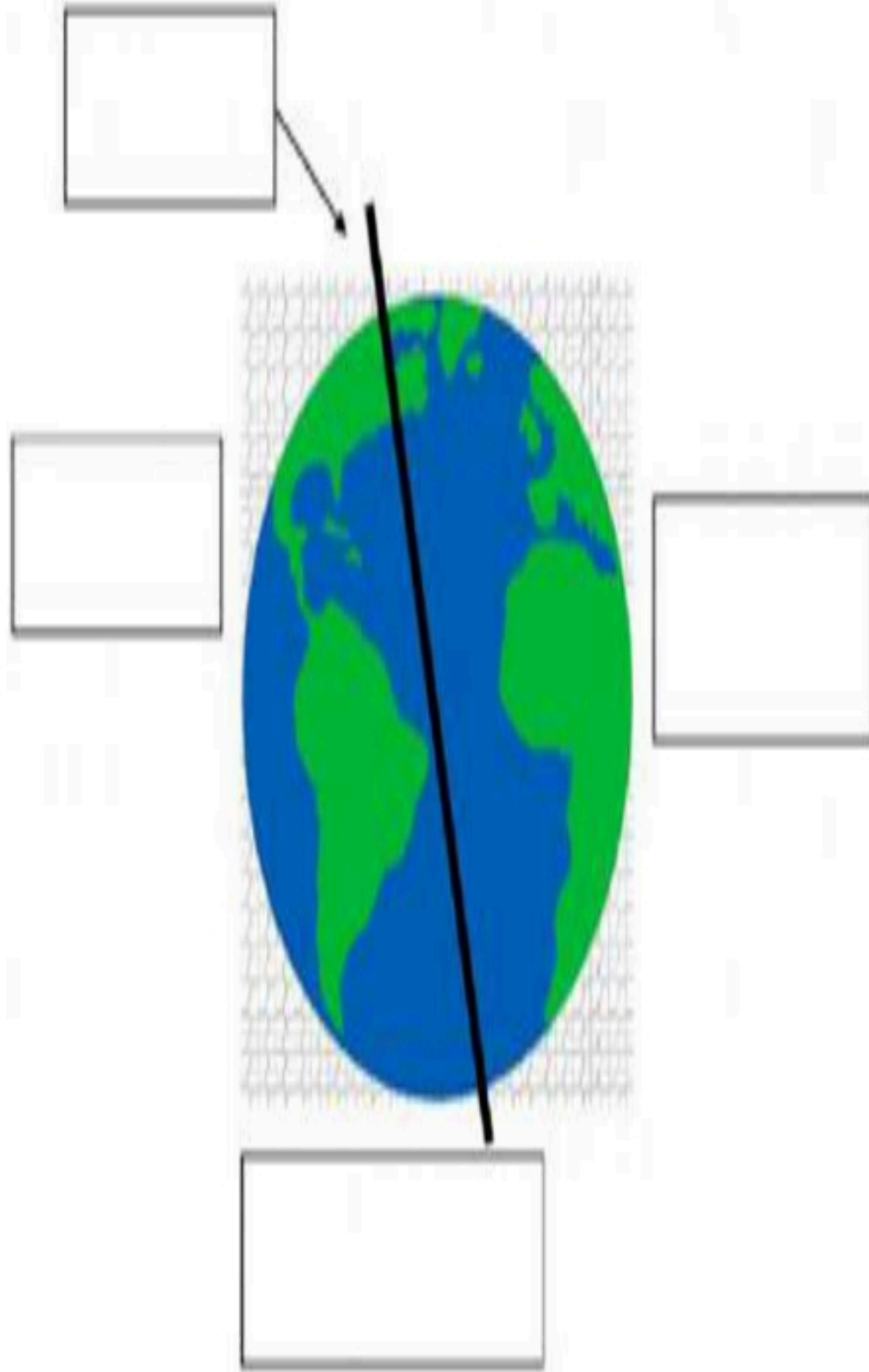
٣- من خلال الصور التالية ومشاهدة الظل نكتب الوقت المناسب :





الدرس الأول (الليل والنهار)

١- نكمل حسب المطلوب في الصورة :



النهار

المحور

الشمس

الليل


الأرض





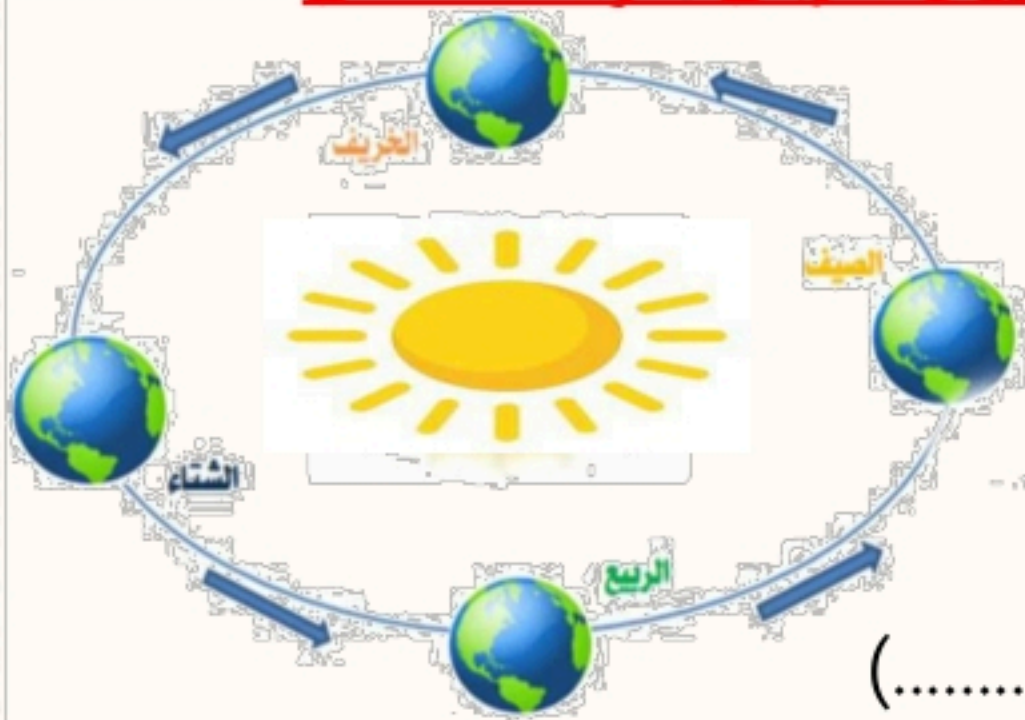
الدرس الثاني (سبب حدوث الفصول)

١- تحت كل صورة نكتب اسم الفصول الأربعة :



(.....) (.....) (.....) (.....)

٢- في الصورة التالية مالمظاهرة التي تنتج عن دوران الأرض حول الشمس



.....

٣- أجب عما يأتي بصح أو خطأ:

١- في الخريف يتغير لون أوراق الشجر (.....)

٢- تتساقط الثلوج في فصل الصيف (.....)



أو





الفصل الثامن (السماء) الدرس الأول (القمر والنجوم)

١- من خلال الكلمات التالية نكمل العبارات:

ثمانية

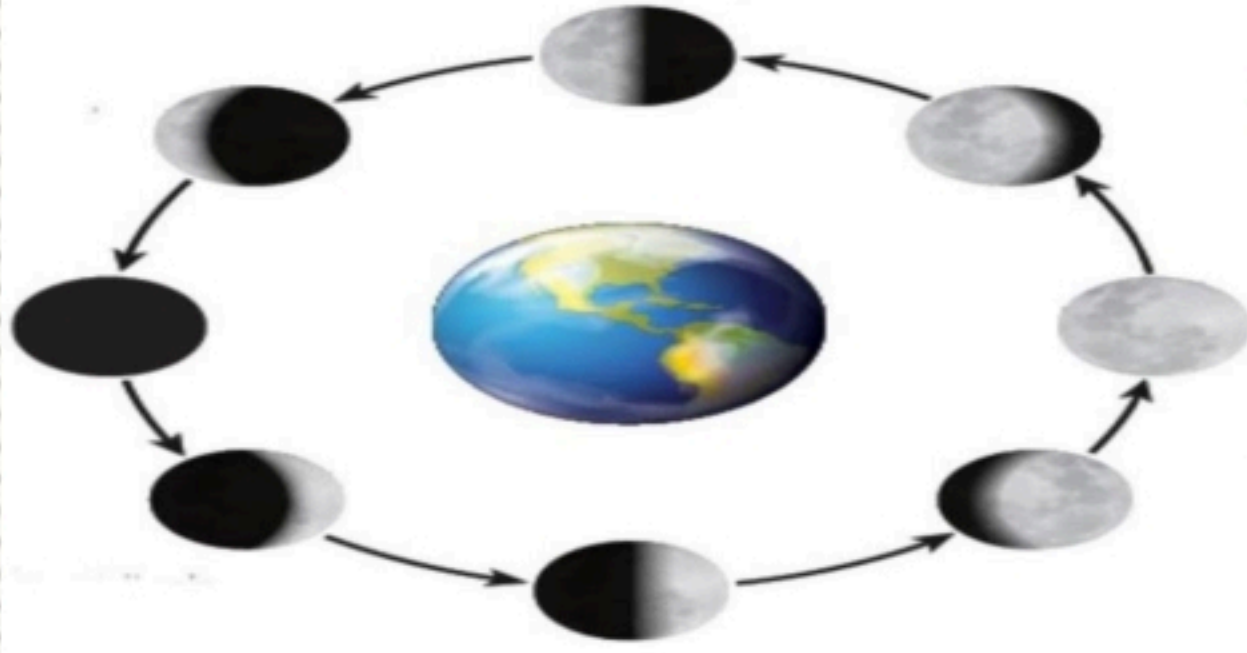
الكواكب

النجم

١_ نظامنا الشمسي فيه..... كواكب

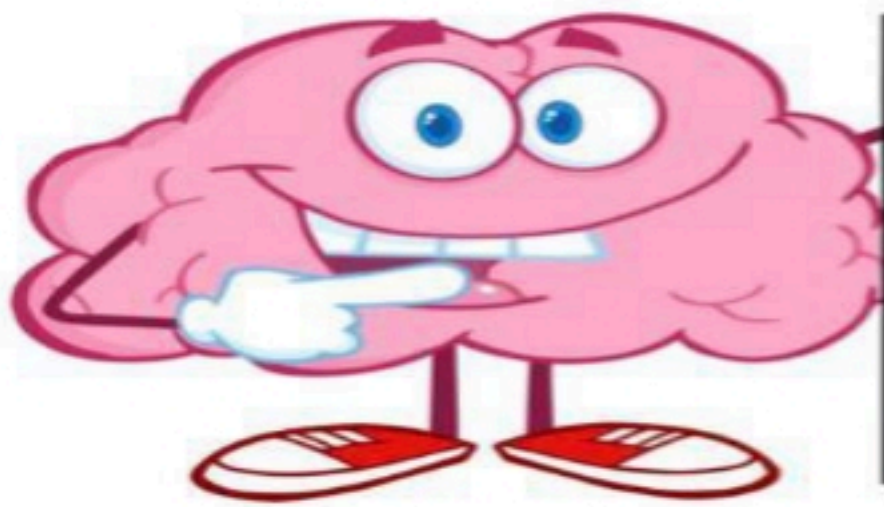
٢_ يصدر ضوء وحرارة

٣_ جسم كروي يدور حول نجم




٢- ماذا نسمي اشكال القمر خلال الشهر؟

.....
.....



صفات النجوم






الدرس الأول (القمر والنجوم)



أو



النجوم كلها مضيئة (.....)



مَن أتا؟

نجم متوسط الحجم , يبدو
كبيرا لأنه قريب من
الأرض

(.....)





الدرس الثاني (النظام الشمسي)



١_ مما يتكون نظامنا الشمسي؟

.....#

.....#

.....#

أين كوكب الأرض



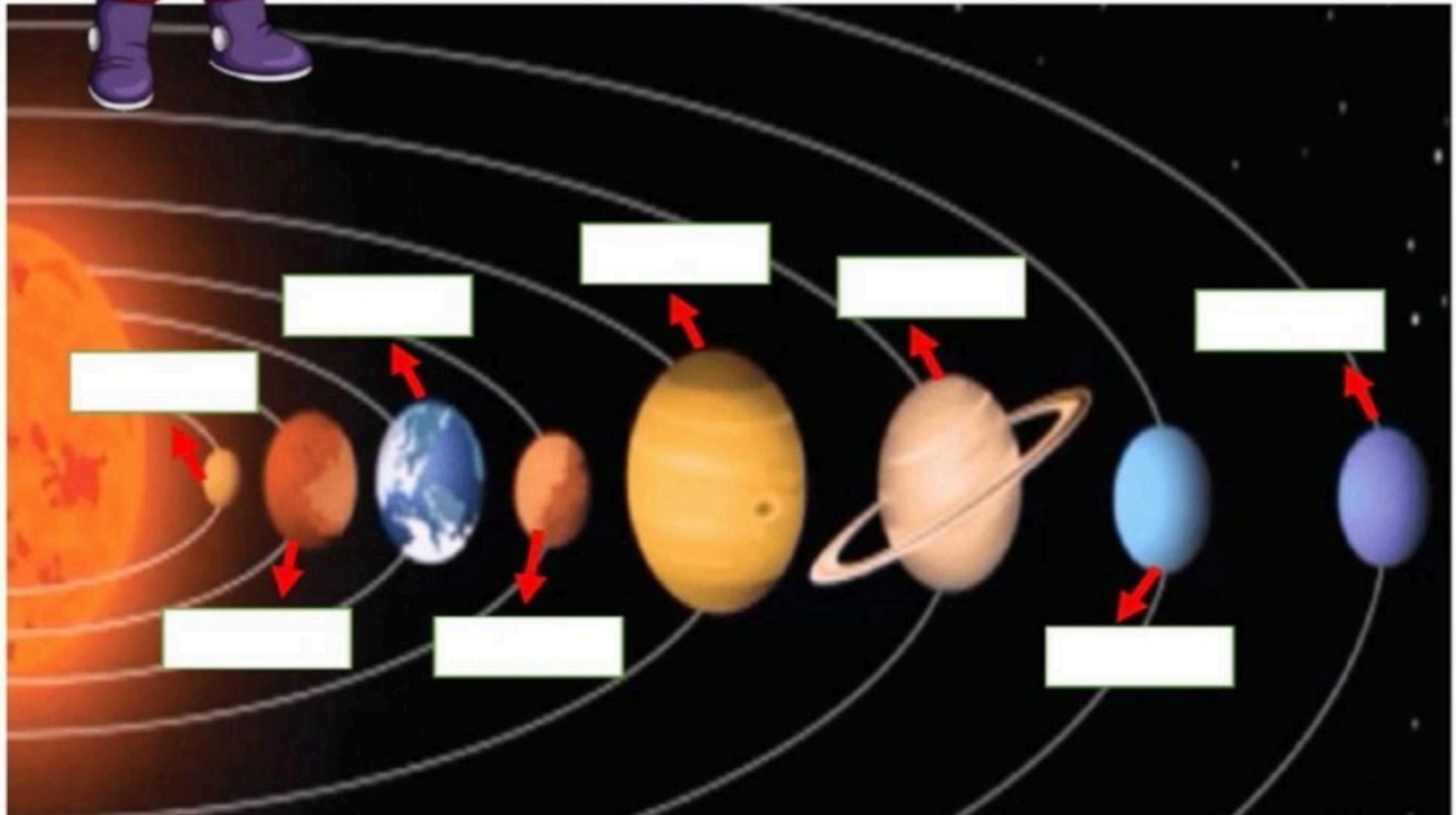
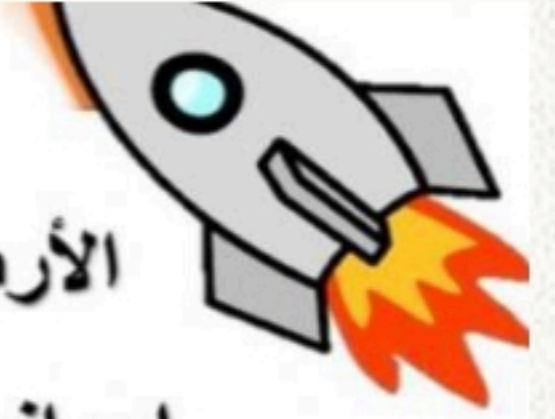


الدرس الثاني (النظام الشمسي)


١_ مالذي يدور حول الشمس؟



الأرض عطارد زحل المشتري
اورانوس نبتون الزهرة المريخ



٢_ على الصورة السابقة تدون أسماء الكواكب في المكان المخصص





الدرس الثاني (النظام الشمسي)


١- نصل كل كوكب بالعبارة المناسبة له :

فيها ماء وهواء ولها قمر واحد

له حلقات حوله مكونة من الثلج والصخور

اكبر الكواكب وله ٦٣ قمرا

اسخن الكواكب حيث تحجب سحبه الكثيفة
حرارة الشمس





الدرس الثاني (النظام الشمسي)

اقرأ ولوّن



زحل

الأرض



ملزمة وأوراق عمل مادة العلوم



الصف الثاني الابتدائي
الفصل الدراسي الثاني لعام ١٤٤٥ هـ

الاسم :

الفصل :



تقييم الوحدة

التوصيات	التقييم		
			





الدرس الأول (اليابسة)



٢_ من خلال الصور التالية نحدد اشكال اليابسة :



...الوادي...



...البحر....



...صحراء..



.....تلال.....

3-نصل بين المفردة والعبارة المناسبة لها :

أجزاء صغيرة من اليابسة محاطة بالماء من جميع الاتجاهات

قارة

الأجزاء الكبيرة من اليابسة محاطة بالمحيطات

جزيرة



الدرس الأول (اليايسة)

١_ نكمل الفراغات التالية بما يلي :

التلال

الوادي

الجبل

مختلفة

1_ منطقة مرتفعة جدا من اليايسة**المجبل**....

2- اليايسة لها اشكال ..**مختلفة**...

3_ **الوادي**. ارض منخفضة بين الجبال والتلال

4- مناطق مرتفعة ولكن أقل ارتفاع من الجبال ...**التلال**..



٢_ من الشكل السابق احدد الى ماذا تشير الألوان ؟



الماء

الصحراء

الجبال





الدرس الثاني (الماء على الأرض)


١_ من خلال الصور نضع إشارة ✓ تحت استخدامات الماء :



(✓...)



(.....)



(✓...)



(✓...)



(✓...)

٢_ هل العبارات التالية صحيحة؟

(✓...)

١_ تغطي المحيطات ثلاثة ارباع الأرض

(✓...)

٢_ من مصادر الماء العذب الابار

(✗...)

٣_ توجد معظم مياه الأرض في الجبال

٣_ الحيوان التالي لا يستطيع أن يشرب من :



العيون

المحيطات

الانهار





الفصل السادس (موارد الأرض)

الدرس الأول (الصخور والمعادن)

١_ نصل كل مفردة مع العبارة المناسبة:

أجزاء غير حية تتكون منها الصخور

الصخور

أشياء غير حية موجودة في الأرض

المعادن

٢_ نربط بين صورة المعدن واستعمالاته:



موارد طبيعية


هواء ، ماء

حيوان ، نبات



الدرس الثاني (التربة)

١_ نصل كل صورة بالعبارة المناسبة :



تربة زراعية (سطحية) فيها كثير من الدبال

تربة طينية

تربة رملية


٢_ من خلال الصورة نكتب المطلوب

١_ افضل طبقة لنمو النباتات :

.....التربة السطحية.....

٢_ تحتوي التربة السطحية على :

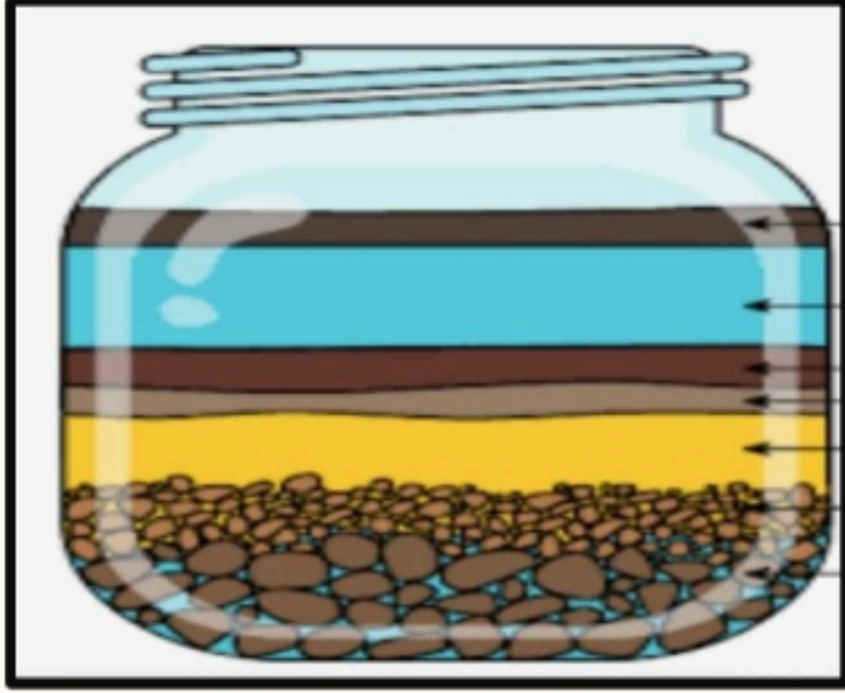
.....بقايا نباتات وحيوانات.....



الدرس الثاني (التربة)



مما تتكون التربة؟



١-تفتت صخور. ومعادن.....

٢-بقايا. نباتات وحيوانات. ميتة.....

(.....الدبال.....) تربة تحوي الكثير من بقايا

النباتات والحيوانات المتحللة



تختلف التربة في لونها وملمسها:



أو





الوحدة الرابعة (الفضاء)

الفصل السابع (الأرض والسماء)

التوصيات	التقييم		
			



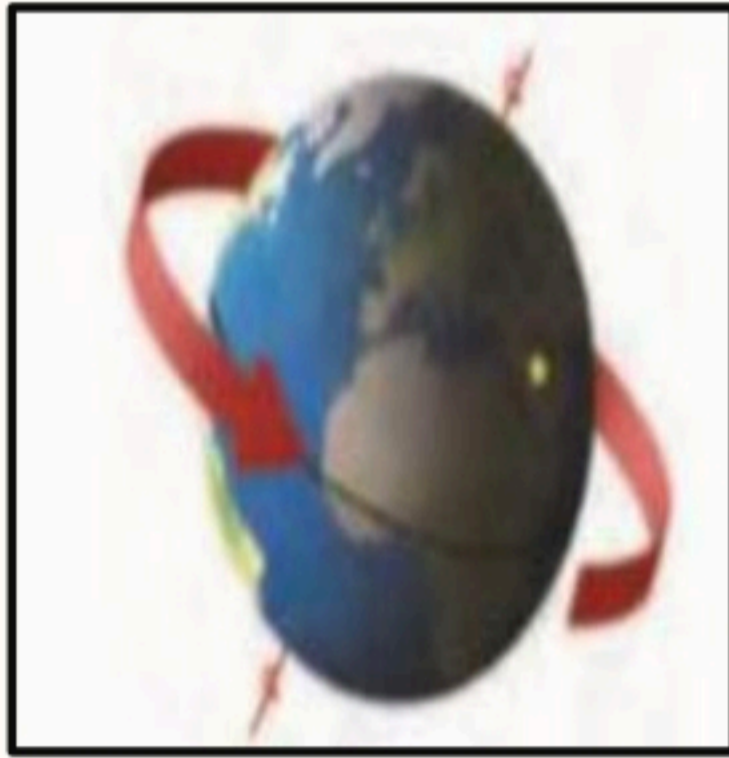


الدرس الأول (الليل والنهار)

١_ نصل بين المفردة والعبارة المناسبة لها :



توضح الصورة التالية :



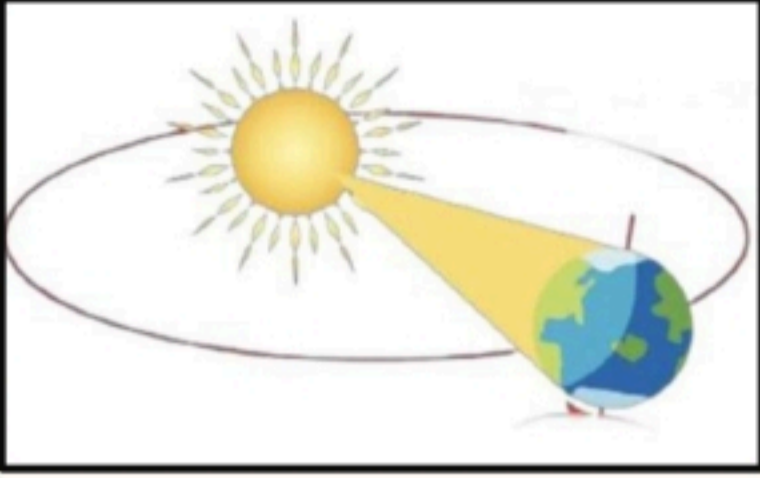
١_ (الحركة الدورانية للأرض)

٢_ دورة الأرض الكاملة مدتها ٢٤ ساعة .





الدرس الأول (الليل والنهار)



1- ماذا ينتج عن دوران الأرض حول الشمس ؟

.....الفصول الأربعة.....



2- اختر الصورة التي تمثل الليل



(.....✓.....)

(.....)


3- من خلال الصور التالية ومشاهدة الظل نكتب الوقت المناسب :



٥:٣٠ ع

١٢:٠٠ ظ

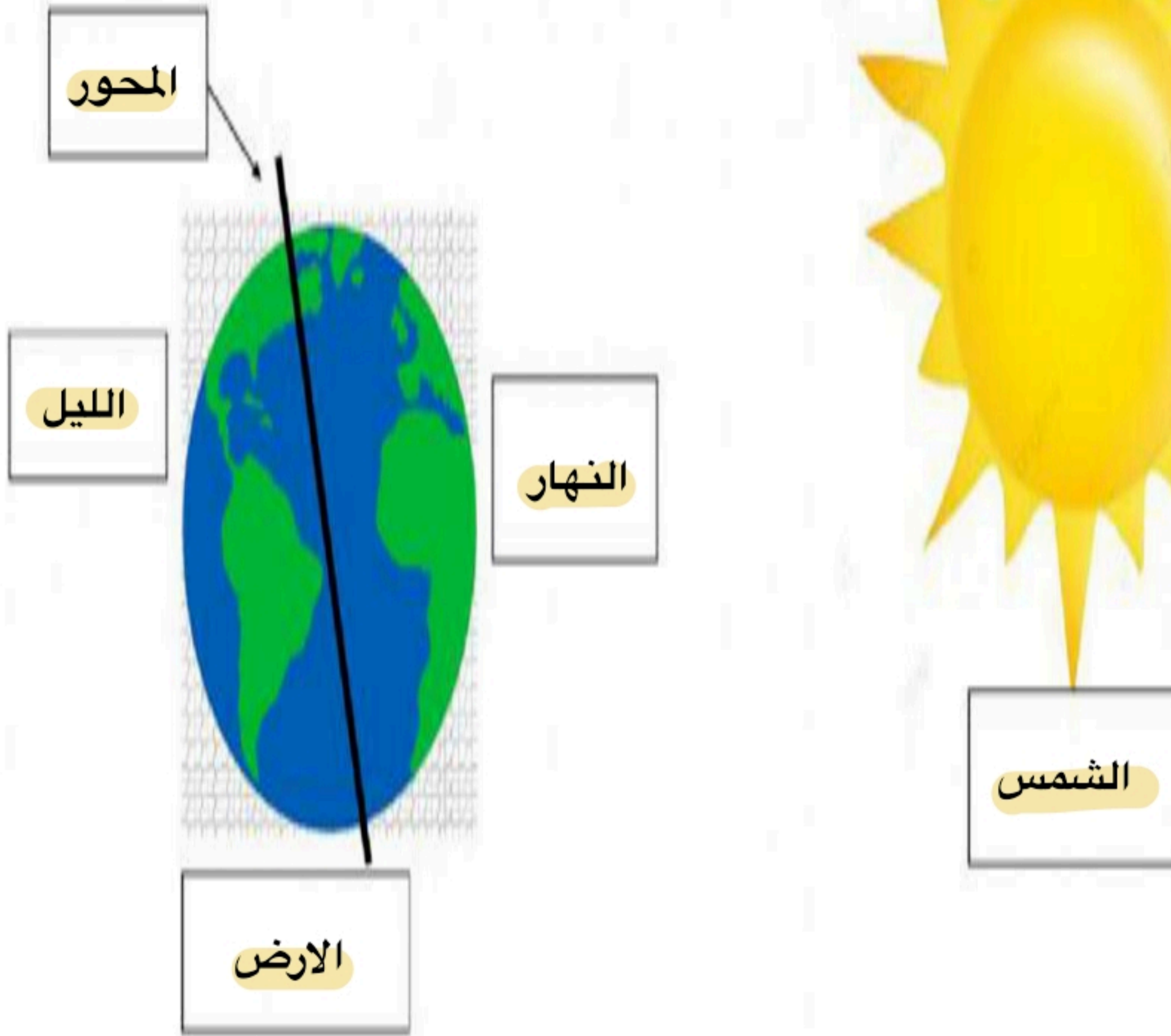
٨:٠٠ ص





الدرس الأول (الليل والنهار)

١- نكمل حسب المطلوب في الصورة :



الأرض الليل الشمس المحور النهار





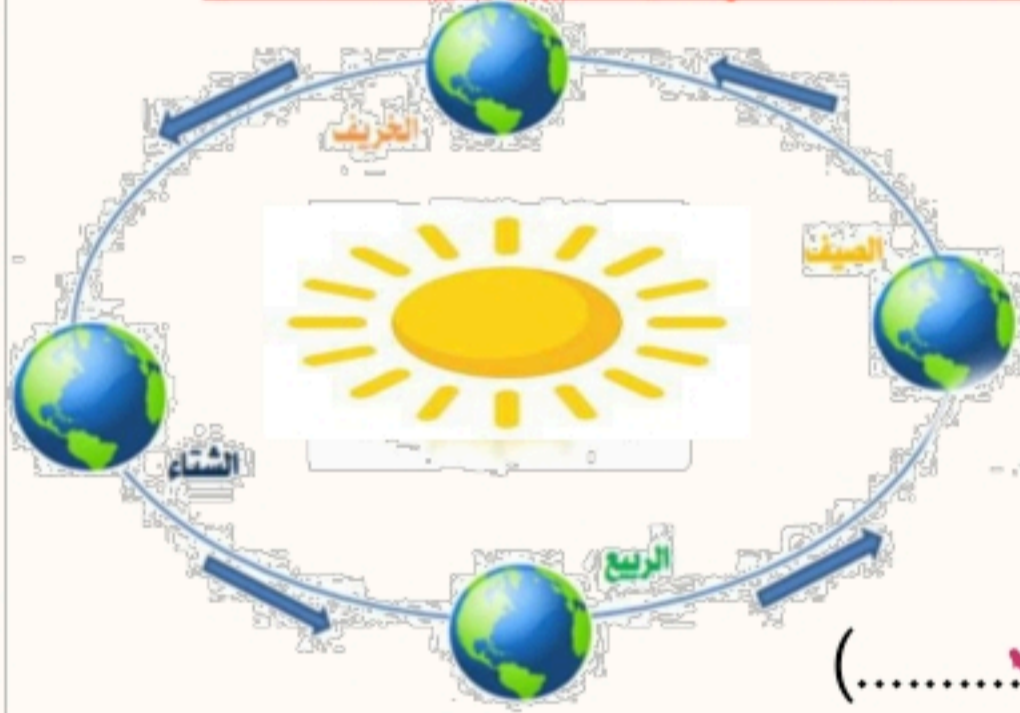
الدرس الثاني (سبب حدوث الفصول)

١- تحت كل صورة نكتب اسم الفصول الأربعة :



(...الربيع...) (....الخريف...) (....الصيف...) (....الشتاء...)

٢- في الصورة التالية مالمظاهرة التي تنتج عن دوران الأرض حول الشمس



.....الفصول الأربعة.....

٣- أجب عما يأتي بصح أو خطأ:

١- في الخريف يتغير لون أوراق الشجر (.....) ✓

٢- تتساقط الثلوج في فصل الصيف (.....) ✗



أو





الفصل الثامن (السماء) الدرس الأول (القمر والنجوم)

١- من خلال الكلمات التالية نكمل العبارات:

ثمانية

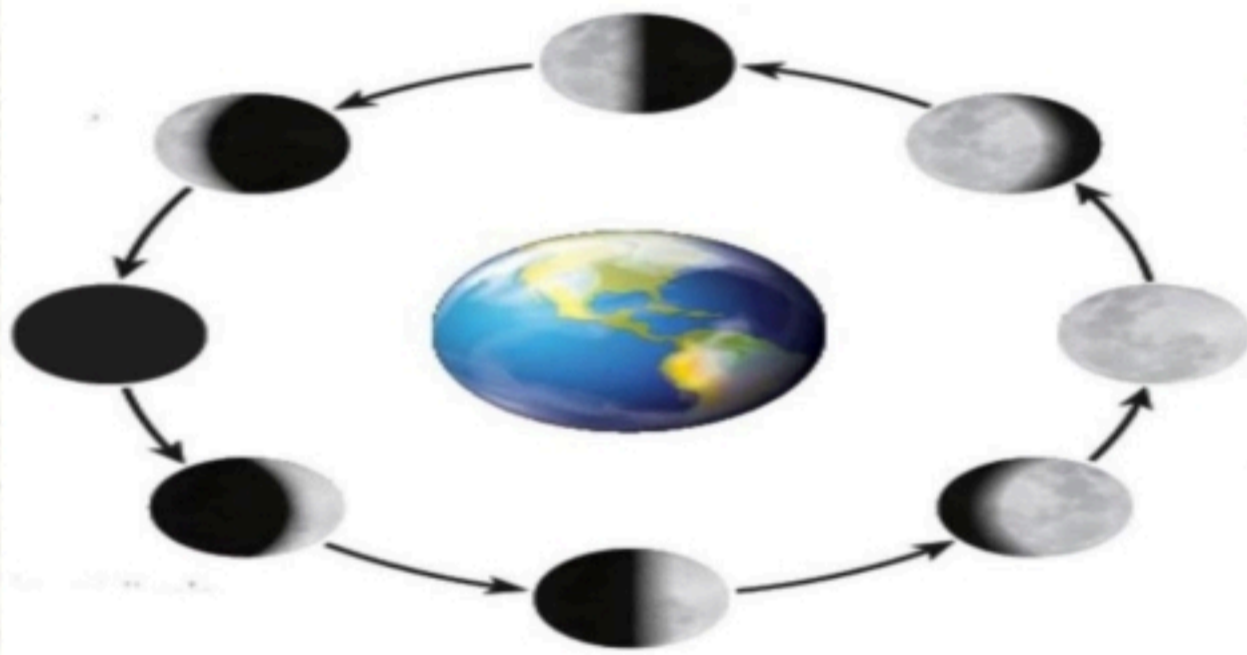
الكواكب

النجم

١- نظامنا الشمسي فيه.....**ثمانية**... كواكب

٢-.....**النجم**..... يصدر ضوء وحرارة

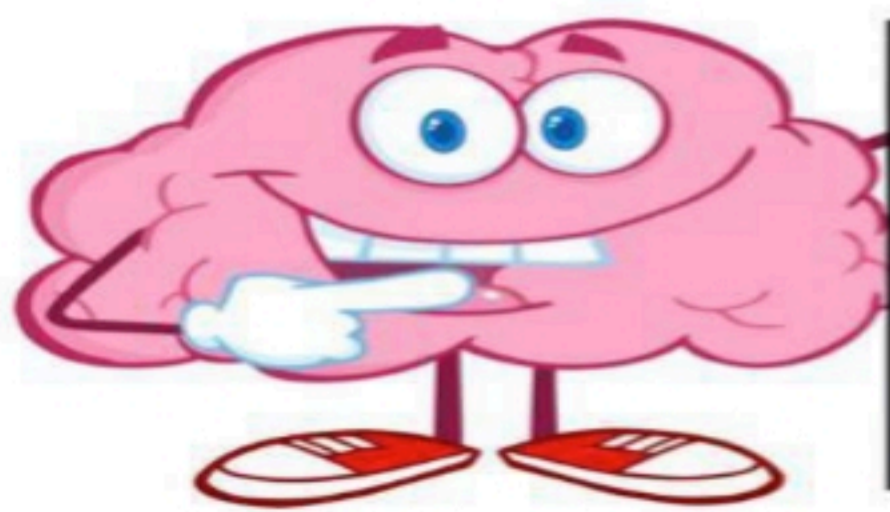
٣-.....**الكواكب**... جسم كروي يدور حول نجم



٢- ماذا نسمي اشكال القمر خلال الشهر

.....**اطوار القمر**.....


.....



صفات النجوم

مضيء

لامع






الدرس الأول (القمر والنجوم)



النجوم كلها مضيئة (.....✓.....)



مَنْ أَنَا؟

نجم متوسط الحجم , يبدو
كبيرا لأنه قريب من
الأرض

(..... الشمس)





الدرس الثاني (النظام الشمسي)




١_ مما يتكون نظامنا الشمسي؟

.....# الشمس

.....# كواكب

.....# أقمار

أين كوكب الأرض






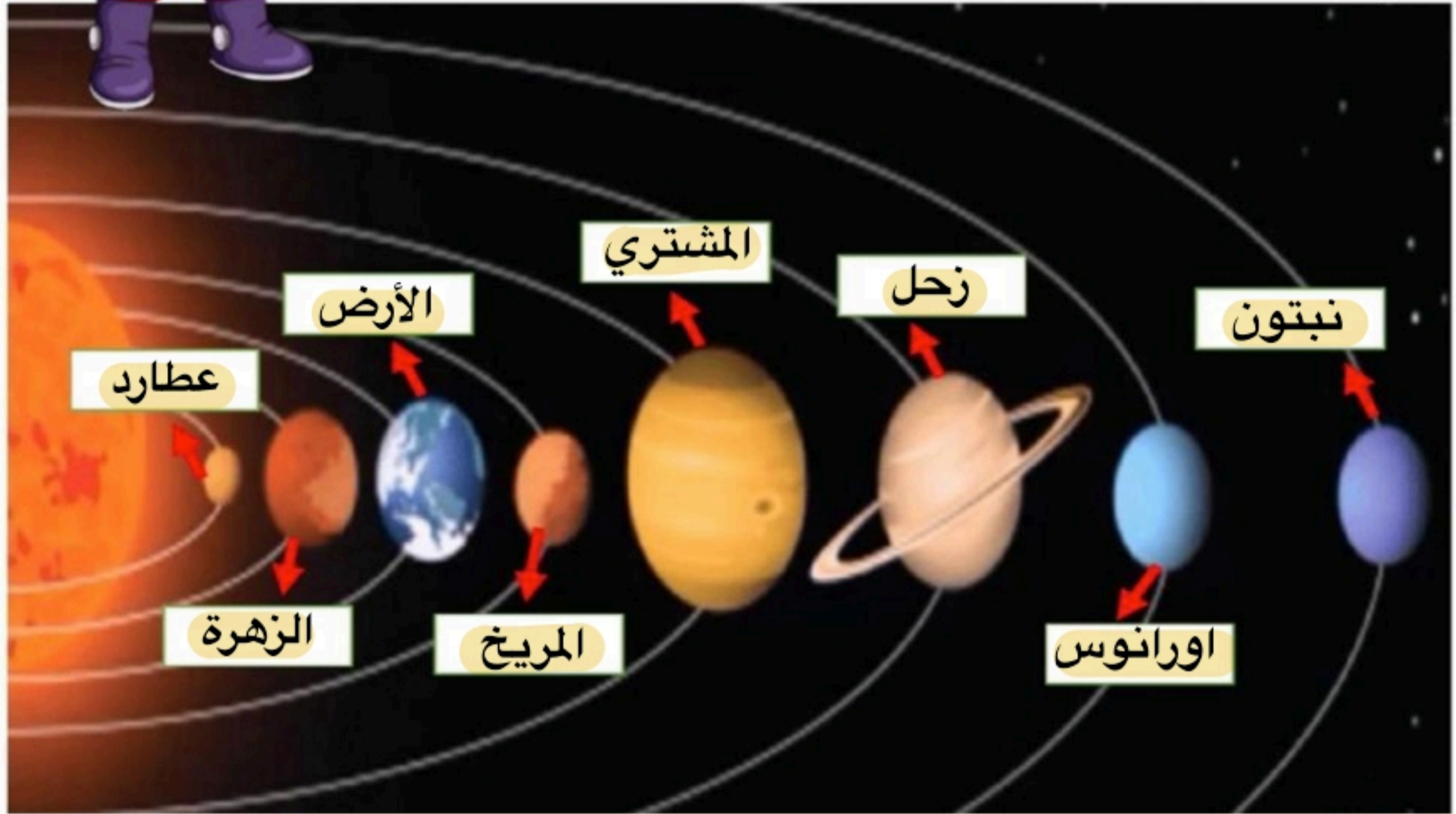
الدرس الثاني (النظام الشمسي)

١_ مالذي يدور حول الشمس ؟


.....الكواكب.....



الأرض عطارد المشتري
اورانوس نبتون الزهرة المريخ



2_ على الصورة السابقة ندون أسماء الكواكب في المكان المخصص





الدرس الثاني (النظام الشمسي)


١- نصل كل كوكب بالعبارة المناسبة له :

فيها ماء وهواء ولها قمر واحد

له حلقات حوله مكونة من الثلج والصخور

اكبر الكواكب وله 63 قمرا

اسخن الكواكب حيث تحجب سحبه الكثيفة
حرارة الشمس





الدرس الثاني (النظام الشمسي)

يترك الطالب

اقرأ ولون



زحل

