

تم تحميل وعرض المادة من منصة

حقيبتك

www.haqibati.net



منصة حقيبتك التعليمية

منصة حقيبتك هو موقع تعليمي يعمل على تسهيل العملية التعليمية بطريقة بسيطة وسهلة وتوفير كل ما يحتاجه المعلم والطالب لكافة الصفوف الدراسية كما يحتوي الموقع على حلول جميع المواد مع الشروح المتنوعة للمعلمين.

بسم الله الرحمن الرحيم

المملكة العربية السعودية		الفصل الدراسي الثاني
وزارة التعليم		المادة: الدراسات الاجتماعية
إدارة تعليم		الصف: الرابع الابتدائي
مدرسة		الزمن : ساعة

اسم الطالب :

رقم الجلوس :

رقما	كتابة	
١٥		السؤال الأول:
١٠		السؤال الثاني:
٩		السؤال الثالث:
٦		السؤال الرابع:
٤٠		المجموع :
	توقيعه	اسم المصحح
	توقيعه	اسم المراجع
	توقيعه	اسم المدقق

إختبار نهاية الفصل الدراسي الثاني (الدور الأول)

السؤال الأول: ضع علامة (√) أمام العبارة الصحيحة وعلامة (X) أمام العبارة الخاطئة:

١٥

١	المواطن الصالح هو من يلتزم النظام
٢	لا أتلفظ على الآخرين بألفاظ غير مناسبة عندما أتواصل معهم رقمياً
٣	لا يحق لي السخرية من الآخرين
٤	النشاط الاقتصادي هو إنتاج السلع والخدمات وتوزيعها وتبادلها واستهلاكها
٥	السلع هي كل ما يصنع وينتج مما يحتاج إليه الإنسان ويستهلكه في حياته
٦	الموارد هي الأشياء التي يعتمد عليها الإنتاج
٧	التبادل التجاري هو تداول السلع والخدمات بين الناس
٨	الجبل كتلة صخرية مرتفعة ولها قمة
٩	السهل أرض واسعة ومنبسطة
١٠	من فوائد التبادل التجاري أن نبيع إنتاجنا الوطني
١١	الإنتاج نوعان : إنتاج مادي وإنتاج غير مادي
١٢	الصحراء هي عبارة عن مسطحات مائية كبيرة
١٣	الأرض مستطيلة الشكل
١٤	أتواصل مع من لا أعرفهم عند إستعمال الانترنت
١٥	يدور القمر حول الأرض مره كل ستة أشهر

السؤال الثاني : إختار الإجابة الصحيحة:

١٠

١- ينقسم سطح الأرض إلى قسمين هما:	اليابسة والماء	الكواكب والنجوم	القمر والشمس
٢- شراء الدواء من الصيدلية هو:	استهلاك	رأس المال	بيع
٣- صناعة الدواء هو:	إنتاج	رأس المال	بيع
٤- كان الناس "قديمًا" يشترون السلع بـ:	السلع	الانترنت	البطاقة الذكية
٥- من حالات الادخار:	حفظ بعض المال	السياحة	الرياضة
٦- من حالات ترشيد الاستهلاك:	شراء سلع مرتفعة الثمن	شراء الألعاب غالية الثمن	إختيار الحقيبة ذات السعر الأقل
٧- المسطح المائي هو أرض مغمورة :	بالجبال	بالتلال	بالمياه
٨- أحد أشكال اليابسة :	الأنهار	البحار	الجبال

٩- تفصل بين المسطحات المائية :

المحيطات | البحار | اليابسة

١٠- يتكون المجتمع من عدة :

كواكب | قارات | أسر

السؤال الثالث: ضع الكلمات التالية في الفراغات المناسبة :

٩

آسيا - القمر - الخريطة - الثالث - ٢٩% - المفتاح - ٧١% - العنوان - المجتمع

١ الأسرة هي أساس

٢ من عناصر الخريطة و

٣ يقع وطني في قارة

٤ كوكب تابع للأرض غير مضيء

٥ هي رسم توضيحي لسطح الأرض أو لجزء منه

٦ تشكل اليابسة من سطح الأرض

٧ يشكل الماء من سطح الأرض

٨ تعد الأرض الكوكبقربا للشمس

السؤال الرابع : اختر من المجموعة (أ) مايناسبها في المجموعة (ب) مستعينا " بالأرقام"

٦

المجموعة (ب)	الأرقام	المجموعة (أ)
بين الأفراد		١ من حقوق الوالدين
تحديد الأماكن		٢ من مسؤولية الطالب رمي المخلفات
واجب أو عمل يلتزم الفرد أو المجتمع تنفيذه		٣ من عوامل نجاح العمل الجماعي
تحديد الهدف		٤ في العمل يجب توزيع الأعمال
في سلة المهملات		٥ من فوائد الخريطة
طاعتها		٦ المسؤولية

بسم الله الرحمن الرحيم

المملكة العربية السعودية		الفصل الدراسي الثاني
وزارة التعليم		المادة: الدراسات الاجتماعية
إدارة تعليم		الصف: الرابع الابتدائي
مدرسة		الزمن : ساعة

نموذج الاجابة

اسم الطالب :

رقم الجلوس :

كتابة	رقما	
	١٥	السؤال الأول:
	١٠	السؤال الثاني:
	٩	السؤال الثالث:
	٦	السؤال الرابع:
	٤٠	المجموع :
توقيعه		اسم المصحح
توقيعه		اسم المراجع
توقيعه		اسم المدقق



إختبار نهاية الفصل الدراسي الثاني (الدور الأول) لعام ١٤٤٦ هـ

السؤال الأول: ضع علامة (√) أمام العبارة الصحيحة وعلامة (X) أمام العبارة الخاطئة:

١٥	
√	١ المواطن الصالح هو من يلتزم النظام
√	٢ لا أتلفظ على الآخرين بألفاظ غير مناسبة عندما أتواصل معهم رقمياً
√	٣ لا يحق لي السخرية من الآخرين
√	٤ النشاط الاقتصادي هو إنتاج السلع والخدمات وتوزيعها وتبادلها واستهلاكها
√	٥ السلع هي كل ما يصنع وينتج مما يحتاج إليه الإنسان ويستهلكه في حياته
√	٦ الموارد هي الأشياء التي يعتمد عليها الإنتاج
√	٧ التبادل التجاري هو تداول السلع والخدمات بين الناس
√	٨ الجبل كتلة صخرية مرتفعة ولها قمة
√	٩ السهل أرض واسعة ومنبسطة
√	١٠ من فوائد التبادل التجاري أن نبيع إنتاجنا الوطني
√	١١ الإنتاج نوعان : إنتاج مادي وإنتاج غير مادي
X	١٢ الصحراء هي عبارة عن مسطحات مائية كبيرة
X	١٣ الأرض مستطيلة الشكل
X	١٤ أتواصل مع من لا أعرفهم عند إستعمال الانترنت
X	١٥ يدور القمر حول الأرض مره كل ستة أشهر

السؤال الثاني : إختار الإجابة الصحيحة:

١٠	
	١- ينقسم سطح الأرض إلى قسمين هما:
القمر والشمس	الكواكب والنجوم
	٢- شراء الدواء من الصيدلية هو:
بيع	رأس المال
	٣- صناعة الدواء هو:
بيع	رأس المال
	٤- كان الناس "قديمًا" يشترون السلع بـ:
البطاقة الذكية	الانترنت
	٥- من حالات الادخار:
الرياضة	السياحة
	٦- من حالات ترشيد الاستهلاك:
إختيار الحقيبة ذات السعر الأقل	شراء الألعاب غالية الثمن
	٧- المسطح المائي هو أرض مغمورة :
بالمياه	بالتلال
	٨- أحد أشكال اليابسة :
الجبال	البحار

٩- تفصل بين المسطحات المائية :

المحيطات البحار

اليابسة

١٠- يتكون المجتمع من عدة :

كواكب قارات

أسر

السؤال الثالث: ضع الكلمات التالية في الفراغات المناسبة :

٩

آسيا - القمر - الخريطة - الثالث - ٢٩% - المفتاح - ٧١% - العنوان - المجتمع

١ الأسرة هي أساس **المجتمع**

٢ من عناصر الخريطة **العنوان** و **المفتاح**

٣ يقع وطني في قارة **آسيا**

٤ **القمر** كوكب تابع للأرض غير مضيء

٥ **الخريطة** هي رسم توضيحي لسطح الأرض أو لجزء منه

٦ تشكل اليابسة من سطح الأرض **٢٩%**

٧ يشكل الماء من سطح الأرض **٧١%**

٨ تعد الأرض الكوكب **الثالث** قربا للشمس

السؤال الرابع : اختر من المجموعة (أ) مايناسبها في المجموعة (ب) مستعينا " بالأرقام"

٦

المجموعة (ب)	الأرقام	المجموعة (أ)
بين الأفراد	٤	١ من حقوق الوالدين
تحديد الأماكن	٥	٢ من مسؤولية الطالب رمي المخلفات
واجب أو عمل يلتزم الفرد أو المجتمع تنفيذه	٦	٣ من عوامل نجاح العمل الجماعي
تحديد الهدف	٣	٤ في العمل يجب توزيع الأعمال
في سلة المهملات	٢	٥ من فوائد الخريطة
طاعتها	١	٦ المسؤولية



المادة: الدراسات الاجتماعية		المملكة العربية السعودية.
الصف: رابع الابتدائي		وزارة التعليم.
التاريخ: / / ١٤٤٦ هـ		إدارة تعليم
اليوم:		مكتب تعليم
عدد الصفحات: ٣		مدرسة
اسم الطالب:		رقم الجلوس:

رقم السؤال	الدرجة التي حصلت عليها الطالبة		المصححة	المراجعة	المدققة
	رقمًا	كتابة			
الأول	١٠	فقط لا غير			
الثاني	١٥	فقط لا غير			
الثالث	١٥	فقط لا غير			
الرابع		فقط لا غير			
المجموع		فقط لا غير			

١٠

السؤال الأول: أ) أكمل الفراغات الآتية بوضع الكلمات المساعدة في مكانها المناسب:

كسوف الشمس	السياحة	٧١٪	الخريطة	الحقوق	آسيا
------------	---------	-----	---------	--------	------

- ١ / أكبر القارات في العالم هي قارة
- ٢ / يشكل الماء نسبة من سطح الأرض.
- ٣ / ما يستحقه الطلبة في حياتهم.
- ٤ / هي رسم توضيحي لسطح الأرض أو جزء منه.
- ٥ / احتجاب ضوء الشمس عن جزء من الأرض.....
- ٦ / من أنواع الإنتاج الغير المادي

ب) اربطى العمود (أ) بما يناسبه من العمود (ب) باستعمال الأرقام:

(أ)	الرقم	(ب)
١. الواحة		تحديد الهدف.
٢. من الموارد الطبيعية		طاعتها.
٣. من حقوق الوالدين		المياه والتربة.
٤. من عوامل نجاح العمل الجماعي		أرض خصبة بها مزارع وأشجار.

السؤال الثاني: ضعي علامة (✓) أمام العبارة الصحيحة و (X) أمام العبارة الخاطئة:

١٥

()	١. ينقسم سطح الأرض إلى قسمين: يابسة وماء.
()	٢. الادخار هو تخصيص جزء من المال وحفظه للمستقبل.
()	٣. من فوائد الخريطة تساعدنا على تحديد الأماكن.
()	٤. الأرض كروية الشكل.
()	٥. المواطن الصالح هو من يلتزم النظام.
()	٦. لا يحق لي السخرية من الآخرين بتاتاً..
()	٧. الجبل كتلة صخرية ولها قمة.
()	٨. الموارد هي الأشياء التي يعتمد عليها الإنتاج.
()	٩. من فوائد التبادل التجاري بيع إنتاجنا الوطني مثل النفط والتمور.
()	١٠. الأسرة هي أساس المجتمع.
()	١١. يزداد عدد السكان في المناطق الصحراوية.
()	١٢. أتواصل مع من لا أعرفهم عند استعمال الإنترنت.
()	١٣. من حالات ترشيد الاستهلاك شراء حقيبة مرتفعة الثمن.

(ب) اذكرى اثنان فقط من أنواع الطاقة: -

- ١-.....
- ٢-.....



السؤال الثالث اختاري الإجابة الصحيحة لكل فقرة من الفقرات التالية:

١٥

١	صناعة الدواء هو ..	انتاج	استهلاك	بيع
٢	ينتج عن حركة الأرض حول محورها ..	تعاقب الليل والنهار	الحرارة	الشتاء
٣	المسطح المائي هو أرض مغمورة:	بالمياه	بالجبال	بالتلال
٤	كان الناس قديماً يشترون السلع بـ:	السلع	البطاقة البنكية	الهاتف
٥	شراء الدواء من الصيدلية هو:	رأس مال	استهلاك	بيع
٦	من السلع الضرورية:	السيارات الفارهة	الأطعمة والملابس	المجوهرات
٧	من الموارد البشرية:	المصانع	المعلم والطبيب	رأس المال
٨	هو تداول السلع والخدمات بين الناس:	الموارد	التبادل التجاري	الصناعة
٩	أقل القارات سكاناً هي قارة:	أوروبا	أستراليا	أفريقيا
١٠	يدور القمر حول الأرض كل شهر	٣مرات	مرة واحدة	٦مرات
١١	من حقوق الأولاد:	الطاعة	حسن اختيار الاسم	الب ربهما
١٢	أحد أشكال اليابسة:	الأنهار	الجبال	البحار
١٣	يقصد به موضوع الخريطة وعنوانها:	مقياس الرسم	عنوان الخريطة	مفتاح الخريطة
١٤	يكون شكل القمر في أول الشهر:	محاق	هلالاً	بدر
١٥	أرض واسعة ومفتوحة قليلة الماء والنبات:	البحيرة	الصحراء	السهل

تمت الأسئلة والله الموفق ...

المادة: الدراسات الاجتماعية		المملكة العربية السعودية.
الصف: رابع الابتدائي		وزارة التعليم.
التاريخ: / / ١٤٤٦ هـ		إدارة تعليم
اليوم:		مكتب تعليم
عدد الصفحات: ٣		مدرسة
اسم الطالب:		رقم الجلوس:

رقم السؤال	الدرجة التي حصلت عليها الطالبة		رقم	المصححة	المراجعة	المدققة
	فقط لا غير	فقط لا غير				
الأول						
الثاني						
الثالث						
الرابع						
المجموع						

نموذج الاجابة

١٠

السؤال الأول: أ) أكمل الفراغات الآتية بوضع الكلمات المساعدة في مكانها المناسب:

كسوف الشمس	السياحة	٧١٪	الخريطة	الحقوق	آسيا
------------	---------	-----	---------	--------	------

- ١ / أكبر القارات في العالم هي قارة **آسيا**
- ٢ / يشكل الماء نسبة **٧١٪** من سطح الأرض.
- ٣ / **الحقوق** ما يستحقه الطلبة في حياتهم.
- ٤ / **الخريطة** هي رسم توضيحي لسطح الأرض أو جزء منه.
- ٥ / احتجاب ضوء الشمس عن جزء من الأرض **كسوف الشمس**
- ٦ / من أنواع الإنتاج الغير المادي **السياحة**

(ب) اربطى العمود (أ) بما يناسبه من العمود (ب) باستعمال الأرقام:

(أ)	الرقم	(ب)
١. الواحة	٤	تحديد الهدف.
٢. من الموارد الطبيعية	٣	طاعتها.
٣. من حقوق الوالدين	٢	المياه والتربة.
٤. من عوامل نجاح العمل الجماعي	١	أرض خصبة بها مزارع وأشجار.

السؤال الثاني: ضعي علامة (✓) أمام العبارة الصحيحة و (X) أمام العبارة الخاطئة:

١٥

(✓)	١. ينقسم سطح الأرض إلى قسمين: يابسة وماء.
(✓)	٢. الادخار هو تخصيص جزء من المال وحفظه للمستقبل.
(✓)	٣. من فوائد الخريطة تساعدنا على تحديد الأماكن.
(✓)	٤. الأرض كروية الشكل.
(✓)	٥. المواطن الصالح هو من يلتزم النظام.
(✓)	٦. لا يحق لي السخرية من الآخرين بتاتاً..
(✓)	٧. الجبل كتلة صخرية ولها قمة.
(✓)	٨. الموارد هي الأشياء التي يعتمد عليها الانتاج.
(✓)	٩. من فوائد التبادل التجاري بيع إنتاجنا الوطني مثل النفط والتمور.
(✓)	١٠. الأسرة هي أساس المجتمع.
(x)	١١. يزداد عدد السكان في المناطق الصحراوية.
(x)	١٢. أتواصل مع من لا أعرفهم عند استعمال الإنترنت.
(x)	١٣. من حالات ترشيد الاستهلاك شراء حقيبة مرتفعة الثمن.

(ب) اذكرى اثنان فقط من أنواع الطاقة: -

- ١- طاقة حرارية
٢- طاقة الرياح
٣ / طاقة ذرية
٤ / طاقة شمسية

السؤال الثالث اختاري الإجابة الصحيحة لكل فقرة من الفقرات التالية:

١٥

١	صناعة الدواء هو ..	انتاج	استهلاك	بيع
٢	ينتج عن حركة الأرض حول محورها ..	تعاقب الليل والنهار	الحرارة	الشتاء
٣	المسطح المائي هو أرض مغمورة:	بالمياه	بالجبال	بالتلال
٤	كان الناس قديماً يشترون السلع بـ:	السلع	البطاقة البنكية	الهاتف
٥	شراء الدواء من الصيدلية هو:	رأس مال	استهلاك	بيع
٦	من السلع الضرورية:	السيارات الفارهة	الأطعمة والملابس	المجوهرات
٧	من الموارد البشرية:	المصانع	المعلم والطبيب	رأس المال
٨	هو تداول السلع والخدمات بين الناس:	الموارد	التبادل التجاري	الصناعة
٩	أقل القارات سكاناً هي قارة:	أوروبا	أستراليا	أفريقيا
١٠	يدور القمر حول الأرض كل شهر	٣مرات	مرة واحدة	٦مرات
١١	من حقوق الأولاد:	الطاعة	حسن اختيار الاسم	الب ربهما
١٢	أحد أشكال اليابسة:	الأنهار	الجبال	البحار
١٣	يقصد به موضوع الخريطة وعنوانها:	مقياس الرسم	عنوان الخريطة	مفتاح الخريطة
١٤	يكون شكل القمر في أول الشهر:	محاق	هلالاً	بدر
١٥	أرض واسعة ومفتوحة قليلة الماء والنبات:	البحيرة	الصحراء	السهل

تمت الأسئلة والله الموفق ...

حقيبتنا

www.haqibati.net



المدقق	المراجع	المصحح	الدرجة		السؤال	المادة	الصف	الزمن	التاريخ	اسم الطالب	رقم الجلوس
			رقماً	كتابةً							
					اختبار الفصل الدراسي الثاني الدور الاول العام الدراسي 1446 هـ	دراسات اجتماعية	الرابع ابتدائي	ساعة ونصف			
					المجموع						

السؤال الأول:

أ/ ضع علامة $\sqrt{}$ أمام العبارة الصحيحة وعلامة X أمام العبارة الخاطئة:

15

1	النشاط الاقتصادي هو إنتاج السلع والخدمات وتوزيعها وتبادلها واستهلاكها
2	السلع هي كل ما يصنع وينتج مما يحتاج إليه الانسان ويستهلكه في حياته
3	الموارد هي الأشياء التي يعتمد عليها الانتاج
4	التبادل التجاري هو تداول السلع والخدمات بين الناس
5	الجبل كتلة صخرية مرتفعة ولها قمة
6	السهل أرض واسعة ومنبسطة
7	من فوائد التبادل التجاري أن نبيع إنتاجنا الوطني
8	الإنتاج نوعان : إنتاج مادي وإنتاج غير مادي
9	يعتبر الخبز والملابس من السلع الضرورية
10	المنتج هو الشخص الذي يصنع البضائع ويزرع الأرض
11	ينتج من دوران الأرض حول محورها تعاقب الليل والنهار
12	الصحراء هي أرض قاحلة تكون قليلة النبات والأمطار
13	نسبة اليابسة أكبر من المياه على سطح الأرض
14	من واجباتي في المدرسة عدم الحفاظ على نظافتها
15	اتواصل مع من لا أعرفهم عند استخدام الانترنت

ب/ أملأ الفراغات بما يناسبها من خلال الكلمات المساعدة:

الجزيرة	71%	الأرض	البحار	آسيا
---------	-----	-------	--------	------

10

1. أرض يابسة محاطة بالماء من جميع الجهات هي
2. يشكل الماء نسبة من سطح الأرض.
3. هي جزء من المجموعة الشمسية التي خلقها الله في الكون.
4. من أشكال المسطحات المائية على سطح الأرض
5. أكبر القارت في العالم قارة

السؤال الثاني : أ/ اختر الإجابة الصحيحة:

1- ينقسم سطح الأرض إلى قسمين هما :		
القمر والشمس	اليابس والماء	الكواكب والنجوم
2- شراء احتياجاتنا الضرورية هو :		
بيع	استهلاك	راس المال
3- صناعة الدواء هو :		
بيع	انتاج	راس مال
4- كان الناس "قديمًا" يشترون السلع بـ:		
البطاقة الذكية	السلع	الانترنت
5- من حالات الادخار :		
السياحة	حفظ بعض المال	الرياضة
6- من حالات ترشيد الاستهلاك :		
شراء الألعاب غالية الثمن	اختيار الحقيقية ذات السعر الأقل	شراء سلع مرتفعة الثمن
7- من أمثلة الموارد البشرية		
المعلمون	الأشجار	التربة
8- الاسرة هي اساس		
الصناعة	التجارة	المجتمع
9- شكل الأرض :		
مربع	كروي	مستطيل
10- يقع وطني في		
جنوب العالم	شرق العالم	قلب العالم
11- اقل القارات سكانا :		
افريقيا	استراليا	آسيا

ب/ اذكر اثنين من أهم حقوق الوالدين على الأبناء؟

-1

-2



انتهت الأسئلة

مع تمنياتي لكم بالتوفيق

حقيبتنا

www.haqibati.net



المدقق	المراجع	المصحح	الدرجة		السؤال	المادة	الصف	الزمن	التاريخ	اسم الطالب	رقم الجلوس
			رقماً	كتابةً							
						دراسات اجتماعية	الرابع ابتدائي	ساعة ونصف			
					اختبار الفصل الدراسي						
نموذج الاجابة											

السؤال الأول:

أ/ ضع علامة √ أمام العبارة الصحيحة وعلامة X أمام العبارة الخاطئة:

15

√	النشاط الاقتصادي هو إنتاج السلع والخدمات وتوزيعها وتبادلها واستهلاكها	1
√	السلع هي كل ما يصنع وينتج مما يحتاج إليه الانسان ويستهلكه في حياته	2
√	الموارد هي الأشياء التي يعتمد عليها الانتاج	3
√	التبادل التجاري هو تداول السلع والخدمات بين الناس	4
√	الجبل كتلة صخرية مرتفعة ولها قمة	5
√	السهل أرض واسعة ومنبسطة	6
√	من فوائد التبادل التجاري أن نبيع إنتاجنا الوطني	7
√	الإنتاج نوعان : إنتاج مادي وإنتاج غير مادي	8
√	يعتبر الخبز والملابس من السلع الضرورية	9
√	المنتج هو الشخص الذي يصنع البضائع ويزرع الأرض	10
√	ينتج من دوران الأرض حول محورها تعاقب الليل والنهار	11
√	الصحراء هي أرض قاحلة تكون قليلة النبات والأمطار	12
X	نسبة اليابسة أكبر من المياه على سطح الأرض	13
X	من واجباتي في المدرسة عدم الحفاظ على نظافتها	14
X	اتواصل مع من لا أعرفهم عند استخدام الانترنت	15

ب/ أملأ الفراغات بما يناسبها من خلال الكلمات المساعدة:

الجزيرة	71%	الأرض	البحار	آسيا
---------	-----	-------	--------	------

1. أرض يابسة محاطة بالماء من جميع الجهات هي.....الجزيره.....
2. يشكل الماء نسبة71%..... من سطح الأرض.
3.الأرض..... هي جزء من المجموعة الشمسية التي خلقها الله في الكون.
4. من أشكال المسطحات المائية على سطح الأرض..... البحار.....
5. أكبر القارت في العالم قارة.....اسيا.....

10

اقلب الصفحة

حقيبتك

www.haqibati.net



السؤال الثاني : أ/ اختر الإجابة الصحيحة:

1- ينقسم سطح الأرض إلى قسمين هما :		
القمر والشمس	اليابس والماء	الكواكب والنجوم
2- شراء احتياجاتنا الضرورية هو :		
بيع	استهلاك	راس المال
3- صناعة الدواء هو :		
بيع	انتاج	راس مال
4- كان الناس "قديمًا" يشترون السلع بـ:		
البطاقة الذكية	السلع	الانترنت
5- من حالات الادخار :		
السياحة	حفظ بعض المال	الرياضة
6- من حالات ترشيد الاستهلاك :		
شراء الألعاب غالية الثمن	اختيار الحقيبة ذات السعر الأقل	شراء سلع مرتفعة الثمن
7- من أمثلة الموارد البشرية		
المعلمون	الأشجار	التربة
8- الاسرة هي اساس		
الصناعة	التجارة	المجتمع
9- شكل الأرض :		
مربع	كروي	مستطيل
10- يقع وطني في		
جنوب العالم	شرق العالم	قلب العالم
11- اقل القارات سكانا :		
افريقيا	استراليا	آسيا

ب/ اذكر اثنين من أهم حقوق الوالدين على الأبناء؟

1- طاعة الوالدين

2- برهم

انتهت الأسئلة

مع تمنياتي لكم بالتوفيق



المصحح : التوقيع:
المراجع : التوقيع:
الدرجة كتابة: درجة

اسم الطالب : رقم الجلوس ()

السؤال الأول / اختر الإجابات الصحيحة فيما يلي بوضع دائرة حولها:

١	من أمثلة الموارد البشرية	أ	المعلمون	ب	الأشجار	ج	التربة
٢	صناعة الدواء تعتبر	أ	انتاج	ب	استهلاك	ج	رأس مال
٣	من أشكال اليابسة	أ	الجبال	ب	الأنهار	ج	المحيطات
٤	أرض منخفضة تجري فيها المياه عند هطول الأمطار	أ	الوادي	ب	النهر	ج	الواحة
٥	يسمى العمل الذي يشترك به اثنان أو أكثر وتكون المهام موزعة عليهم بالعمل	أ	الجماعي	ب	الفردى	ج	التنظيمى
٦	كان الناس يشترون السلع بـ	أ	السلع (المقايضة)	ب	تحويل الأموال	ج	البطاقة
٧	هو احتجاب ضوء الشمس عن القمر عندما يكون بديراً	أ	خسوف القمر	ب	كسوف الشمس	ج	منازل القمر
٨	شكل الأرض	أ	كروي	ب	مثلث	ج	مربع
٩	أقل القارات سكاناً	أ	أوروبا	ب	استراليا	ج	أفريقيا
١٠	هو تخصيص جزء من المال وحفظه	أ	البيع	ب	الشراء	ج	الادخار

السؤال الثانى /

أ - أذكر اثنان من السلع :

١ -
٢ -

ب - أذكر اثنان من عناصر الخريطة

١ -
٢ -

السؤال الثالث/ ضع علامة (√) أمام العبارات الصحيحة وعلامة (x) أمام العبارات غير الصحيحة:

١٠

()	١. يعتبر الخبز والملابس من السلع الضرورية
()	٢. شهر رجب من الأشهر القمرية (الهجرية)
()	٣. الصحراء تكون كثيرة الأمطار والنباتات
()	٤. المنتج هو الشخص الذي يصنع البضائع ويزرع الأرض
()	٥. نسبة اليابسة أكبر من نسبة المياه على سطح الأرض
()	٦. ينتج عن دوران الأرض حول محورها تعاقب الليل والنهار
()	٧. الخريطة هي رسم توضيحي لسطح الأرض أو لجزء منه
()	٨. من حقوق الطلبة في المدارس الغذاء السليم
()	٩. يدور القمر حول الأرض في السنة ٣٦٥ مرة
()	١٠. من صور ترشيد استهلاك المياه ترك الصنبور مفتوحاً بعد الاستخدام

السؤال الرابع / ضع الكلمات الموجودة في الجدول التالي في الفراغ المناسب:

٦

%٧١

الأرض

المجتمع

آسيا

البحار

الجزيرة

١. يشكل الماء نسبة من سطح الأرض .

٢. الأسرة هي أساس

٣. من أشكال المسطحات المائية على سطح الأرض

٤. أكبر القارات في العالم هي قارة

٥. هي جزء من المجموعة الشمسية التي خلقها الله في الكون .

٦. أرض يابسة محاطة بالماء من جميع الجهات هي

---- انتهت الأسئلة ----

المصحح: التوقيع

اسم الطالب:
رقم الجلوس ()

نموذج الاجابة

السؤال الأول / اختر الإجابات الصحيحة فيما يلي بوضع دائرة حولها:

١	من أمثلة الموارد البشرية	أ	المعلمون	ب	الأشجار	ج	التربة
٢	صناعة الدواء تعتبر	أ	انتاج	ب	استهلاك	ج	رأس مال
٣	من أشكال اليابسة	أ	الجبال	ب	الأنهار	ج	المحيطات
٤	أرض منخفضة تجري فيها المياه عند هطول الأمطار	أ	الوادي	ب	النهر	ج	الواحة
٥	يسمى العمل الذي يشترك به اثنان أو أكثر وتكون المهام موزعة عليهم بالعمل	أ	الجماعي	ب	الفردى	ج	التنظيمى
٦	كان الناس يشترون السلع بـ	أ	السلع (المقايضة)	ب	تحويل الأموال	ج	البطاقة
٧	هو احتجاب ضوء الشمس عن القمر عندما يكون بديراً	أ	خسوف القمر	ب	كسوف الشمس	ج	منازل القمر
٨	شكل الأرض	أ	كروي	ب	مثلث	ج	مربع
٩	أقل القارات سكاناً	أ	أوروبا	ب	استراليا	ج	أفريقيا
١٠	هو تخصيص جزء من المال وحفظه	أ	البيع	ب	الشراء	ج	الادخار

السؤال الثانى /


أ - أذكر اثنان من السلع :

١ - خبز , ملابس , مأكولات
٢ - مجهورات , سيارات , ادوية

ب - أذكر اثنان من عناصر الخريطة

١ - الاطار , مفتاح الخريطة , عنوان الخريطة
٢ - مقياس الرسم , تحديد الاتجاه

انظر خلف الورقة



السؤال الثالث/ ضع علامة (√) أمام العبارات الصحيحة وعلامة (x) أمام العبارات غير الصحيحة:

١٠

(صح)	١. يعتبر الخبز والملابس من السلع الضرورية
(صح)	٢. شهر رجب من الأشهر القمرية (الهجرية)
(خطأ)	٣. الصحراء تكون كثيرة الأمطار والنباتات
(صح)	٤. المنتج هو الشخص الذي يصنع البضائع ويزرع الأرض
(خطأ)	٥. نسبة اليابسة أكبر من نسبة المياه على سطح الأرض
(صح)	٦. ينتج عن دوران الأرض حول محورها تعاقب الليل والنهار
(صح)	٧. الخريطة هي رسم توضيحي لسطح الأرض أو لجزء منه
(صح)	٨. من حقوق الطلبة في المدارس الغذاء السليم
(خطأ)	٩. يدور القمر حول الأرض في السنة ٣٦٥ مرة
(خطأ)	١٠. من صور ترشيد استهلاك المياه ترك الصنبور مفتوحاً بعد الاستخدام

السؤال الرابع / ضع الكلمات الموجودة في الجدول التالي في الفراغ المناسب:

٦

الجزيرة	البحار	آسيا	المجتمع	الأرض	%٧١
١. يشكل الماء نسبة %٧١ من سطح الأرض .					
٢. الأسرة هي أساس المجتمع .					
٣. من أشكال المسطحات المائية على سطح الأرض البحار .					
٤. أكبر القارات في العالم هي قارة آسيا .					
٥. الأرض هي جزء من المجموعة الشمسية التي خلقها الله في الكون .					
٦. أرض يابسة محاطة بالماء من جميع الجهات هي الجزيرة .					

----- انتهت الأسئلة -----

اختبار مادة الدراسات الاجتماعية للصف الرابع الابتدائي لعام ١٤٤٦ هـ

اسم الطالبة :

رقم	السؤال	الدرجة كتاباً	الدرجة رقماً	المصححة	المراجعة
١٣	السؤال الأول				
١٣	السؤال الثاني				
٦	السؤال الثالث				
٦	السؤال الرابع				
٢	السؤال الخامس				
	الدرجة النهائية	رقماً	كتابة		
	40				

ضعي علامة (√) امام الإجابات الصحيحة وعلامة (x) امام الإجابة الخاطئة:

١. من السلع الضرورية التي نستخدمها في حياتنا الأطعمة والملابس. ()
٢. الموارد البشرية هم الناس الذين يعملون. ()
٣. المنتج هو الذي يستعمل السلع والخدمات. ()
٤. من صور ترشيد الاستهلاك إطفاء الأجهزة التي لا تحتاجها. ()
٥. من أنواع الإنتاج المادي التعليم. ()
٦. الجبل كتلة صخرية مرتفعة ولها قمة. ()
٧. الأرض كروية الشكل. ()
٨. يعد الأرض الكوكب الأول قريباً من الشمس. ()
٩. كسوف الشمس هو احتجاز ضوء الشمس عن جزء من القمر. ()
١٠. ينتج عن دوران الأرض حول محورها الفصول الأربعة. ()
١١. تقع شبه الجزيرة العربية في الجنوب الغربي لقارة آسيا. ()
١٢. كان العرب قديماً يعبدون الاصنام والكواكب. ()
١٣. اتسم العرب قديماً بالأخلاق الحميدة مثل الكرم والشجاعة. ()

اختاري الإجابات الصحيحة فيما يلي :

١	هو تبادل السلع والخدمات بين الناس :	السلع	الخدمات	التبادل التجاري
٢	كان شراء السلع قديماً عن طريق :	البطاقة	الانترنت	المقايضة
٣	شراء الدواء من الصيدلية هو:	ان-٦-تاج	استهلاك	رأس المال
٤	تحيط بها المياه من جميع الاتجاهات هي :	الجزيرة	الوادي	الصحراء

٥	كوكب تابع للأرض غير مضي ويعكس ضوء الشمس هو :	زحل	القمر	المريخ
٦	أحد اشكال اليابسة	الصحراء	الأنهار	الثلوج
٧	تتجه رحله قريش في فصل الشتاء الى :	مصر	العراق	اليمن
٨	يدور القمر حول الأرض كل شهر :	مرة واحدة	ثلاث مرات	مرتين
٩	يكون القمر في أول الشهر:	بدرًا	محاق	هلالاً
١٠	كان سكان شبة الجزيرة العربية يعملون في :	الصناعة	الرعي	التعليم
١١	يقع المسجد الحرام وقبلة المسلمين في:	المدينة	مكة	الرياض
١٢	يوجد مسجد القبلتين في :	الطائف	تبوك	المدينة المنورة
١٣	أرض واسعة مفتوحة قليلة الماء والنبات :	الجبال	الجزيرة	الصحراء

السؤال الثالث :

٦

أكمل الفراغات بالإجابات الصحيحة فيما يلي :

١. الشهر التاسع من شهور السنة الهجرية هو
٢. يكون القمر في منتصف الشهر
٣. رسم توضيحي لسطح الأرض أو جزء منه
٤. الخريطة الرقمية هي خريطة
٥. ولد النبي عليه الصلاة والسلام في
٦. ينتسب العرب الباقية الى و

السؤال الرابع :

٦

صلي عبارات المجموعة (أ) بما يناسبها في المجموعة (ب) باستعمال الأرقام :

ب	أ	م
الشام <input type="checkbox"/>	دفن النبي عليه السلام في	١
الحرارية <input type="checkbox"/>	من آثار وطني	٢
المدينة المنورة <input type="checkbox"/>	من أشكال الماء	٣
البحار <input type="checkbox"/>	من أمثلة الطاقة	٤
الأطباء <input type="checkbox"/>	من الموارد البشرية	٥
العلا <input type="checkbox"/>	تتجه رحلة الصيف لقبيلة قريش	٦

السؤال الخامس :

٢

أجيبني على ما هو مطلوب منك :

١ / اذكرني اثنان من عناصر الخريطة

١-.....

٢-.....

٢ / اذكرني حركات دوران الأرض :

١-.....

٢-.....

تمت الأسئلة

والله الموفق ...

المملكة العربية السعودية

وزارة التعليم

الإدارة العامة للتعليم بمنطقة المدينة المنورة

مكتب تعليم شرق



التاريخ : / / ١٤٤٦ هـ
الفصل الدراسي / الثاني (الدور الأول)
الوقت /

اختبار مادة الدراسات الاجتماعية للصف الرابع الابتدائي لعام ١٤٤٦ هـ

اسم الطالب

نموذج الإجابة

رقم السؤال	الدرجة كتابة	الدرجة رقماً	المصححة	المراجعة
السؤال الأول				
١٣				
السؤال الثاني				
١٣				
السؤال الثالث				
٦				
السؤال الرابع				
٦				
السؤال الخامس				
٢				
الدرجة النهائية	رقماً	كتابة		
٤٠				

السؤال الأول :

١٣

١٣

ضعي علامة (√) امام الإجابات الصحيحة وعلامة (x) امام الإجابة الخاطئة:

١. من السلع الضرورية التي نستخدمها في حياتنا الأطعمة والملابس. (√) ①
٢. الموارد البشرية هم الناس الذين يعملون. (√) ①
٣. المنتج هو الذي يستعمل السلع والخدمات. (x) ①
٤. من صور ترشيد الاستهلاك إطفاء الأجهزة التي لا تحتاجها. (√) ①
٥. من أنواع الإنتاج المادي التعليم. (x) ①
٦. الجبل كتلة صخرية مرتفعة ولها قمة. (√) ①
٧. الأرض كروية الشكل . (√) ①
٨. يعد الأرض الكوكب الأول قريباً من الشمس. (x) ①
٩. كسوف الشمس هو احتجاز ضوء الشمس عن جزء من القمر. (√) ①
١٠. ينتج عن دوران الأرض حول محورها الفصول الأربعة . (x) ①
١١. تقع شبة الجزيرة العربية في الجنوب الغربي لقارة آسيا. (√) ①
١٢. كان العرب قديماً يعبدون الاصنام والكواكب . (√) ①
١٣. اتسم العرب قديماً بالأخلاق الحميدة مثل الكرم والشجاعة. (√) ①

السؤال الثاني :

١٣

١٣

اختاري الإجابات الصحيحة فيما يلي :

١	هو تبادل السلع والخدمات بين الناس :	السلع	الخدمات	التبادل التجاري	①
٢	كان شراء السلع قديماً عن طريق :	البطاقة	الانترنت	المقايضة	①
٣	شراء الدواء من الصيدلية هو:	ان-٦-تاج	استهلاك	رأس المال	①
٤	تحيط بها المياه من جميع الاتجاهات هي :	الجزيرة	الوادي	الصحراء	①

٥	كوكب تابع للأرض غير مضي ويعكس ضوء الشمس هو :	زحل	القمر	المريخ	①
٦	أحد اشكال اليابسة	الصحراء	الأنهار	الثلوج	①
٧	تتجه رحله قريش في فصل الشتاء الى :	مصر	العراق	اليمن	①
٨	يدور القمر حول الأرض كل شهر :	مرة واحدة	ثلاث مرات	مرتين	①
٩	يكون القمر في أول الشهر:	بدرًا	محاق	هلالاً	①
١٠	كان سكان شبة الجزيرة العربية يعملون في :	الصناعة	الرعي	التعليم	①
١١	يقع المسجد الحرام وقبلة المسلمين في:	المدينة	مكة	الرياض	①
١٢	يوجد مسجد القبلتين في :	الطائف	تبوك	المدينة المنورة	①
١٣	أرض واسعة مفتوحة قليلة الماء والنبات :	الجبال	الجزيرة	الصحراء	①

٦
٦

السؤال الثالث :

أكمل الفراغات بالإجابات الصحيحة فيما يلي :

- ① ١. الشهر التاسع من شهور السنة الهجرية هو رمضان المبارك
- ① ٢. يكون القمر في منتصف الشهر بدرًا
- ① ٣. رسم توضيحي لسطح الأرض أو جزء منه الخريطة
- ① ٤. الخريطة الرقمية هي خريطة الكترونية
- ① ٥. ولد النبي عليه الصلاة والسلام في مكة المكرمة
- ① ٦. ينتسب العرب الباقية الى قحطان و عدنان

حقيبتنا

www.haqibati.net



السؤال الرابع :

صلي عبارات المجموعة (أ) بما يناسبها في المجموعة (ب) باستعمال الأرقام :

م	أ	ب
١	دفن النبي عليه السلام في	① الشام ٦
٢	من آثار وطني	① الحرارية ٤
٣	من أشكال الماء	① المدينة المنورة ١
٤	من أمثلة الطاقة	① البحار ٣
٥	من الموارد البشرية	① الأطباء 5
٦	تتجه رحلة الصيف لقبيلة قريش	① العلا 2

السؤال الخامس :

أجيبني على ما هو مطلوب منك :

١ / اذكرني اثنان من عناصر الخريطة :

١- الاطار - مقياس الرسم - عنوان الخريطة . ½

٢- رموز الخريطة - الاتجاه . ½

٢ / اذكرني حركات دوران الأرض :

١- حول محورها . ½

٢- حول الشمس . ½

تمت الأسئلة

والله الموفق ...

معلمة المادة : نورا العمري

حقيبتين

www.haqibati.net



١	كان الناس قديماً يشترون السلع بـ :	أ	الإنترنت	ب	السلع	ج	البطاقات الذكية	د	الهاتف
٢	يزداد عدد السكان في:	أ	الصحاري	ب	أعلى الجبال	ج	المناطق الساحلية	د	قارة قطبية جنوبية
٣	من مسؤولياتي أن:	أ	استعمل الأجهزة بمسؤولية	ب	لا أحترم الآخرين	ج	أعبر عن رأيي بعنف	د	أتلطف بكلمات غير مقبولة
٤	كوكب تابع للأرض غير مضيء، وهو يعكس لنا ضوء الشمس:	أ	نبتون	ب	أورانوس	ج	المشتري	د	القمر
٥	من الكلمات التي تدل على الإنتاج المادي:	أ	الخدمات	ب	صناعة السيارات	ج	السياحة	د	التعليم في المدارس
٦	من الأمثلة على السلع الغير ضرورية:	أ	الأدوية	ب	الملابس	ج	المجوهرات	د	الطعام الأساسي
٧	تبدأ الشهور القمرية الهجرية بشهر:	أ	ذي الحجة	ب	صفر	ج	شعبان	د	محرم
٨	أرض يابسة محاطة بالماء من جميع الجهات:	أ	الجزيرة	ب	الوادي	ج	شبه الجزيرة	د	السهل
٩	المسطح المائي هو أرض مغمورة بـ :	أ	الرمال	ب	المياه	ج	الشعب المرجانية	د	الهضاب
١٠	عند احتجاب ضوء الشمس عن جزء من الأرض وذلك عندما يتوسط القمر بينهما يحدث:	أ	خسوف القمر	ب	دوران القمر حول الأرض	ج	السنة القمرية	د	كسوف الشمس
١١	تشرق الشمس من جهة:	أ	الغرب	ب	الشمال	ج	الشرق	د	الجنوب
١٢	من الأمثلة على الموارد البشرية:	أ	المعلمون	ب	النفط	ج	المعادن	د	الأشجار

(ب) ضعي المصطلح المناسب ممايلي:

(النشاط الاقتصادي - السنة القمرية - الأسرة - المواطن الصالح - الخريطة الرقمية - الجبل - الموارد - الإدخار)

١	المدة التي يأخذها القمر ليتم ١٢ دورة (١٢ شهراً) حول الأرض.	()
٢	المواطن الذي يتقيد بالنظام ويشعر بالمسؤولية ويؤدي الواجبات وينتمي لوطنه ويحرص على أمنه.	()
٣	هي الأشياء التي يعتمد عليها الإنتاج.	()
٤	هو انتاج السلع والخدمات وتوزيعها وتبادلها واستهلاكها.	()
٥	خريطة إلكترونية، ويمكن الحصول عليها من التطبيقات الحاسوبية.	()
٦	تخصيص جزء من المال وحفظه لتلبية الاحتياجات في المستقبل.	()
٧	كتلة صخرية مرتفعة ولها قمة.	()
٨	هي أساس المجتمع وتتكون من أب وأم وأولاد.	()

السؤال الثاني/

(أ) صلي العمود أ بما يناسبه من العمود ب:

١٢

العمود ب	الرقم
بشرية وطبيعية
أسيا
كروية
الحصول على تغذية صحية
في سلة المهملات

العمود أ	
١	شكل الأرض
٢	من مسؤولية الطالب رمي المخلفات
٣	يقع وطني في قارة
٤	أنواع الموارد
٥	من حقوق الفرد

(ب) ضعي علامة ✓ أمام العبارة الصحيحة، وعلامة ✗ أمام العبارة الخاطئة ممايلي:

١	تدور الأرض حول الشمس، وينتج عن ذلك تعاقب الليل والنهار.	()
٢	لا أتواصل مع من لا أعرفهم عند استعمال الإنترنت.	()
٣	الأرض جزء من المجموعة الشمسية.	()
٤	إعادة كتاب مستعار وتقديم الهدايا يعد من التبادل التجاري.	()
٥	من الواجبات طاعة ولي الأمر.	()
٦	تتكون اليابسة من كتل كبرى من اليابس تسمى كل منها قارة.	()
٧	عندما تشتري شيئاً من متجر أو تستفيد من خدمات تعليمية فأنت منتج.	()

السؤال الثالث /

(أ) أكمل الفراغات التالية بما يناسبها من الكلمات:

تحديد الأماكن ومواقعها

بدرأ

نهي العمل سريعاً

إغلاق الحنفية عند الانتهاء

١- نستطيع عندما نعمل معاً أن

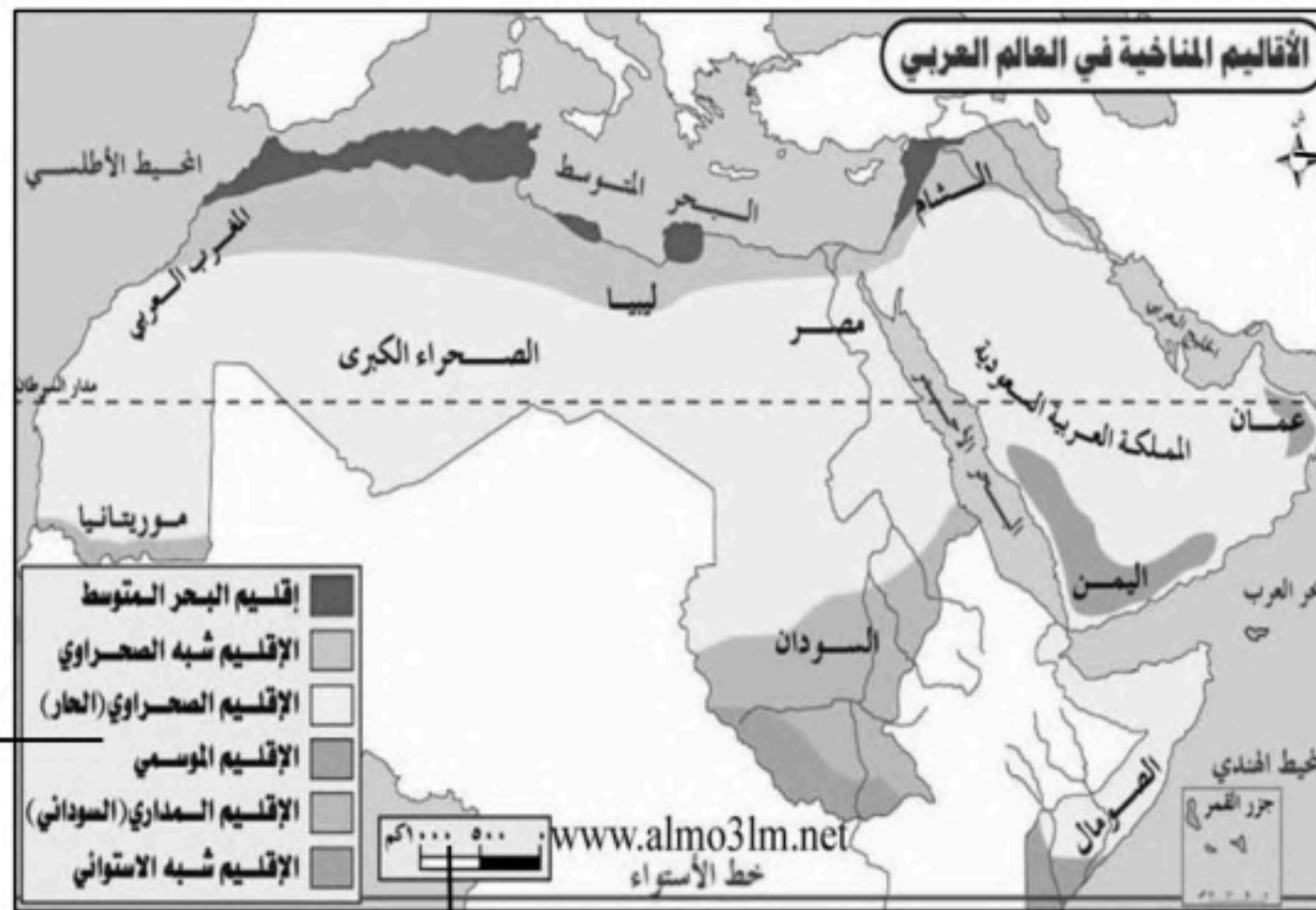
٢- تساعدنا الخريطة على

٣- من صور ترشيد الاستهلاك

٤- يكون القمر في منتصف الشهر عندما نراه بصورته الدائرية الكاملة.

(ب) ضعي العناصر في مكانها المناسب على الخريطة:

(مفتاح الخريطة - الإطار - تحديد الاتجاه - مقياس الرسم)



انتهت الأسئلة

مع تمنياتي لكن بالتوفيق والنجاح

نموذج الإجابة

السؤال الأول/

(أ) اختاري الإجابة الصحيحة مما يلي:

١	كان الناس قديماً يشترون السلع بـ :	أ	الإنترنت	ب	السلع ✓	ج	البطاقات الذكية	د	الهاتف
٢	يزداد عدد السكان في:	أ	الصحاري	ب	أعلى الجبال	ج	المناطق الساحلية ✓	د	قارة قطبية جنوبية
٣	من مسؤولياتي أن:	أ	استعمل الأجهزة بمسؤولية ✓	ب	لا أحترم الآخرين	ج	أعبر عن رأيي بعنف	د	أتلفظ بكلمات غير مقبولة
٤	كوكب تابع للأرض غير مضيء، وهو يعكس لنا ضوء الشمس:	أ	نبتون	ب	أورانوس	ج	المشتري	د	القمر ✓
٥	من الكلمات التي تدل على الإنتاج المادي:	أ	الخدمات	ب	صناعة السيارات ✓	ج	السياحة	د	التعليم في المدارس
٦	من الأمثلة على السلع الغير ضرورية:	أ	الأدوية	ب	الملابس	ج	المجوهرات ✓	د	الطعام الأساسي
٧	تبدأ الشهور القمرية الهجرية بشهر:	أ	ذي الحجة	ب	صفر	ج	شعبان	د	محرم ✓
٨	أرض يابسة محاطة بالماء من جميع الجهات:	أ	الجزيرة ✓	ب	الوادي	ج	شبه الجزيرة	د	السهل
٩	المسطح المائي هو أرض مغمورة بـ :	أ	الرمال	ب	المياه ✓	ج	الشعب المرجانية	د	الهضاب
١٠	عند احتجاب ضوء الشمس عن جزء من الأرض وذلك عندما يتوسط القمر بينهما يحدث:	أ	خسوف القمر	ب	دوران القمر حول الأرض	ج	السنة القمرية	د	كسوف الشمس ✓
١١	تشرق الشمس من جهة:	أ	الغرب	ب	الشمال	ج	الشرق ✓	د	الجنوب
١٢	من الأمثلة على الموارد البشرية:	أ	المعلمون ✓	ب	النفط	ج	المعادن	د	الأشجار

يتبع ←

صفحة (٢)

(ب) ضعي المصطلح المناسب ممايلي:

(النشاط الاقتصادي - السنة القمرية - الأسرة - المواطن الصالح - الخريطة الرقمية - الجبل - الموارد - الإدخار)

السنة القمرية	المدة التي يأخذها القمر ليتم ١٢ دورة (١٢ شهراً) حول الأرض.	١
المواطن الصالح	المواطن الذي يتقيد بالنظام ويشعر بالمسؤولية ويؤدي الواجبات وينتمي لوطنه ويحرص على أمنه.	٢
الموارد	هي الأشياء التي يعتمد عليها الإنتاج.	٣
النشاط الاقتصادي	هو انتاج السلع والخدمات وتوزيعها وتبادلها واستهلاكها.	٤
الخريطة الرقمية	خريطة إلكترونية، ويمكن الحصول عليها من التطبيقات الحاسوبية.	٥
الإدخار	تخصيص جزء من المال وحفظه لتلبية الاحتياجات في المستقبل.	٦
الجبل	كتلة صخرية مرتفعة ولها قمة.	٧
الأسرة	هي أساس المجتمع وتتكون من أب وأم وأولاد.	٨

السؤال الثاني/

(أ) صلي العمود أ بما يناسبه من العمود ب:

١٢

العمود ب	الرقم
بشرية وطبيعية	٤
أسيا	٣
كروية	١
الحصول على تغذية صحية	٥
في سلة المهملات	٢

العمود أ	
شكل الأرض	١
من مسؤولية الطالب رمي المخلفات	٢
يقع وطني في قارة	٣
أنواع الموارد	٤
من حقوق الفرد	٥

(ب) ضعي علامة ✓ أمام العبارة الصحيحة، وعلامة ✗ أمام العبارة الخاطئة ممايلي:

(✗)	١	تدور الأرض حول الشمس، وينتج عن ذلك تعاقب الليل والنهار. محورها
(✓)	٢	لا أتواصل مع من لا أعرفهم عند استعمال الإنترنت.
(✓)	٣	الأرض جزء من المجموعة الشمسية.
(✗)	٤	إعادة كتاب مستعار وتقديم الهدايا <u>يعد</u> من التبادل التجاري. لا يعد
(✓)	٥	من الواجبات طاعة ولي الأمر.
(✓)	٦	تتكون اليابسة من كتل كبرى من اليابس تسمى كل منها قارة.
(✗)	٧	عندما تشتري شيئاً من متجر أو تستفيد من خدمات تعليمية فأنت <u>منتج</u> . مستهلك

يتبع ←

موقع واجباتي



صفحة (٣)

السؤال الثالث/

(أ) أكمل الفراغات التالية بما يناسبها من الكلمات:

تحديد الأماكن ومواقعها

بدرأ

نهي العمل سريعاً

إغلاق الحنفية عند الانتهاء

١- نستطيع عندما نعمل معاً أن نهي العمل سريعاً

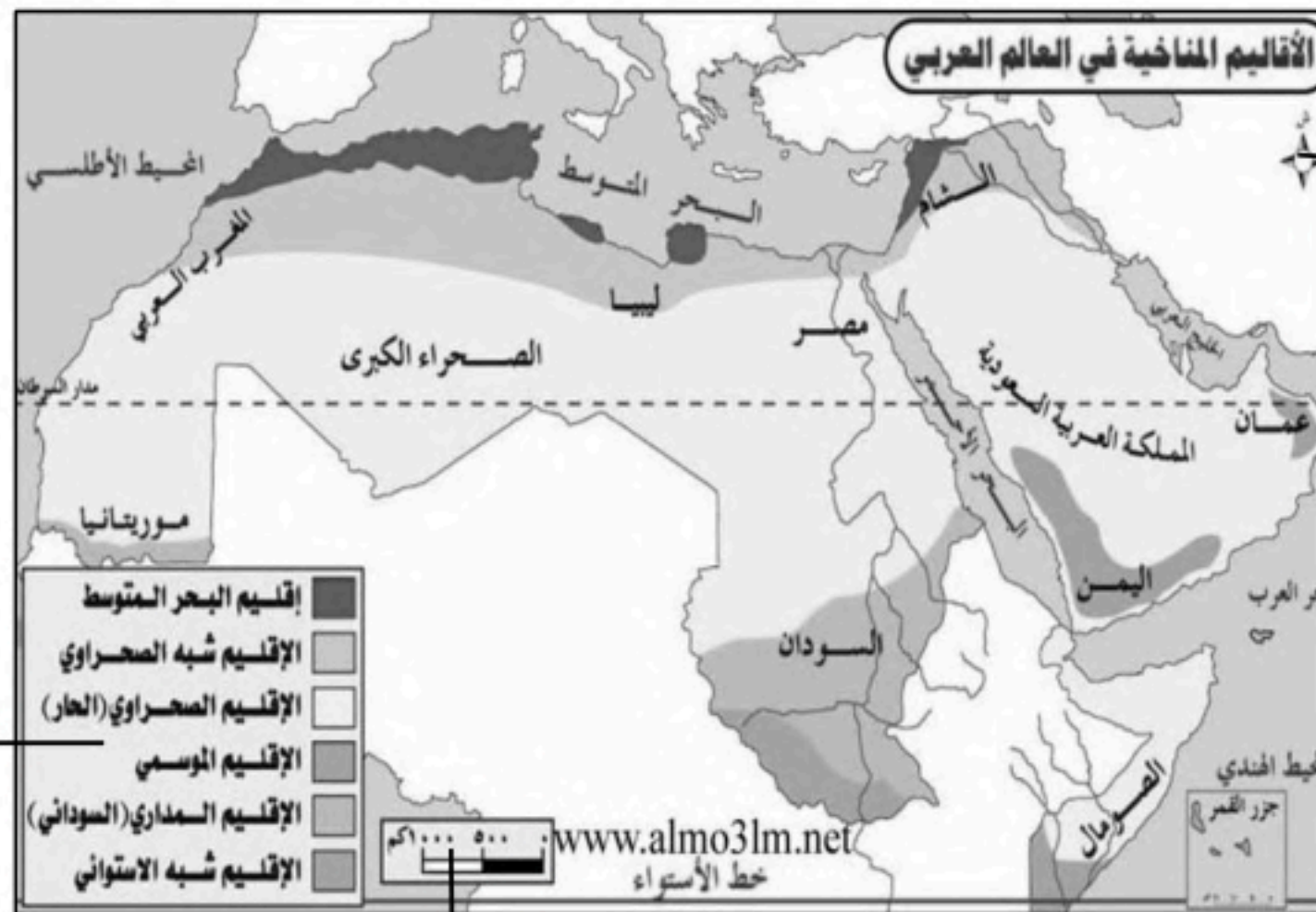
٢- تساعدنا الخريطة على تحديد الأماكن ومواقعها

٣- من صور ترشيد الاستهلاك إغلاق الحنفية عند الانتهاء

٤- يكون القمر في منتصف الشهر بدرأ عندما نراه بصورته الدائرية الكاملة.

(ب) ضعي العناصر في مكانها المناسب على الخريطة:

(مفتاح الخريطة - الإطار - تحديد الاتجاه - مقياس الرسم)



تحديد الاتجاه

الإطار

مفتاح الخريطة

مقياس الرسم

انتهت الأسئلة

مع تمنياتي لكن بالتوفيق والنجاح



وزارة التعليم
Ministry of Education

أسئلة الاختبار لمادة الاجتماعيات الدور الأول الفصل
الدراسي الثاني للعام الدراسي ١٤٤٦ هـ

الدرجة

اجتماعيات

المادة:

الصف:

الرابع

٤٠

ساعة

الزمن

المصحح:.....

اسم الطالب:.....

السؤال الأول: ضع علامة (✓) أمام العبارة الصحيحة وعلامة (X) أمام العبارة الخاطئة:

١٥

١	المواطن الصالح هو من يلتزم النظام.
٢	لا أتلفظ على الآخرين بألفاظ غير مناسبة عندما أتواصل معهم رقمياً.
٣	لا يحق لي السخرية من الآخرين .
٤	النشاط الاقتصادي هو إنتاج السلع والخدمات وتوزيعها وتبادلها واستهلاكها.
٥	السلع هي كل ما يصنع وينتج مما يحتاج إليه الانسان ويستهلكه في حياته.
٦	الموارد هي الأشياء التي يعتمد عليها الانتاج.
٧	التبادل التجاري هو تداول السلع والخدمات بين الناس.
٨	الجبل كتلة صخرية مرتفعة ولها قمة.
٩	السهل أرض واسعة ومنبسطة .
١٠	من فوائد التبادل التجاري: أن نبيع إنتاجنا الوطني.
١١	الإنتاج نوعان : إنتاج مادي وإنتاج غير مادي.
١٢	الصحراء: هي عبارة عن مسطحات مائية كبيرة.
١٣	الأرض مستطيلة الشكل .
١٤	أتواصل مع من لا أعرفهم عند إستعمال الانترنت.
١٥	يدور القمر حول الأرض مره كل ستة أشهر .

السؤال الثاني : اختر من المجموعة (أ) مايناسبها في المجموعة (ب) مستعينا " بالأرقام"

٦

المجموعة (أ)	الأرقام	المجموعة (ب)
١ من حقوق الوالدين		واجب أو عمل يلتزم الفرد أو المجتمع تنفيذه
٢ من مسؤولية الطالب رمي المخلفات		تحديد الأماكن
٣ من عوامل نجاح العمل الجماعي		بين الأفراد
٤ في العمل يجب توزيع الأعمال		تحديد الهدف
٥ من فوائد الخريطة		في سلة المهملات
٦ المسؤولية		طاعتها

السؤال الثالث : اختر الإجابة الصحيحة:

١٠

١- ينقسم سطح الأرض إلى قسمين هما:		
اليابسة والماء	الكواكب والنجوم	القمر والشمس
٢- شراء الدواء من الصيدلية هو:		
استهلاك	رأس المال	بيع
٣- صناعة الدواء هو:		
إنتاج	رأس المال	بيع
٤- كان الناس "قديمًا" يشترون السلع بـ:		
السلع	الانترنت	البطاقة الذكية
٥- من حالات الادخار:		
حفظ بعض المال	السياحة	الرياضة
٦- من حالات ترشيد الاستهلاك:		
شراء سلع مرتفعة الثمن	شراء الألعاب غالية الثمن	إختيار الحقيبة ذات السعر الأقل
٧- المسطح المائي هو أرض مغمورة :		
بالجبال	بالتلال	بالمياه
٨- أحد أشكال اليابسة :		
الأنهار	البحار	الجبال
٩- تفصل بين المسطحات المائية :		
المحيطات	البحار	اليابسة
١٠- يتكون المجتمع من عدة :		
كواكب	قارات	أسر

السؤال الرابع : ضع الكلمات التالية في الفراغات المناسبة :

٩

الجبال - ٧١٪ - ٢٩٪ - الخريطة - القمر - آسيا - المفتاح - العنوان - المجتمع

١	الأسرة هي أساس
٢	من عناصر الخريطة و
٣	يقع وطني في قارة
٤ كوكب تابع للأرض غير مضيء
٥ هي رسم توضيحي لسطح الأرض أو لجزء منه
٦	تشكل اليابسة من سطح الأرض
٧	يشكل الماء من سطح الأرض
٨	أحد أشكال اليابسة.....

المملكة العربية السعودية
إدارة التعليم
الابتدائية :

المادة : الدراسات الاجتماعية
عدد الأسئلة : ٣
الزمن : ساعة فقط

أسئلة مادة الدراسات الاجتماعية للصف الرابع الابتدائي الفصل الثاني (الدور الأول) للعام الدراسي ١٤٤٦ هـ

اجيبي على الأسئلة التالية

السؤال الأول :

أ/ اكتبى المدلول المناسب أمام المصطلحات التالية :

(.....) جرم سماوي تابع للأرض غير مضيء

(.....) كتلة صخرية مرتفعة عن الأرض ولها قمة

(.....) رسم توضيحي لسطح الأرض أو جزء منة

(.....) تخصيص جزء من المال وحفظه لتلبية الاحتياجات في المستقبل

ب/ مثلي لما يلي : (يكتفى بواحد)

١- نوع من الطاقة

٢- إنتاج مادي

٣- السلع الضرورية

٤- مورد بشري

ج - علكي مايلي :

١- تخلو القارة القطبية الجنوبية من السكان

٢- لا يسقط الناس الذين يسكنون في جنوب الكرة الأرض

السؤال الثاني :

أ - ضعي علامة (√) أمام العبارة الصحيحة وعلامة (x) امام العبارة الخاطئة فيما يلي :

- ١- المواطن الصالح هو الذي يتقيد بالنظام وينتمي لوطنه ()
- ٢- من حالات ترشيد الاستهلاك شراء الألعاب غالية الثمن ()
- ٣- تعتبر الأودية شكل من أشكال سطح الأرض ()
- ٤- يزداد عدد السكان في المناطق الصحراوية ()

ب - إكملي الفراغات التالية بعبارات مناسبة

- ١- يسمى القمر في منتصف الشهر
- ٢- تشكل نسبة الماء على سطح الأرض
- ٣- تساعدنا الخريطة على تحديد
- ٤- ينتج من دوران الأرض حول الشمس

ج - قارني بين الجزيرة وشبة الجزيرة

شبة الجزيرة	الجزيرة



السؤال الثالث :

أ- ضعي دائرة حول الحرف الذي يحمل الإجابة الصحيحة فيما يلي :

١- كان الناس قديما يشترون السلع بـ

أ- البطاقة البنكية ب- المال ج- المقايضة

٢- يقع وطني المملكة العربية السعودية في قارة

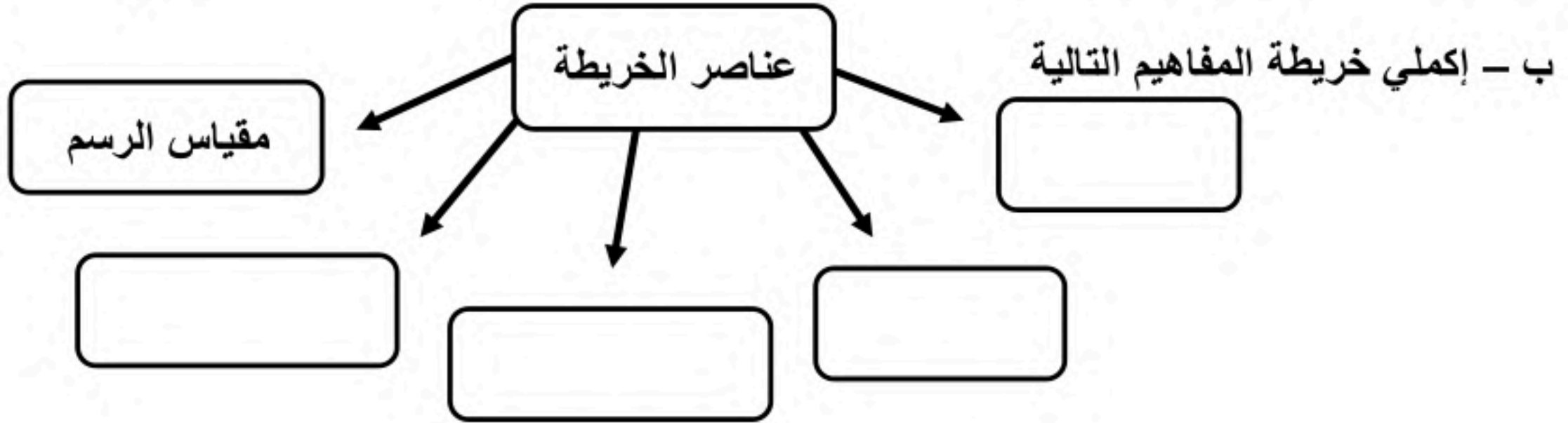
أ- أوروبا ب- أفريقيا ج- آسيا

٣- عدد المحيطات على سطح الأرض

أ- ثلاثة ب- أربعة ج- خمسة

٤- تصدر المملكة العربية السعودية وطني على الدول الأخرى

أ- السيارات ب- الأجهزة الكهربائية ج- النفط



ج- (وجبة غذائية - احترام النظام - أداء الواجبات - غرفة فصل مكيفه)

صنفي العبارات السابقة الى حقوق و واجبات في الجدول التالي

حقوق	واجبات

- إنتهت الأسئلة -

(٣)

معلمة المادة /

موقع واجباتي



التاريخ : 8 / 1446 هـ
الفصل الدراسي / الثاني
الدور الأول
الوقت / ساعة ونصف



المملكة العربية السعودية
وزارة التعليم
الإدارة العامة للتعليم بمنطقة

اختبار مادة الدراسات الاجتماعية للصف الرابع الابتدائي لعام 1446 هـ

اسم الطالبة :

رقم الجلوس:

رقم السؤال	الدرجة كتابة	الدرجة رقماً	المصححة	المراجعة
السؤال الأول 15				
السؤال الثاني 15				
السؤال الثالث 10				
الدرجة النهائية	رقماً	كتابة		
40				

15

السؤال الأول:

أ) اختاري الإجابات الصحيحة فيما يلي:


1	من عناصر الخريطة ويقصد بها موضوع الخريطة ونوعها:	أ) عنوان الخريطة	ب) مقياس الرسم	ج) الاطار
2	شراء الدواء من الصيدلية هو:	أ) استهلاك	ب) إنتاج	ج) مورد
3	كوكب تابع للأرض غير مضيء يعكس ضوء الشمس هو:	أ) القمر	ب) المشتري	ج) زحل
4	كان الناس قديماً يشترون السلع بـ:	أ) السلع	ب) الإنترنت	ج) المال
5	أرض واسعة قليلة الماء والنبات:	أ) الهضبة	ب) الصحراء	ج) السهل
6	يكون القمر في أول الشهر:	أ) هلالاً	ب) محاقاً	ج) بدرًا
7	أقل قارات العالم سكاناً هي قارة:	أ) أفريقيا	ب) أوروبا	ج) أستراليا
8	واجب أو عمل يلتزم الفرد أو المجتمع تنفيذه مفهوم:	أ) المسؤولية	ب) النظام	ج) المواطن الصالح
9	ينتج عن حركة الأرض حول محورها:	أ) تعاقب الليل والنهار	ب) الحرارة	ج) الشتاء
10	يدور القمر حول الأرض كل شهر:	أ) مرة واحدة	ب) مرتين	ج) أربع مرات
11	من الموارد البشرية:	أ) المعلم والطبيب	ب) المعادن	ج) الشركات
12	المسطح المائي هو أرض مغمورة بـ:	أ) التلال	ب) المياه	ج) الجزر
13	من حقوق الأولاد:	أ) حسن اختيار الاسم	ب) الطاعة	ج) البر بهما
14	هو تداول السلع والخدمات بين الناس:	أ) التبادل التجاري	ب) الاقتصاد	ج) الصناعة
15	أحد أشكال اليابسة:	أ) الجبال	ب) البحار	ج) الأنهار



أ) ضع علامة (✓) امام الإجابات الصحيحة وعلامة (x) امام الإجابة الخاطئة :	
()	1. الادخار هو تخصيص جزء من المال وحفظه للمستقبل.
()	2. من نتائج تنوع الفصول الأربعة التنوع البيئي.
()	3. الموارد هي الأشياء التي يعتمد عليها الإنتاج.
()	4. تتكون السنة القمرية من 12 شهر .
()	5. أقسام سطح الأرض : اليابسة والماء
()	6. الخبز من السلع الضرورية .
()	7. الجبل كتلة صخرية لها قمة .
()	8. لا يحق لي السخرية من الآخرين بتاتاً.
()	9. تصدر المملكة التمور والنفط للدول الأخرى.
()	10. المواطن الصالح هو من يلتزم النظام
()	11. من حالات ترشيد الاستهلاك شراء حقيبة مرتفعة الثمن.
()	12. أتواصل مع من لا أعرفهم عند استعمال الإنترنت.
()	13. يزداد عدد السكان في المناطق الصحراوية.

2

ب) أكمل الفصول الأربعة على المخطط السهمي التالي :



حقيبتين

www.haqibati.net



أ) اربطي بين العبارات في القائمة (أ) بما يناسبها في القائمة (ب) في الجدول التالي بالاستعانة بالأرقام:

القائمة (أ)	الرقم	القائمة (ب)
1_ الواحة	()	تحديد الهدف
2_ من الموارد الطبيعية	()	عدة أسر
3_ من مصادر الطاقة	()	الرياح
4_ يتكون المجتمع من	()	المياه والتربة
5_ من عوامل نجاح العمل الجماعي	()	أرض خصبة بها مزارع وأشجار
	()	الانتاج

ب) _ أكمل الفراغات التالية بوضع الكلمات الآتية في الفراغ المناسب فيما يلي :

الخريطة كسوف الشمس الحقوق كروي السياحة

1. هو احتجاب ضوء الشمس عن جزء من الأرض
2. ما يستحقه الطلبة في حياتهم.....
3. رسم توضيحي لسطح الأرض أوجز منه
4. شكل الأرض
5. من أنواع الإنتاج غير المادي

تمت الأسئلة

معلمة المادة : حنان الحربي